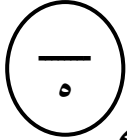


التاريخ: / / م

المادة: رياضيات - الصف الثاني

٢- حوِّط القيمة المنزلية للرقم الذي تحته خط:



٤٤

٤ أو ٤٠

٦٣

٣ أو ٣٠

٢٥

٥ أو ٥٠

٩١

٩ أو ٩٠

٥٨

٨ أو ٨٠

١٧

١ أو ١٠

موقع
المناهج البحرينية
almanahj.com/bh

٣- اكتب عدد الآحاد وعدد العشرات:

آحاد	عشرات
٨	٢

٢٨ = آحاد و عشرات

..... = +

آحاد	عشرات
١	٧

٧١ = آحاد و عشرات

..... = +

التاريخ: / / م

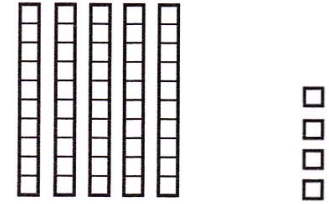
المادة: رياضيات - الصف الثاني

١- اكتب العدد:



آحاد	عشرات

.....

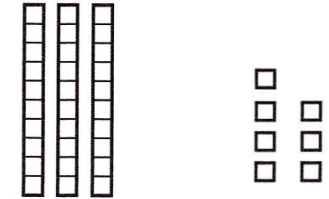


..... آحاد و عشرات

..... = +

آحاد	عشرات

.....



..... آحاد و عشرات

..... = +

آحاد	عشرات

.....



..... آحاد و عشرات

..... = +