

تم تحميل هذا الملف من موقع المناهج البحرينية



الملف شرح درس الزمن

[موقع المناهج](#) ⇐ ⇐ [الصف الثاني](#) ⇐ [رياضيات](#) ⇐ [الفصل الأول](#)

روابط مواقع التواصل الاجتماعي بحسب الصف الثاني



روابط مواد الصف الثاني على تلغرام

[الرياضيات](#)

[اللغة الانجليزية](#)

[اللغة العربية](#)




[التربية الاسلامية](#)

المزيد من الملفات بحسب الصف الثاني والمادة رياضيات في الفصل الأول

| | |
|---|---|
| حل كتاب الطالب | 1 |
| حل كتاب التمارين | 2 |
| حل كتاب التمارين | 3 |
| كتاب الطالب الجزء الأول | 4 |
| كتاب التمارين الجزء الأول | 5 |

الاسم : الصف : الثاني / التاريخ : / / م

س ٤ : ضع علامة (✓) على النشاط الذي يستهلك زمناً أطول:



س ٥ : قَدِّر الزمن اللازم لكل حدث ، ثم حوِّط الإجابة الصحيحة:

٢- أداء صلاة الظهر والعصر :




- ثانية واحدة.
- دقيقة واحدة.
- ساعة واحدة.

١- لعب كرة السلة :



- ثانية واحدة.
- دقيقة واحدة.
- ساعة واحدة.

٥- إطفاء المصباح :



- ثانية واحدة.
- دقيقة واحدة.
- ساعة واحدة.

٤- زيارة الأهل والأقارب :



- ثانية واحدة.
- دقيقة واحدة.
- ساعة واحدة.

٣- غسل اليدين :



- ثانية واحدة.
- دقيقة واحدة.
- ساعة واحدة.