

شكراً لتحميلك هذا الملف من موقع المناهج البحرينية



مراجعة الزمن أنشطة تعزيزية

[موقع المناهج](#) ← [المناهج البحرينية](#) ← [الصف الثاني](#) ← [رياضيات](#) ← [الفصل الأول](#) ← [الملف](#)

تاريخ نشر الملف على موقع المناهج: 08:11:33 2024-02-18

التواصل الاجتماعي بحسب الصف الثاني



روابط مواد الصف الثاني على تلغرام

[الرياضيات](#)

[اللغة الانجليزية](#)

[اللغة العربية](#)

[التربية الاسلامية](#)

المزيد من الملفات بحسب الصف الثاني والمادة رياضيات في الفصل الأول

| | |
|--|---|
| كراسة الرياضيات | 1 |
| نشاط في وحدة الكسور | 2 |
| نشاط تقييمي في وحدة الكسور | 3 |
| نشاط الكسور في الرياضيات 3 | 4 |
| نشاط الكسور في الرياضيات | 5 |

إعداد الأستاذ: السيد حسين الموسوي

الصف: ٢ /

التاريخ: / /

مراجعة الزمن

مملكة البحرين


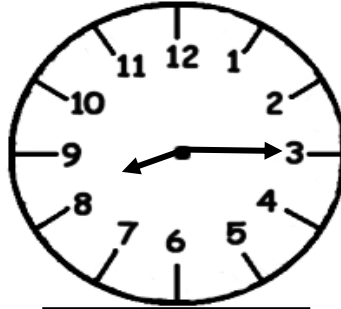
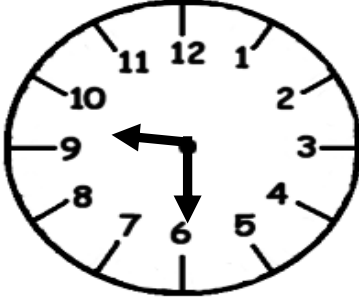
وزارة التربية والتعليم

مدرسة بلبار الابتدائية للبنين

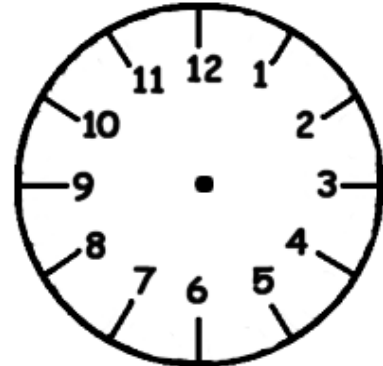
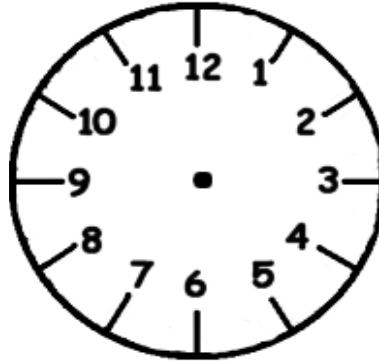
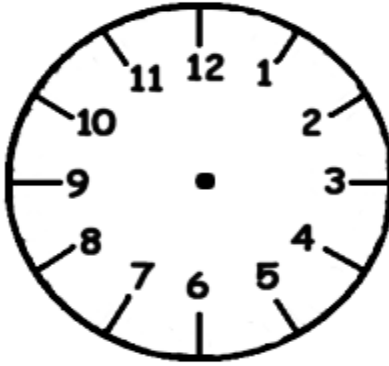
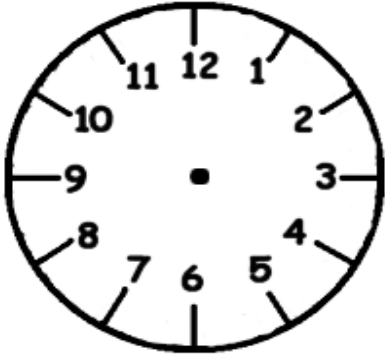
الاسم: _____

الكفاية: يتعامل مع وحدات القياس الأساسية.

١. اكتب الوقت الذي تشير إليه الساعات التالية:



٢. أرسم عقارب الساعة الذي يدل على الوقت المعطى:



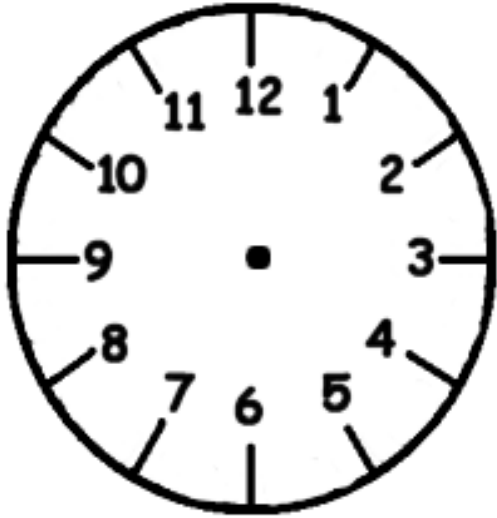
٣. أقدّر الزمن اللازم لكل حدث ، ثم أكتب (ثانية - دقيقة - ساعة) :



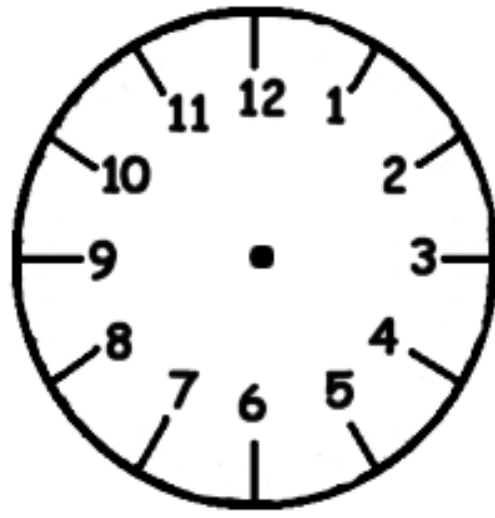
طرفه عين



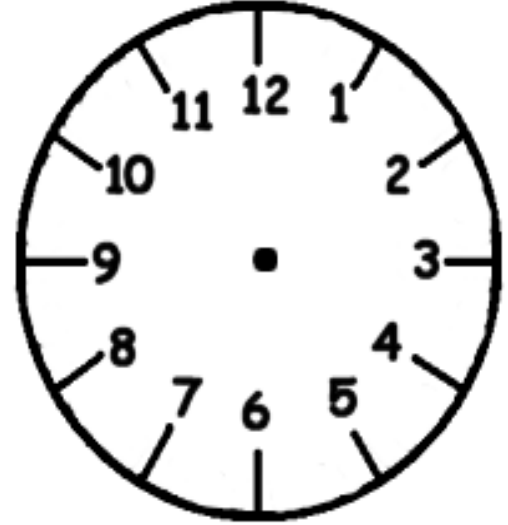
٤. أرسم عقارب الساعة للوقت المشار إليه أسفل الساعة ، وأكتب الوقت بالكلمات :



٤ : ٤٥



٢ : ١٠



١١ : ١٥

٥. أبحث عن نمط ، لأحلّ المسألة (أرسم جدولاً) :

أ. تقلع الطائرات بمعدل طائرة كلّ ساعتين ، فإذا أقلعت الطائرة الأولى الساعة .. : ٩ ، فمتى تقلع الطائرة الثالثة ؟

ب. يرسم حسن لوحة كلّ نصف ساعة ، فإذا رسم اللوحة الأولى الساعة .. : ٦ والثانية ٦ : ٣ والثالثة .. : ٧ ، فمتى يرسم اللوحة الخامسة ؟