

تم تحميل هذا الملف من موقع المناهج البحرينية



* للحصول على أوراق عمل لجميع الصفوف وجميع المواد اضغط هنا

<https://almanahj.com/bh>

* للحصول على أوراق عمل لجميع مواد الصف الثاني اضغط هنا

<https://almanahj.com/bh/2>

* للحصول على جميع أوراق الصف الثاني في مادة اجتماعيات ولجميع الفصول, اضغط هنا

<https://almanahj.com/bh/2social>

* للحصول على أوراق عمل لجميع مواد الصف الثاني في مادة اجتماعيات الخاصة بـ الفصل الثاني اضغط هنا

<https://almanahj.com/bh/2social2>

* لتحميل كتب جميع المواد في جميع الفصول للـ الصف الثاني اضغط هنا


<https://almanahj.com/bh/grade2>

للتحدث إلى بوت على تلغرام: اضغط هنا


https://t.me/omcourse_bot

درس المخطط في مادة الاجتماعيات

ألون باللون الأحمر ما هو على يمين .



ألون باللون الأخضر ما هو على يسار .



أرسم خطاً أحمر للانتقال من بيت حامد إلى المسجد .

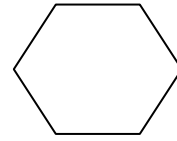
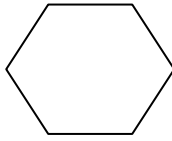
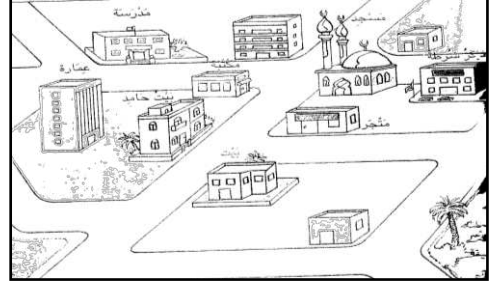
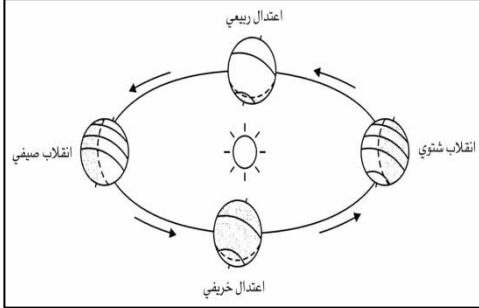
أرسم خطاً أزرق من بيت حامد إلى مطعم جاسم .



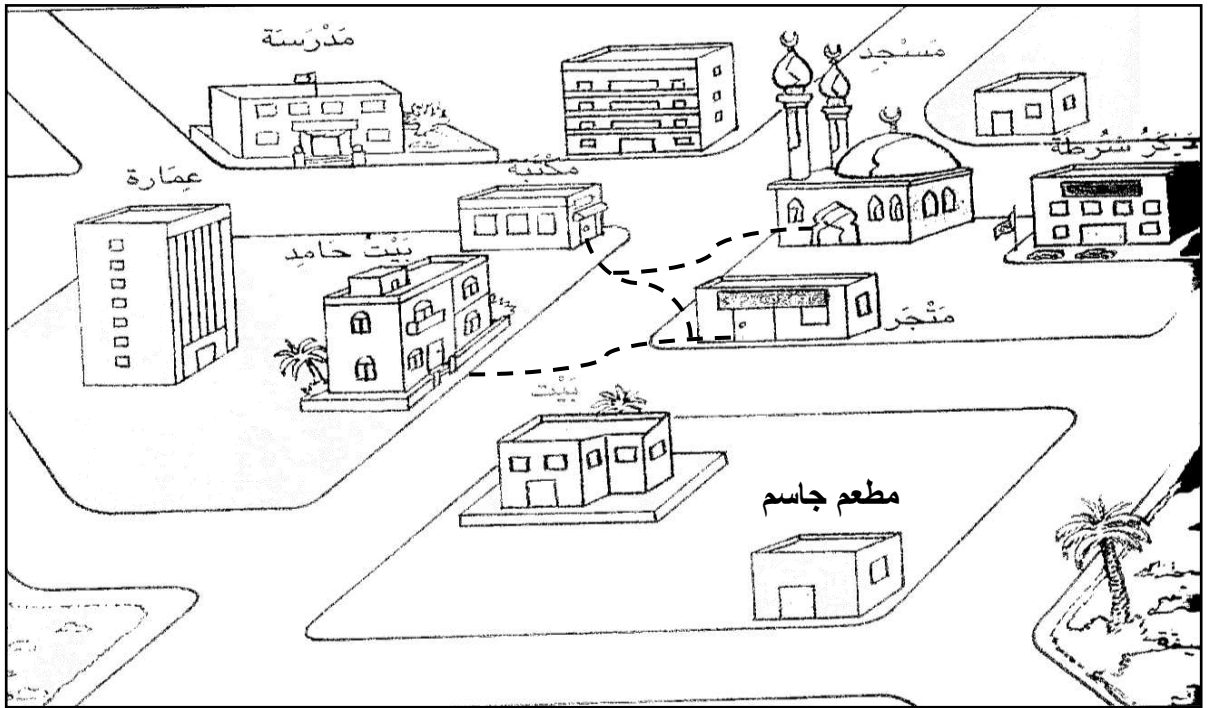
ألون باللون الأحمر ما هو على يسار بيت حامد .

ألون مطعم جاسم بالاصفر.

أضع علامة (✓) امام صورة المخطط .




مخطط الحي الذي يعيش فيه حامد .



اكتب اسماء الاماكن الذي مر بها حامد .

خرج من البيت ← ← ←

أَتأمل مخطط الحي الذي تعيش فيه ليلي وأجيب عن الاسئلة حوله:-



- 1_ أستعين بمفتاح المخطط وأكتب أسماء الأماكن بالقرب من مواقعها على المخطط.
- 2_ أرادت ليلي الذهاب من منزلها إلى المكتبة ، ارسم الطريق الذي تسلكه ليلي .
- 3_ أكتب أسماء الأماكن الذي ستمر بها ليلي في طريقها إلى المكتبة:

.....،.....،.....