

تم تحميل هذا الملف من موقع المناهج البحرينية



\*للحصول على أوراق عمل لجميع الصفوف وجميع المواد اضغط هنا

<https://almanahj.com/bh>

\* للحصول على أوراق عمل لجميع مواد الصف الثاني اضغط هنا

<https://almanahj.com/bh/2>

\* للحصول على جميع أوراق الصف الثاني في مادة رياضيات ولجميع الفصول, اضغط هنا

<https://almanahj.com/bh/2math>

\* للحصول على أوراق عمل لجميع مواد الصف الثاني في مادة رياضيات الخاصة بـ الفصل الثاني اضغط هنا

<https://almanahj.com/bh/2math2>

\* لتحميل كتب جميع المواد في جميع الفصول للـ الصف الثاني اضغط هنا

<https://almanahj.com/bh/grade2>

[almanahjbhbot/me.t//:https](https://t.me/almanahjbhbot)

للتحدث إلى بوت على تلغرام: اضغط هنا

# الفصل الحادي عشر: الأشكال الهندسية

المجسمات

١-١١



أسطوانة



مخروط



متوازي مستطيلات



مكعب



هرم



كرة

اكتب اسم المجسمين المتشابهين، وأحوظ المجسم المختلف:

اسطوانة



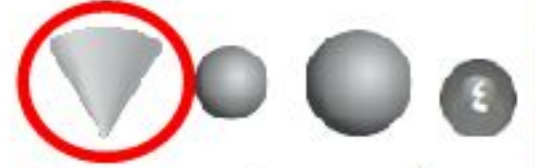
مكعب



.....مخروط.....



.....كرة.....



أحلُّ الْمَسْأَلَتَيْنِ الْآتِيَتَيْنِ:

في الصَّوْرَةِ الْمُجَاوِرَةِ شَيْءٍ عَلَى شَكْلِ مَخْرُوطٍ.



أَجِدُهُ وَأَحْوِطُهُ.

في الصَّوْرَةِ الْمُجَاوِرَةِ شَيْءٍ عَلَى شَكْلِ كُرَّةٍ. أَجِدُهُ وَأَحْوِطُهُ.

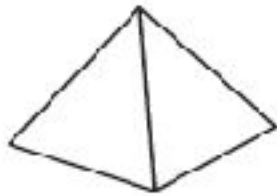


# أَحْوِطُ الشَّكْلَ الَّذِي يَتَّفِقُ مَعَ الوَصْفِ:

١ ٦ أَوْجُهُ، ١٢ حَرْفًا، ٨ رُؤُوسٍ



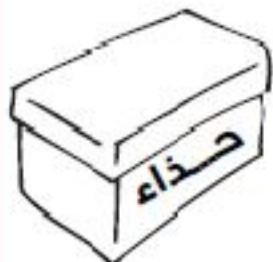
٢ ٠ وَجْهٌ، ٠ حَرْفٌ، ٠ رُؤُوسٌ



٣ ١ وَجْهٌ، ٠ حَرْفٌ، ١ رَأْسٌ



٤ ٢ وَجْه، ٠ حَرْف، ٠ رُؤُوس



أَحُلُّ الْمَسْأَلَتَيْنِ الْآتِيَتَيْنِ:

٥ وَضَعَ نُعْمَانُ حِذَاءَهُ فِي صُنْدُوقٍ لَهُ ٦ أَوْجُهُ، وَ ١٢ حَرْفًا وَ ٨ رُؤُوسٍ.  
مَا شَكْلُ هَذَا الصُّنْدُوقِ؟ **متوازي مستطيلات**

٦ صَنَعَتْ أَمِنَةُ شَكْلًا لَهُ ٥ أَوْجُهُ، وَ ٨ أَحْرَفٍ، وَ ٥ رُؤُوسٍ. مَا اسْمُ هَذَا  
الشَّكْلِ؟ **هرم**

أصلُ بينَ النِّقاطِ لأرسمَ الشَّكْلَ، ثُمَّ أَكْتُبُ اسْمَهُ:



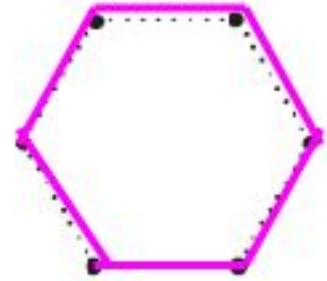
متوازي اضلاع



شبة منحرف



مستطيل



شكل سداسي

اَكْتُبُ الإِجَابَةَ فِي الْفَرَاغِ:

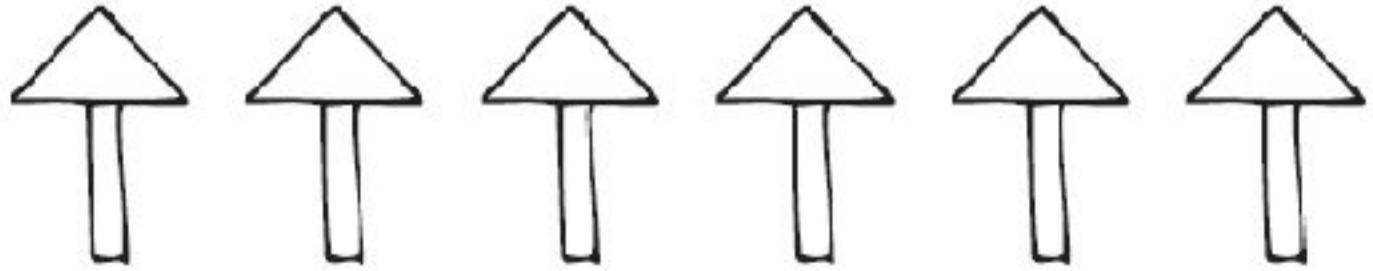


٥ رَسَمْتُ سَامِيَةَ الشَّكْلِ الْمُجَاوِرَ

مَا عَدَدُ كُلِّ مِنَ الدَّوَائِرِ وَالْمُسْتَطِيلَاتِ فِي هَذَا الرَّسْمِ؟

3... دَوَائِرَ

3... مُسْتَطِيلَاتٍ



٦

اسْتَعْمَلْتُ سَعَادُ أَشْكَالًا مُخْتَلِفَةً فِي الرَّسْمِ . مَا عَدَدُ كُلِّ مِنَ الْمُسْتَطِيلَاتِ وَالْمَثَلَّثَاتِ فِي هَذَا الرَّسْمِ؟

6... مَثَلَّثَاتٍ

6... مُسْتَطِيلَاتٍ

أحلُّ المسألة: أبحثُ عن نمطٍ ٤-١١

أبحثُ عن النمطِ المُتَّبِعِ، وَأَكْتُبُ الإجابةَ:

١ رَأَتْ فَاطِمَةُ النَّمَطَ الآتِيَّ فِي كِتَابٍ. فَمَا الأشْكَالُ الثَّلَاثَةُ الآتِيَّةُ فِي هَذَا النَّمَطِ؟

..... قلب ..... دائرة معين .....     

٢ رَأَى أَحْمَدُ هَذَا النَّمَطَ عَلَى لَوْحَةٍ. فَمَا الأشْكَالُ الثَّلَاثَةُ التَّالِيَةُ فِي هَذَا النَّمَطِ؟

مستطيل دائرة ..... مستطيل .....     



٣ يَقُولُ مَالِكٌ إِنَّهُ رَأَى نَمَطًا مِنْ الْأَشْكَالِ عَلَى إِحْدَى الْبِنَايَاتِ، وَذَلِكَ عَلَى النَّحْوِ الْآتِي:



هَلْ كَلَامُهُ صَحِيحٌ؟ ..... لا

٤ لَلْقِطَةِ الْوَاحِدَةِ أَرْبَعُ أَرْجُلٍ، وَلِلْقِطَتَيْنِ ثَمَانِي أَرْجُلٍ. فَكَمْ رِجَالًا لَيْسَتْ قِطَطٌ؟

..... 24 رِجَالًا

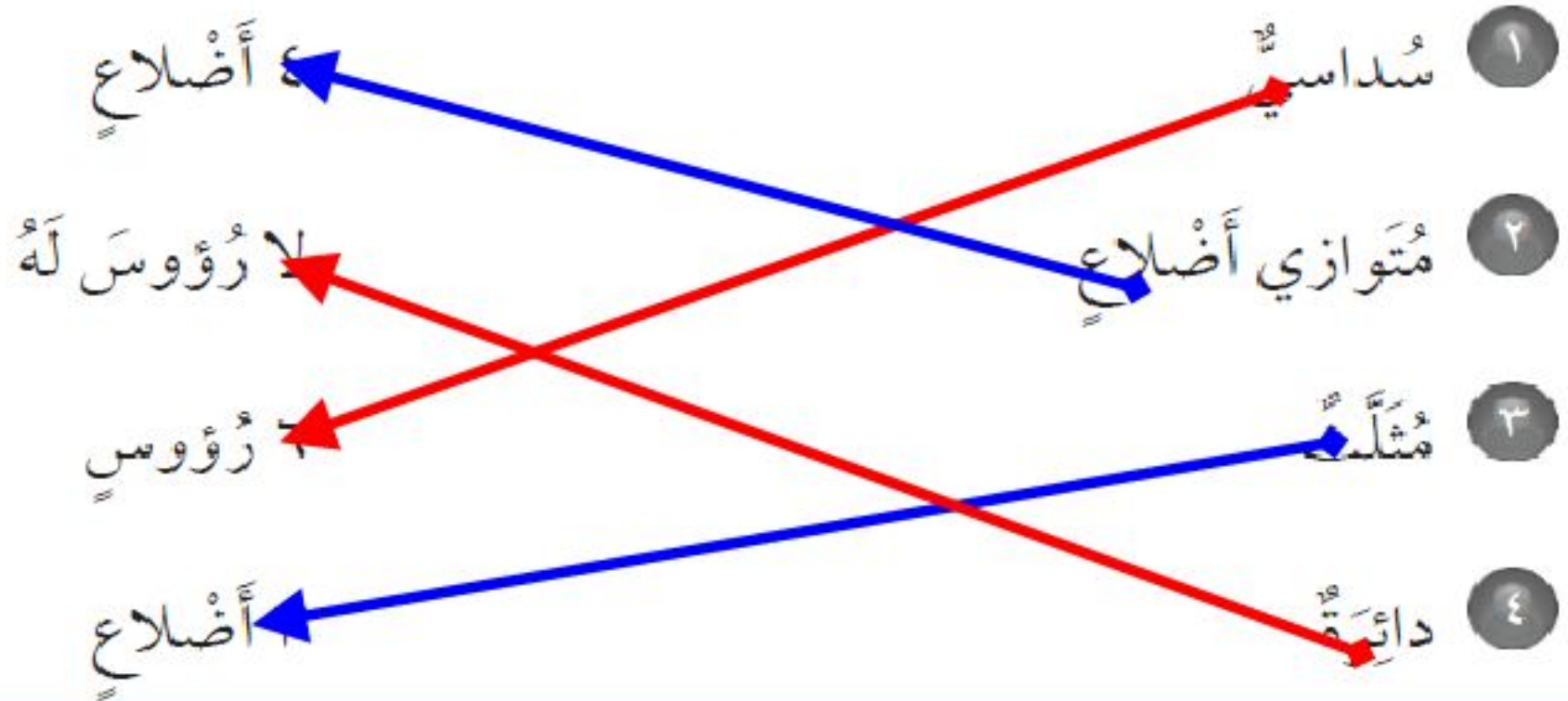
٥ رَسَمْتُ دَلَالَ ٣ أَزْهَارٍ فِي صَفٍّ وَاحِدٍ، وَرَسَمْتُ ٦ أَزْهَارٍ فِي صَفٍّ ثَانٍ، وَرَسَمْتُ ٩ أَزْهَارٍ فِي صَفٍّ ثَالِثٍ. كَمْ زَهْرَةً سَتَرْسُمُ فِي صَفٍّ ثَامِنٍ إِذَا اسْتَمَرَّ هَذَا النَّمَطُ؟

..... 24 زَهْرَةً

# الأشكالُ المُستويةُ : الأضلاعُ والرُّوسُ

٥-١١

أَصِلْ بَيْنَ اسْمِ الشَّكْلِ وَعَدَدِ أَضْلَاعِهِ أَوْ عَدَدِ رُؤُوسِهِ:



أَكْتُبْ اسْمَ الشَّكْلِ ، ثُمَّ أَذْكَرُ صِفَتَيْهِ لَهُ :

له 6 اضلاع

له 6 رؤوس

شكل سداسي



له 3 اضلاع

له 3 رؤوس

مثلث



له 4 اضلاع

له 4 رؤوس

معيّن



# مُقَارَنَةُ الْأَشْكَالِ الْهَنْدَسِيَّةِ

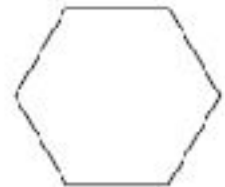
٦-١١

أَكْمِلُ الْجُمْلَةَ:

الشَّكْلُ السُّدَّاسِيُّ وَالْمُسْتَطِيلُ مُخْتَلِفَانِ؛ لِأَنَّ

الشَّكْلُ سِدَّاسِيٌّ لَهُ 6 أَضْلَاعٍ وَ6 رُؤُوسٍ

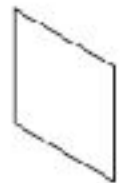
الْمُسْتَطِيلُ لَهُ 4 أَضْلَاعٍ وَ4 رُؤُوسٍ



مُتَوَازِي الْأَضْلَاعِ وَشِبْهُ الْمُنْحَرِفِ؛ يَتَشَابِهَانِ مِنْ حَيْثُ

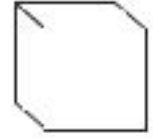
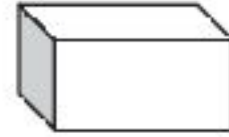
عَدَدِ الْأَضْلَاعِ

عَدَدِ الرُّؤُوسِ



الْمُكَعَّبُ وَمُتَوَازِي الْمُسْتَطِيلَاتِ يَتَشَابِهَانِ مِنْ حَيْثُ

عدد الأوجه



٣

عدد الأحرف

الْأُسْطُوَانَةُ وَالْكُرَّةُ يَتَشَابِهَانِ مِنْ حَيْثُ

ليس لهما رؤوس ولا أحرف



٤

وَهُمَا أَيْضًا مُخْتَلِفَتَانِ ؛ لِأَنَّ الْأُسْطُوَانَةَ لَهَا وَجْهَانِ

الْمُثَلَّثُ وَالْمُرَبَّعُ يَتَشَابِهَانِ مِنْ حَيْثُ **انهم اشكال مستوية**

وَهُمَا أَيْضًا مُخْتَلِفَانِ ؛ لِأَنَّ **للمثلث 3 اضلاع وللمربع 4**




٥


أَسْتَعْمِلُ الْمُثَلَّثَاتِ وَالْمُرَبَّعَاتِ لِتَكْوِينِ أَشْكَالٍ جَدِيدَةٍ:



أَكُونُ مُسْتَطِيلاً ١

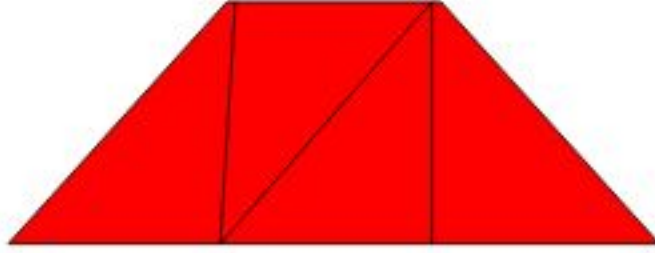


أَكُونُ مُرَبَّعًا ٢



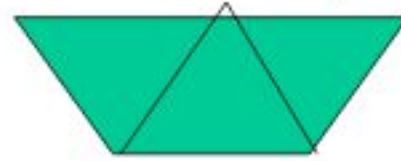
أَكُونُ مُتَوَازِيَّ أَضْلَاعٍ ٣

٤ أَكُونُ شِبْهَ مُنْحَرِفٍ



اَكْتُبُ الْإِجَابَةَ مُسْتَعْمِلًا النَّمَازِجَ إِذَا لَزِمَ الْأَمْرُ:

٥ إِذَا فَصَلْنَا الْمُثَلَّثَاتِ الَّتِي تُكُونُ شِبْهَ الْمُنْحَرِفِ، فَكَمْ مُثَلَّثًا سَنَحْصُلُ عَلَيْهَا؟



.....**3**..... مُثَلَّثَاتٍ

٦ إِذَا قَطَعَ حَمْدٌ مُثَلَّثًا وَاحِدًا إِلَى أَجْزَاءٍ. فَمَا الْأَشْكَالُ الَّتِي سَيَحْصُلُ عَلَيْهَا؟

.....**مُثَلَّثَاتٍ**.....

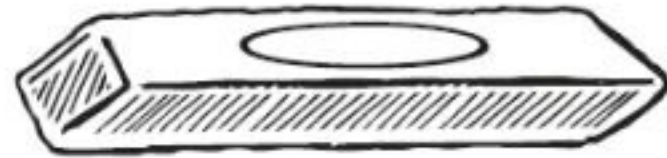
# وَحَدَاتُ الطَّوْلِ غَيْرُ الْقِيَاسِيَّةِ

١-١٢

أَبْحَثْ عَنِ الْأَشْيَاءِ الْمَوْضُوحَةِ صُورُهَا، أَقْدِرْ طُولَهَا، ثُمَّ أَقِيسْهَا مُسْتَعْمِلًا



التَّقْدِيرُ: ..... 7 ..... بِرَبْوَاتٍ  
القِيَاسُ: ..... 6 ..... بِرَبْوَاتٍ



التَّقْدِيرُ: ..... 5 ..... بِرَبْوَاتٍ  
القِيَاسُ: ..... 4 ..... بِرَبْوَاتٍ





٣



القياسُ: 5



التقديرُ: 5 تقريبًا



5

أحلُّ المسألة الآتية:

شريط طوله ٣٠  قطعت منه زينب جزءاً طوله ١٠  تقريباً. أكتب جملة عددية لأجد طول الشريط المتبقي.

٤

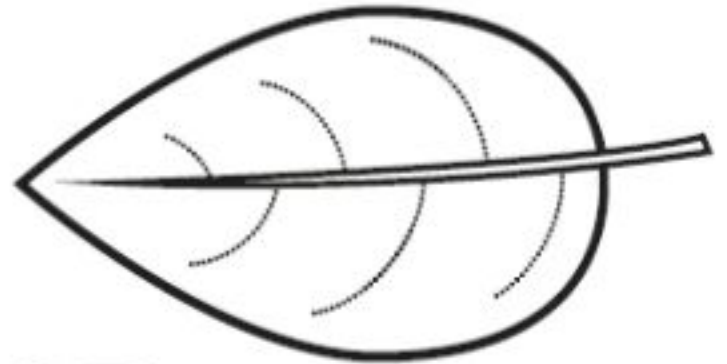
30  10  20 ، 20  بقية 20  تقريباً

# أحلّ المسألة: أخمّن وأتحقّق

١٢-٢

أحلّ المسألة بالتخمين والتحقّق:

١ معي قلم رصاصٍ طوله ٤  . هل هو أطول أم أقصر من ورقة الشجرة المرسوّة؟ **اقصر من ورقة الشجرة**




التخمين: 6.....

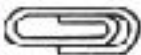
التحقّق: 5..... 

٢

تُرِيدُ وَفَاءً أَنْ تَضَعَ قَلَمَهَا الْمَوْضِحَةَ صُورَتَهُ فِي حَافِظَةِ أَقْلَامِهَا الَّتِي طُولُهَا ٥  
هَلْ حَافِظَةُ الْأَقْلَامِ تَكْفِي لِلْقَلَمِ؟ لا... تكفي

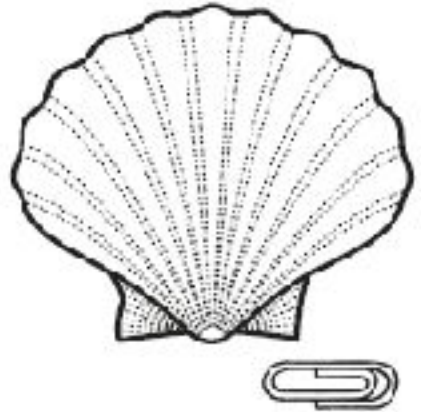


التَّخْمِينُ: 5  
التَّحَقُّقُ: 6



٣

هَلْ يَسْتَطِيعُ أَحْمَدُ أَنْ يَضَعَ هَذِهِ الصَّدْفَةَ فِي صُنْدُوقِ طُولُهُ ٥ ؟



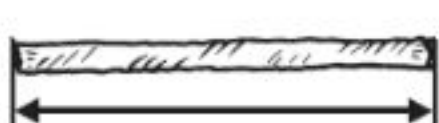
التَّخْمِينُ: 3  
التَّحَقُّقُ: 3



## قياس الأطوال بالسنتيمترات

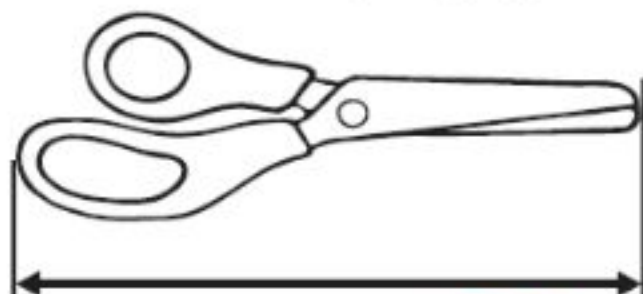
٣-١٢

أَبْحَثْ عَنِ الْأَشْيَاءِ الْمَوْضَّحَةِ صُورُهَا، ثُمَّ أَقِيسْ أَطْوَالَهَا مُسْتَعْمِلًا وَحْدَةَ قِيَاسٍ طُولُهَا سَنْتِمِترٌ وَاحِدٌ:



٢

..... 15 سَنْتِمِترَاتٍ تَقْرِيبًا



١

..... 20 سَنْتِمِترَاتٍ تَقْرِيبًا



٤

..... 24 سَنْتِمِترَاتٍ تَقْرِيبًا



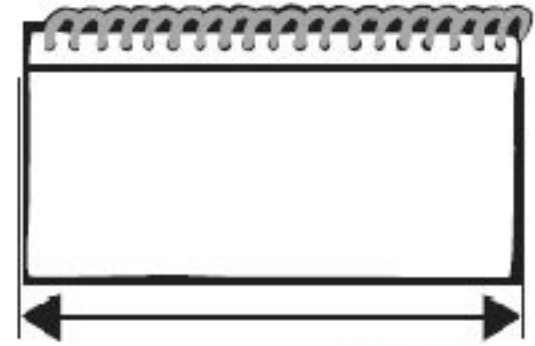
٣

..... 21 سَنْتِمِترَاتٍ تَقْرِيبًا



٦

سَمْتِراتِ تَقْرِيْبًا ..... **7** .....



٥

سَمْتِراتِ تَقْرِيْبًا ..... **17** .....

أَحْلُ الْمَسْأَلَتَيْنِ الْآتِيَتَيْنِ:

٧ هَلْ نَسْتَطِيعُ أَنْ نَقْطَعَ جَزْرَةً طَوْلِهَا ٢٠ سَمْتِراتٍ إِلَى ٧ قِطْعٍ صَغِيرَةٍ، طُولُ كُلِّ وَاحِدَةٍ مِنْهَا ٣ سَمْتِراتٍ؟ **لا يمكن** .....

٨ أَيُّهُمَا أَكْبَرُ: طُولُ كِتَابِ الرِّيَاضِيَّاتِ أَمْ طُولُ مَحْفَظَةِ الْأَقْلَامِ؟ **كتاب** .....

**الرياضيات**

أَبْحَثُ عَنِ الْأَشْيَاءِ الْمَوْضُوحَةِ صُورُهَا، ثُمَّ أَقْدِرُ طُولَ كُلِّ مِنْهَا، ثُمَّ أَجِدُ قِيَاسَهُ  
بِالسَّنْتِمِترَاتِ:

الشيءُ	التَّقْدِيرُ	القِيَاسُ
<p>١</p> 	20 سَنْتِمِترَاتٍ تَقْرِيبًا	22 سَنْتِمِترَاتٍ
<p>٢</p> 	20 سَنْتِمِترَاتٍ تَقْرِيبًا	17 سَنْتِمِترَاتٍ
<p>٣</p> 	27 سَنْتِمِترَاتٍ تَقْرِيبًا	25 سَنْتِمِترَاتٍ

## أَحْلُ الْمَسَائِلِ الْآيَةِ:

٤ هَلْ نَسْتَطِيعُ أَنْ نَحْصَلَ عَلَى قِطْعَتَيْنِ مِنَ الْقُمَاشِ، طُولُ كُلِّ وَاحِدَةٍ مِنْهُمَا ٥٠ سَنْتِمِترًا إِذَا كَانَ لَدَيْنَا قِطْعَةٌ وَاحِدَةٌ طُولُهَا ١٠٠ سَنْتِمِترًا؟ **نعم**.....

٥ أَذْكَرُ ثَلَاثَةَ أَشْيَاءَ مِنَ الْمَنْزِلِ يَزِيدُ طَوْلَهَا عَلَى ١٠٠ سَنْتِمِترًا.

**باب المنزل السرير الثلاجة**

٦ أَذْكَرُ ثَلَاثَةَ أَشْيَاءَ مِنَ الْمَنْزِلِ يَقِلُّ طَوْلُهَا عَنْ ١٠٠ سَنْتِمِترًا.


**الكرسي الكمبيوتر التلفاز**

المساحة

٥-١٢


أعدُّ  لأجد المساحة:

١ أجد مساحة الجزء المُظلل:



٨ ..... وحداتٍ مربعةٍ

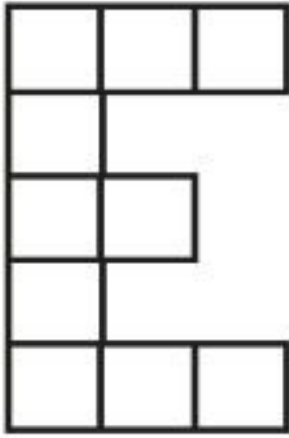
٢ أجد مساحة الجزء المُظلل:



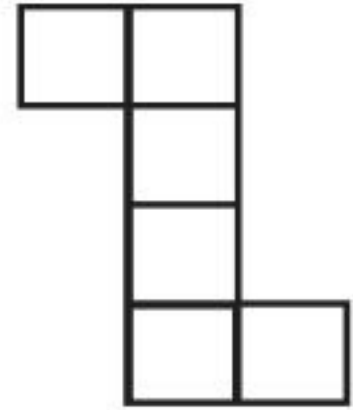
٤ ..... وحداتٍ مربعةٍ



أَجِدْ مِسَاحَةَ الشَّكْلِ الْمَرْسُومِ:



٤



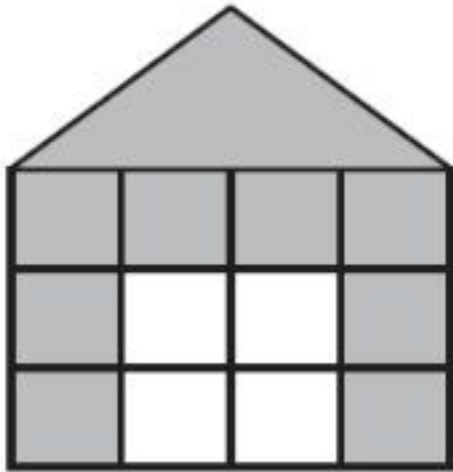
٣

.....**10**..... وَحَدَاتٍ مَرْبَعَةٍ

.....**6**..... وَحَدَاتٍ مَرْبَعَةٍ

أَحُلِّ الْمَسْأَلَةَ الْآتِيَةَ:

٥ استعملت سلمى نماذج مربعة من اللونين الأبيض والرمادي لعمل هذا البيت. كم تبلغ مساحة الجزء الأبيض؟



.....**4**..... وَحَدَاتٍ مَرْبَعَةٍ

أَخْتَارُ خُطَّةً مُنَاسِبَةً، ثُمَّ أَحِلُّ الْمَسْأَلَةَ:

\* أَنْشِئْ جَدْوَلًا

\* أَرَسِّمْ صَوْرَةً

\* أَمَثِّلْهَا

١ رَتَّبَ تَاجِرٌ صِنَادِيقَ الْبِضَاعَةِ، فَوَضَعَ كُلَّ ٨ صِنَادِيقٍ فِي مَجْمُوعَةٍ وَاحِدَةٍ بَعْضُهَا فَوْقَ بَعْضٍ. فَإِذَا كَانَ ارْتِفَاعُ الصُّنْدُوقِ الْوَاحِدِ ١٥ سَنْتِمِترًا، فَكَمْ سَنْتِمِترًا بَلَغَ ارْتِفَاعُ الْمَجْمُوعَةِ الْوَاحِدَةِ؟

..... 120 ..... سَنْتِمِترًا.

٢ اشْتَرَى مَالِكٌ شَرِيطًا مِنْ الْمُلْصَقَاتِ طُولُهُ ١٥ سَنْتِمِترًا. فَإِذَا كَانَ طُولُ كُلِّ مُلْصَقٍ ٣ سَنْتِمِتراتٍ، فَكَمْ مُلْصَقًا عَلَى الشَّرِيطِ؟

..... 5 ..... مُلْصَقَاتٍ.

٣ تُرِيدُ إِيمَانٌ أَنْ تَعْمَلَ إِطَارًا لِصُورَةٍ رَسَمْتَهَا بِشَرِيطٍ مُلَوَّنٍ. فَإِذَا كَانَ طُولُ الصُّورَةِ ٥٥ سَنْتِمِترًا، وَعَرْضُهَا ١٠ سَنْتِمِترَاتٍ، فَكَمْ سَنْتِمِترًا مِنَ الشَّرِيطِ يَلْزَمُ لِصُنْعِ الإِطَارِ؟ (أَتَذَكَّرُ أَنَّ لِلصُّورَةِ ٤ أَضْلَاعَ).

.....130 سَنْتِمِترًا

٤ قَاسَ خَالِدٌ الطَّاوِلَةَ بِكَفِّهِ، فَوَجَدَ أَنَّ طُولَهَا ٩ كُفُوفٍ. فَإِذَا كَانَ طُولُ الكَفِّ الواحِدَةِ ١٠ سَنْتِمِترَاتٍ، فَكَمْ يَبْلُغُ طُولُ الطَّاوِلَةِ؟

.....90 سَنْتِمِترًا

الفصل الثالث عشر: القياس: (السعة والوزن)  
وحدات السعة غير القياسية

١-١٣

أحضِر الأوعية المذكورة في الجدول، وأقيس سعتها، مُستعملاً وحدة قياس مناسبة:

السعة	وحدة القياس	الوعاء
20	 الملعة	 مقلاة

15



المعلقة



طَبَقُ الْحَسَاءِ

٢

10



الكوب



قِدْرُ الطَّبْخِ

٣

4



الكوب



عَبْءَةُ حَلِيبٍ

٥

5



الكوب



إِبْرِيْقُ الشَّايِ

٦

## أَحُلُّ الْمَسْأَلَةِ : أَمْثَلُهَا

٢-١٣

أَحُلُّ الْمَسَائِلِ الْآتِيَةِ بِتَمْثِيلِهَا:

١ أَيُّ مِمَّا يَأْتِي بِسَعِّ مَاءٍ أَكْثَرَ: فِنْجَانُ قَهْوَةٍ، أَمْ كَأْسُ شَايٍ، أَمْ مِلْعَقَةُ طَعَامٍ؟  
**كاس الشاي**

٢ هَلْ يُمَكِّنُ الْقَوْلُ إِنَّ مِلءَ يَدِكَ رَمْلًا يَمْلَأُ كَأْسَ شَايٍ صَغِيرَةٍ؟

.....**نعم**.....

٣ أَيُّهُمَا أَكْبَرُ سَعَةً: إِبْرِيْقُ الْقَهْوَةِ أَمْ دَلَّةُ الْقَهْوَةِ؟

إبريق.. القهوة



٤ كَمْ مِلْعَقَةً مِنَ الرَّمْلِ يُمَكِّنُ أَنْ نَضَعَ فِي قَارُورَةٍ زُجَاجِيَّةٍ؟

.....50.....

# المِلِّتْرَاتُ وَاللِّتْرَاتُ

٣-١٣

أَضَعُ ○ حَوْلَ الْوَحْدَةِ الْأَفْضَلِ لِتَقْدِيرِ سَعَةِ كُلِّ وَعَاءٍ:

التَّقْدِيرُ		الْوِعَاءُ	
لِتْرٌ	مِلِّتْرٌ	 ١ طَبَقُ الطَّعَامِ	
لِتْرٌ	مِلِّتْرٌ	 ٢ طَبَقُ الْحَسَاءِ	



لِتْر

مِلِّتْر



مِلْعَقَةُ الشَّاي

٣

لِتْر

مِلِّتْر



عَبْءَةُ حَلِيبٍ

٤

لِتْر

مِلِّتْر



عَبْءَةُ رَيْتٍ

٥

# وَحَدَاتُ الْوِزْنِ غَيْرُ الْقِيَاسِيَّةِ

٤-١٣

أَحْضِرْ الْأَشْيَاءَ الْمَذْكُورَةَ فِي الْجَدْوَلِ، وَأَقِيسْ وَزْنَهَا، مُسْتَعْمِلًا وَحْدَةَ قِيَاسٍ مُنَاسِبَةً:

القياس	وَحْدَةُ الْقِيَاسِ	الشَّيْءُ
15	كُرَّةٌ زُجَاجِيَّةٌ حَبَّةٌ فَاصُولِيَاءَ	مِسْطَرَةٌ 
27	حَبَّةٌ فَاصُولِيَاءَ مِشْبِكٌ لِلْوَرَقِ	قَلَمٌ تَخْطِيطِ 

35

مَشْبِكٌ لِلْوَرَقِ  
حَبَّةٌ فَاصُولِيَاءَ



عَدَسَةٌ مُكَبِّرَةٌ

٣

3

كِرَّةٌ زُجَاجِيَّةٌ  
حَجَرٌ كَبِيرٌ



قَلَمٌ حَبِيرٌ

٤

7

حَجَرٌ كَبِيرٌ  
قَلَمٌ أَلْوَانٍ



مِمْحَاةُ السَّبُّورَةِ

٥

أحضِرُ الأشياءَ المذكورةَ في الجدولِ، وأحيطُ التَّقديرَ المُناسبَ، ثمَّ أقيسُ  
كُلتَها، وأحيطُ القياسَ الأقربَ:

الشيءُ	التَّقديرُ	القياسُ
 تفاحةٌ	١٠ جراماتٍ تقريبًا ١٠٠ جرام تقريبًا	١٠ جراماتٍ ١٠٠ جرام
 كعكةٌ صغيرةٌ	١٠٠ جرام تقريبًا كيلوجرام واحدٌ تقريبًا	١٠٠ جرام كيلوجرام واحدٌ

كيلو جرام واحد  
٥ كيلو جرامات

كيلو جرام واحد تقريبًا  
٥ كيلو جرامات تقريبًا



٣ كيس أرز

١٥ كيلو جرامًا  
١٥٠ جرامًا

١٥ كيلو جرامًا تقريبًا  
١٥٠ جرامًا تقريبًا



٤ كتاب

١٠٠ جرام  
١٠٠٠ جرام

١٠٠ جرام تقريبًا  
١٠٠٠ جرام تقريبًا



٥ سلة فواكه

## اسْتِقْصَاءُ حَلِّ الْمَسْأَلَةِ

خطط حل المسألة

- أَكْتُبُ جُمْلَةً عَدَدِيَّةً
- أَنْشِئُ جَدُولًا
- أُرْسِمُ صُورَةً

أَخْتَارُ خُطَّةً، ثُمَّ أَحُلُّ الْمَسْأَلَةَ:

١ أقامت مدرستنا حفلاً للمتفوقين، فاشتري مسؤول النشاط ٥٥ لترات من العصير، و٤٧ لترات من الماء. ما مجموع لترات العصير والماء التي اشتراها المسؤول؟

.....102..... لترًا.

٢ وَفَرَّ طَلَّالٌ ٥ رِيَالَاتٍ خِلَالَ الْأُسْبُوعِ الْمَاضِي، وَوَفَّرَ أَخُوهُ ٣ رِيَالَاتٍ. فَكَمْ رِيَالًا وَفَّرَ الْأَخَوَانِ مَعًا؟  
..... 8 ..... رِيَالَاتٍ.

٣ لَدَيْنَا ٦ أَوْعِيَّةٍ، فِي كُلِّ مِنْهَا ٨ لِيْتْرَاتٍ مِنَ الْمَاءِ. كَيْفَ نَسْتَطِيعُ أَنْ نَجِدَ مَجْمُوعَ اللَّيْتْرَاتِ فِي الْأَوْعِيَّةِ السَّتَّةِ؟

6	5	4	3	2	1	الأَوْعِيَّةُ
48	40	32	24	16	8	الليْتْرَاتُ

..... 48 ..... ليْتْرًا