

تم تحميل هذا الملف من موقع المناهج البحرينية



*للحصول على أوراق عمل لجميع الصفوف وجميع المواد اضغط هنا

<https://almanahj.com/bh>

* للحصول على أوراق عمل لجميع مواد الصف الثاني اضغط هنا

<https://almanahj.com/bh/2>

* للحصول على جميع أوراق الصف الثاني في مادة علوم ولجميع الفصول, اضغط هنا

<https://almanahj.com/bh/2science>

* للحصول على أوراق عمل لجميع مواد الصف الثاني في مادة علوم الخاصة بـ الفصل الأول اضغط هنا

<https://almanahj.com/bh/2science1>

* لتحميل كتب جميع المواد في جميع الفصول للـ الصف الثاني اضغط هنا

<https://almanahj.com/bh/grade2>



[almanahjbhbot/me.t//:https](https://t.me/almanahjbhbot)

للتحدث إلى بوت على تلغرام: اضغط هنا

(الفصل الأول - النباتات)

4

التاريخ: / / م



السؤال الأول:
تحتاج النباتات إلى .



السؤال الثاني :
أكتب المصطلح في الفراغ المناسب .

(1) تثبت النبات في التربة وتأخذ الماء و الأملاح .

(2) تصنع الغذاء للنبات و تستمد الضوء من الشمس .

(3) يتنفس الإنسان والحيوان غاز

(4) تدعم النبات وتسمح للماء والهواء بالانتقال

من خلاله .

الأكسجين

الجزور

الأوراق

الساق

السؤال الثالث :

أرتب دورة حياة نبات الفاصولياء بوضع الأرقام من 1 - 4 .

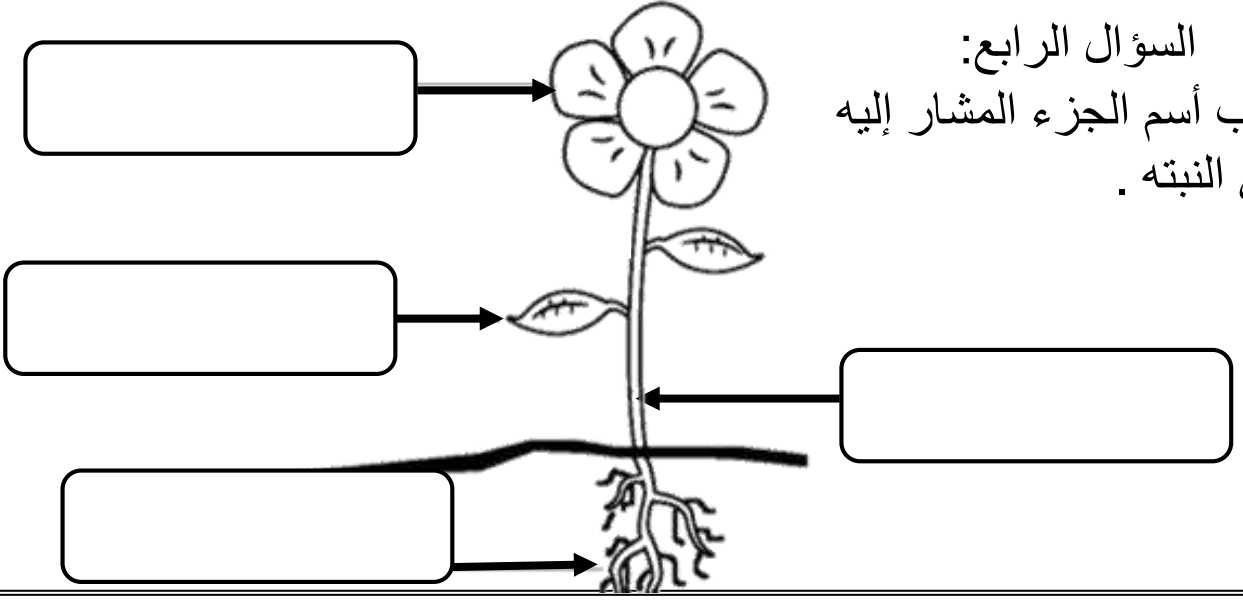


(الفصل الأول - النباتات)

5

التاريخ: ___ / ___ / ___ م

• السؤال الرابع:
اكتب أسم الجزء المشار إليه
في النبتة .



• السؤال الخامس :


أضع علامة (v) أمام العبارة الصحيحة ، وعلامة (X) أمام العبارة الخاطئة .

1. () جميع البذور لها أغلفة تحميها من الجفاف .
2. () بعض النباتات تعيش لعدة سنوات طويلة مثل زهرة الياسمين.
3. () تحمي الثمرة البذور بداخلها.
4. () دورة حياة النبات هي تحول النبات إلى باردة.
5. () النباتات من المخلوقات الغير حية .
6. () جزء من النبات الذي ينمو ويكون نبات جديد هي البذرة.

• السؤال السادس :

الطيور من الحيوانات التي تساعد على نقل حبوب اللقاح من زهرة إلى أخرى ، أنكر

طريقتين لنقل حبوب اللقاح :



(الفصل الأول – النباتات)

6

التاريخ: ___ / ___ / ___ م

• السؤال السابع:

أضع ○ حول الإجابة الصحيحة .

1. جزء من النبات يكون البذور والثمار

الساق البذور الزهرة

2.

عندما ينتج النبات الغذاء يطلق غازا في الهواء يسمى

ماء ثاني أكسيد الكربون الأوكسجين

3. هي مراحل حياة المخلوق الحي.

حياة هواء دورة الحياة

4.

تنتج الزهرة مسحوقا يساعدها على إنتاج البذور يسمى

زهرة البذور حبوب اللقاح

5.

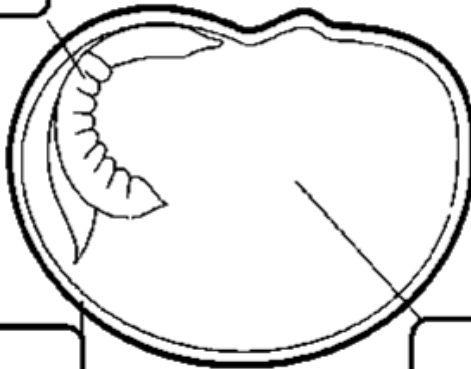
جزء من النبات الذي ينبت ويصير نباتا جديدا

الساق البذور الزهرة

• السؤال الثامن :

أكتب أجزاء البذرة في المكان المناسب .

.....



الجنين

غلاف البذرة

غذاء الجنين

.....

.....