

تم تحميل هذا الملف من موقع المناهج البحرينية



الملف تدريبات متنوعة و مهارات مدروسة

[موقع المناهج](#) ← [الصف الثالث](#) ← [رياضيات](#) ← [الفصل الثاني](#) ← [الملف](#)

روابط مواقع التواصل الاجتماعي بحسب الصف الثالث



روابط مواد الصف الثالث على تلغرام

[الرياضيات](#)

[اللغة الانجليزية](#)

[اللغة العربية](#)

[التربية الاسلامية](#)

المزيد من الملفات بحسب الصف الثالث والمادة رياضيات في الفصل الثاني

[التطبيق الثالث في مادة الرياضيات](#)

1

[جدول القسمة](#)

2

[نشاط تدريبي في المحيط](#)

3

[أنشطة مرافقة لدرس المحسمات](#)

4

[نشاط تدريبي المساحة](#)

5

عزيزتي ولىة الأمر المحترمة:
هذه تدريبات متنوعة، تغطي المهارات المدروسة، فأرجو تدريب بناتنا على حلها استعدادًا للتقويم في هذا الفصل.
مع خالص شكري وتقديري للجميع

قارني بين العددين مستعمله الإشارات المناسبة (= ، > ، <)

| | | | | | |
|-----|---|-----|-----|---|-----|
| ٦٤٣ | ○ | ٦٤٣ | ٢٣٤ | ○ | ٦٤١ |
| ٦٢٤ | ○ | ٦٢٨ | ٢٣١ | ○ | ١٢٠ |
| ٥٧٣ | ○ | ٥٧٢ | ٣٣٢ | ○ | ٣٣٢ |
| ٤٢٢ | ○ | ٤٢٠ | ٦٨٤ | ○ | ٨٦٤ |

رتبي الأعداد تصاعديًا، مبتدئة بالأصغر حتى الأكبر.

١٤٨ ، ٣٥٦ ، ٧٨٩ ، ٤٢٥

| | | | |
|---|---|---|---|
| □ | □ | □ | □ |
|---|---|---|---|

٣٤٨ ، ٥٥٤ ، ٨٢٣ ، ٥٥١

| | | | |
|---|---|---|---|
| □ | □ | □ | □ |
|---|---|---|---|

رتبي الأعداد تنازليًا، مبتدئةً بالأكبر حتى الأصغر.

٣٤٨ ، ٣٤١ ، ٥٢١ ، ٥٢٤

Four empty rounded rectangular boxes for writing the numbers in descending order.

٦٣٢ ، ٨٦٣ ، ٨٦١

Three empty rounded rectangular boxes for writing the numbers in descending order.

اكتبي العدد بالصورة القياسية، ثم بالصورة التحليلية.

٤ آحاد و ٣ عشرات و ٩ مئات

.....
..... + +

٠ آحاد و ٠ عشرات و ٤ مئات

.....
..... + +

٣ آحاد و ٠ عشرات و ٧ مئات

.....
..... + +

١ آحاد و ٦ عشرات و ٥ مئات

.....
..... + +

خمس مئة و إثنان _ العدد الصحيح هو

٢٥٠

٢٠٥

٥٠٢

ست مئة وأربعة وعشرون _ العدد الصحيح هو

٤٢٦

٦٢٤

٦٤٢

عدت سعاد بالعشرات، وتوكت عددًا:

٢٣٠ ، ٢٤٠ ، ، ٢٦٠ ، ٢٧٠

فما العدد الذي توكته سعاد؟

ماهو العدد الصحيح في النمط :

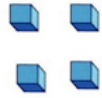
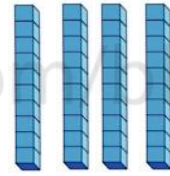

٧٢٩ ، ٧٢٨ ، ، ٧٢٦ ، ٧٢٥

ماهو العدد الصحيح في النمط :

٥٢٢ ، ٦٢٢ ، ، ٨٢٢ ، ٩٢٢


اكتبي عدد الآحاد والعشرات والمئات

| آحاد | عشرات | مئات |
|------|-------|------|
| | | |



..... آحاد عشرات مئات =

| آحاد | عشرات | مئات |
|------|-------|------|
| | | |



..... آحاد عشرات مئات =