

تم تحميل هذا الملف من موقع المناهج البحرينية



* للحصول على أوراق عمل لجميع الصفوف وجميع المواد اضغط هنا

<https://almanahj.com/bh>

* للحصول على أوراق عمل لجميع مواد الصف الثاني اضغط هنا

<https://almanahj.com/bh/2>

* للحصول على جميع أوراق الصف الثاني في مادة رياضيات ولجميع الفصول, اضغط هنا

<https://almanahj.com/bh/2math>

* للحصول على أوراق عمل لجميع مواد الصف الثاني في مادة رياضيات الخاصة بـ الفصل الثاني اضغط هنا

<https://almanahj.com/bh/2math2>

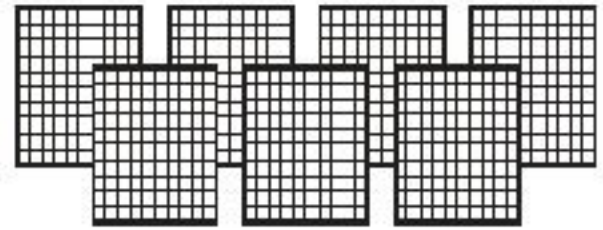
* لتحميل كتب جميع المواد في جميع الفصول للـ الصف الثاني اضغط هنا

<https://almanahj.com/bh/grade2>

[almanahjbhbot/me.t//:https](https://t.me/almanahjbhbot)

للتحدث إلى بوت على تلغرام: اضغط هنا

٧ مِئَاتٍ = 70 عَشْرَاتٍ = 700 أَحَادٍ = 700



٤

أَحْلُ:

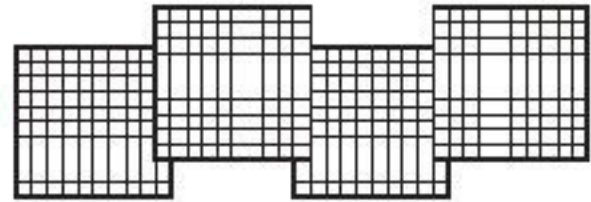
٥ فِي مَكْتَبَةٍ ٩ عُلَبِ أَقْلَامٍ، وَفِي كُلِّ عُلْبَةٍ مِئَةٌ قَلَمٍ. كَمْ قَلَمًا فِي الْعُلْبِ جَمِيعَهَا؟

٩ مِئَاتٍ = 90 عَشْرَاتٍ = 900 أَحَادٍ = 900 قَلَمٍ

٦ أَضَعُ ○ حَوْلَ كُلِّ إِجَابَةٍ مِنَ الْإِجَابَاتِ السَّابِقَةِ ذَاتِ الرَّقْمِ الزَّوْجِيِّ فِي مَنْزِلَةِ الْمِئَاتِ.

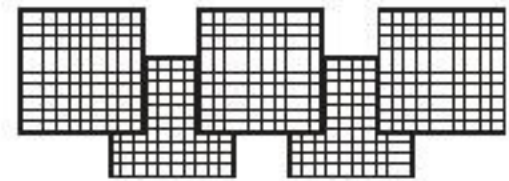
اَكْتُبْ عَدَدَ الْعَشْرَاتِ، وَالْأَحَادِ، ثُمَّ اَكْتُبْ الْعَدَدَ الْمُنَاسِبَ:

٤ مِائَاتٍ = 40 عَشْرَاتٍ = 400 آحَادٍ = 400



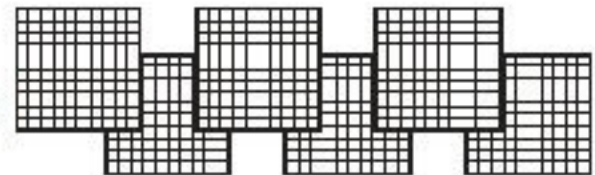
١

٥ مِائَاتٍ = 50 عَشْرَاتٍ = 500 آحَادٍ = 500



٢

٦ مِائَاتٍ = 60 عَشْرَاتٍ = 600 آحَادٍ = 600



٣

المئات والعشرات والآحاد



١٠-٢

اكتب عدد المئات والعشرات والآحاد في الأعداد المعطاة:

١٦٥

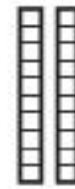
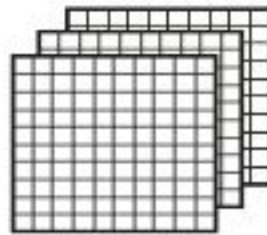
١

مئات	عشرات	آحاد
1	6	5



5.....آحاد 6.....عشرات 1.....مئات

مِئَاتٍ	عَشْرَاتٍ	آحَادٍ
3	2	8

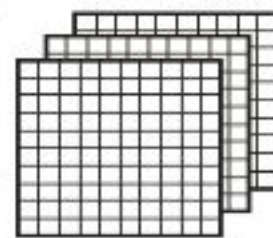
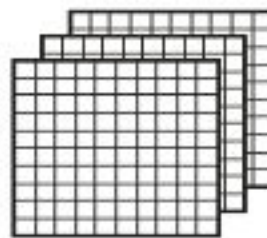



٣٢٨


٢

٨... آحاد ٢... عَشْرَاتٍ ٣... مِئَاتٍ

مِئَاتٍ	عَشْرَاتٍ	آحَادٍ
6	7	1



٦٧١


٣

١... آحاد ٧... عَشْرَاتٍ ٦... مِئَاتٍ

أَحْلُ الْمَسْأَلَةَ الْآتِيَةَ:

٤ في مَزْرَعَةٍ ١٦ ٤ حَمَامَةً. مَا عَدَدُ الْآحَادِ؟ ٦... آحادٍ. وَمَا عَدَدُ الْمِئَاتِ؟ ٤... مِئَاتٍ

أُنشِئْ قَائِمَةً لِأَحَلِّ الْمَسْأَلَةِ:

١ يُرِيدُ أَحْمَدُ عَمَلَ لَوْحَةٍ وَيُمْكِنُهُ اخْتِيَارُ أَحَدِ الْقِيَاسَاتِ الْآتِيَةِ: الْكَبِيرَةِ وَالْمُتَوَسِّطَةِ وَالصَّغِيرَةِ، وَيُمْكِنُهُ أَيْضًا أَنْ يَخْتَارَ وَاحِدًا مِنْ ثَلَاثَةِ أَلْوَانٍ، هِيَ: الْأَحْمَرُ، وَالْأَصْفَرُ، وَالْأَزْرَقُ. كَمْ لَوْحَةً مُخْتَلِفَةً يُمَكِّنُ أَنْ يَعْمَلَ أَحْمَدُ؟
يُمْكِنُ أَنْ يَعْمَلَ أَحْمَدُ 9 لَوْحَاتٍ.

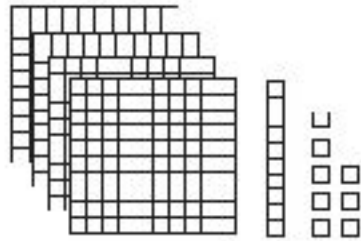
٢ عِنْدَ عَلِيَاءَ ٣ صَنَادِيْقَ تَحْمِلُ الْأَرْقَامَ ٧ و ٨ و ٩. بِكُمْ طَرِيقَةٌ مُخْتَلِفَةٌ يُمَكِّنُهَا تَرْتِيبُ الصَّنَادِيْقِ بَعْضَهَا فَوْقَ بَعْضٍ؟
يُمْكِنُهَا تَرْتِيبُ الصَّنَادِيْقِ بـ 6 طَرِيقٍ.

٣ يُجَهِّزُ أَنْسُ هَدَايَا لِأَصْحَابِهِ بِحَيْثُ تَحْتَوِي الْهَدِيَّةُ عَلَى عُلْبَةٍ أَلْوَانٍ أَوْ كِتَابٍ الْغَازِ.
وَلَدَيْهِ حَقِيبَتَانِ لِمَوْضِعِ الْهَدَايَا: حَقِيبَةٌ فِضِّيَّةٌ، وَحَقِيبَةٌ ذَهَبِيَّةٌ. بِكُمْ طَرِيقَةٌ مُخْتَلِفَةٌ يُمَكِّنُهُ
تَرْتِيبُ الْهَدَايَا؟

يَسْتَطِيعُ أَنْسُ تَرْتِيبَ الْهَدَايَا بِ.....4..... طَرِيقٍ.

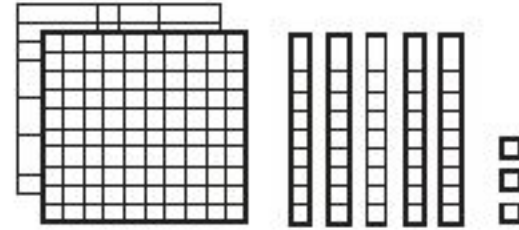
٤ لَا يَسْتَطِيعُ لُؤْيٌ أَنْ يَتَذَكَّرَ الْعَدَدَ الَّذِي يَدُلُّ عَلَى عُنْوَانِ مَنْزِلِهِ لَكِنَّهُ يَتَذَكَّرُ أَنَّ الْعَدَدَ
يَتَكَوَّنُ مِنَ الْأَرْقَامِ ٥ وَ ٢ وَ ٩. كَمْ عَدَدًا يُمَكِّنُ تَكْوِينُهُ مِنْ تِلْكَ الْأَرْقَامِ؟ أَكْتُبِ الْأَعْدَادَ
النَّاتِجَةَ 295 259 592 529 925 952

اَكْتُبْ كُلَّ عَدَدٍ فِيمَا يَأْتِي بِالصُّورَةِ التَّحْلِيلِيَّةِ:



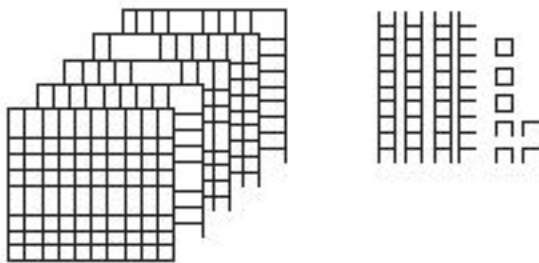
٤١٨ ٢

$$400 + 10 + 8$$




٢٥٣ ١

$$200 + 50 + 3$$



٥٤٧ ٤

$$500 + 40 + 7$$



١٠٠٠ ٣

$$1000 + 0 + 0 + 0$$

أحلّ المسألتين الآتيتين:

٥ قرأ مُعَاذُ فِي صَحِيفَةِ الْمَدْرَسَةِ أَنَّ ١٤٨٣ شَخْصًا قَدْ حَضَرُوا مُبَارَاةَ كُرَةِ الْقَدَمِ. كَيْفَ يُمَكِّنُ أَنْ أُمَثِّلَ هَذَا الْعَدَدَ بِالصُّورَةِ التَّحْلِيلِيَّةِ؟

$$..... 3 + 80 + 400 + 1000 = ١٤٨٣ \text{ شَخْصًا.}$$

٦ حَضَرَ ٣١٠ أَشْخَاصَ حَفْلَ الْمَدْرَسَةِ، إِذَا كُتِبَ هَذَا الْعَدَدُ بِالصُّورَةِ التَّحْلِيلِيَّةِ، فَمَاذَا كُتِبَ فِي مَنْزِلَةِ الْآحَادِ؟

..... 0 آحَاد.

قِرَاءَةُ الأَعْدَادِ حَتَّى ١٠٠٠ وَكِتَابَتُهَا

أَضَعُ ○ حَوْلَ العَدَدِ المَكْتُوبِ بِالكَلِمَاتِ الَّذِي يُمَثِّلُ العَدَدَ المُعْطَى فِي كُلِّ مِمَّا يَأْتِي:

٥٠١

٢

خَمْسُ مِئَةٍ وَوَاحِدٌ

خَمْسُ مِئَةٍ وَعَشْرَةٌ

٨١٣

١

ثَمَانِ مِئَةٍ وَثَلَاثَةَ عَشْرٍ

ثَمَانِ مِئَةٍ وَثَلَاثُونَ

أَقْرَأِ العَدَدَ فِيمَا يَأْتِي وَأَكْتُبُهُ بِطَرِيقَتَيْنِ مُخْتَلِفَتَيْنِ:

سبع مئة واثنني عشر

$$712 = 700 + 10 + 2$$

مِائَاتٍ	عَشْرَاتٍ	أَحَادٍ
٧	١	٢

٣

سِتُّ مِئَةٍ وَثَلَاثَةٌ وَثَمَانُونَ

٤

$$683 = 600 + 80 + \dots 3 \dots$$

مِئَاتٍ	عَشْرَاتٍ	آحَادٍ
6	8	3

أَحُلُّ:

يَقُولُ مُعْتَرِضٌ: إِنَّ عَدَدَ طُلَّابِ مَدْرَسَتِي ثَلَاثُ مِئَةٍ وَخَمْسَةَ وَسُتُونَ طَالِبًا. كَيْفَ يُمَكِّنُ أَنْ يُعَبَّرَ عَنْ ذَلِكَ بِالصُّورَةِ التَّحْلِيلِيَّةِ؟

$$365 = 300 + 60 + \dots 5 \dots$$

يَسْتَعْمِلُ مَا جَدَّ الْجَدْوَلَ الْآتِي لِيُمَثِّلَ عَدَدَ الْكُرَاتِ الرُّجَاجِيَّةِ الَّتِي لَدَيْهِ. كَيْفَ يُمَكِّنُهُ كِتَابَةُ هَذَا الْعَدَدِ بِالْكَلِمَاتِ؟

مِئَاتٍ	عَشْرَاتٍ	آحَادٍ
١	٥	٢

مِئَةٌ وَاثْنَيْنِ وَخَمْسُونَ... كُرَّةٌ رُّجَاجِيَّةٌ.

مُقارَنَةُ الأَعْدَادِ

٦-١٠

أُقارِنُ بَيْنَ العَدَدَيْنِ، وَأَكْتُبُ الإِشَارَةَ المُناسِبَةَ (< أو > أو =) فِي ○ :

٨٣٠ ○ ٧٣٠	٦٧٨ ○ ٦٢٣	٤٥١ ○ ٤١٥
٢٣٩ ○ ٢٤٨	٥٦٠ ○ ٥٤٩	٣٧٥ ○ ٣٧٥
٥٤٥ ○ ٤٤٥	٣٧٩ ○ ٣٨٢	١١١ ○ ١٠٩
٤٢١ ○ ٤٢٩	٢٦١ ○ ٢٥٦	٦٣٧ ○ ٦٤٣
٧٦٩ ○ ٧٦١	٥٩٨ ○ ٥٨٨	٣٧١ ○ ٣١٧

أَحْلُ:

٦ في العُلبَةِ كُرَاتٍ زُجَاجِيَّةٍ عَدَدُهَا أَكْبَرُ مِنْ ٦ مِئَاتٍ وَ ٣ عَشْرَاتٍ وَ ٧ آحَادٍ، وَأَصْغَرُ مِنْ

٦ مِئَاتٍ وَ ٣ عَشْرَاتٍ وَ ٩ آحَادٍ. فَمَا عَدَدُهَا؟

638 كُرَّةٌ زُجَاجِيَّةٌ

٧ أَضَعُ ○ حَوْلَ الإِجَابَةِ الصَّحِيحَةِ فِيمَا يَأْتِي:

عِنْدَ خَالِدٍ ٥٢٩ طَابَعًا، وَعِنْدَ حَمَدٍ ٥١٣ طَابَعًا، إِذَنْ:

٥٢٩ ٥١٣ **أَكْبَرُ مِنْ** أَصْغَرُ مِنْ يُسَاوِي

أَيُّهُمَا عِنْدَهُ الْعَدَدُ الْأَكْبَرُ مِنَ الطَّوَابِعِ؟ **خالد**

٨ أَنْظِرْ إِلَى هَذِهِ الصَّفْحَةِ مَرَّةً أُخْرَى، وَأَضَعُ ○ حَوْلَ كُلِّ عَدَدٍ رَقْمَ عَشْرَاتِهِ ٥.

أَرْتَبُ الأَعْدَادَ الآتِيَةَ مِنْ الأَصْغَرِ إِلَى الأَكْبَرِ :

312 ، 291 ، 274 ، 248 ٢٩١ ، ٣١٢ ، ٢٤٨ ، ٢٧٤ ①

682 ، 631 ، 628 ، 619 ٦١٩ ، ٦٣١ ، ٦٢٨ ، ٦٨٢ ②

554 ، 485 ، 452 ، 444 ٤٥٢ ، ٤٤٤ ، ٥٥٤ ، ٤٨٥ ③

أَرْتَبُ الأَعْدَادَ الآتِيَةَ مِنْ الأَكْبَرِ إِلَى الأَصْغَرِ :

235 ، 370 ، 387 ، 412 ٣٧٠ ، ٤١٢ ، ٢٣٥ ، ٣٨٧ ④

109 ، 901 ، 919 ، 991 ١٠٩ ، ٩٩١ ، ٩٠١ ، ٩١٩ ⑤

283 ، 328 ، 823 ، 832 ٨٢٣ ، ٢٨٣ ، ٣٢٨ ، ٨٣٢ ⑥

117 ، 171 ، 717 ، 771 ٧٧١ ، ١٧١ ، ١١٧ ، ٧١٧ ⑦

أَحْلُ:

٨ باعَتْ مَكْتَبَةٌ ٧٤٩ كِتَابًا يَوْمَ الْجُمُعَةِ، وَ ٩٨٤ يَوْمَ السَّبْتِ، وَ ٦٢١ يَوْمَ الْأَحَدِ.

كَيْفَ يُمَكِّنُ تَرْتِيبُ مَبِيعَاتِ الْكُتُبِ مِنَ الْأَصْغَرِ إِلَى الْأَكْبَرِ؟

984 ، 749 ، 621

٩ وَفِي يَوْمِ الْإِثْنَيْنِ بَاعَتْ الْمَكْتَبَةُ ٦٧٠ كِتَابًا. كَيْفَ يُمَكِّنُ تَرْتِيبُ مَبِيعَاتِ الْكُتُبِ مِنَ

الْأَكْبَرِ إِلَى الْأَصْغَرِ؟

621 ، 670 ، 749 ، 984

أَكْتَشِفُ النَّمَطَ ، ثُمَّ أَكْتُبُ الْأَعْدَادَ الْمَفْقُودَةَ:

١ ٩٩٩ ، ١٠٠٠ ، ٩٩٨ ، ٩٩٧ ، 996
النَّمَطُ هُوَ: كل عدد ينقص 1

٢ ٥٢٤ ، 534 ، ٥٤٤ ، ٥٥٤ ، 564
النَّمَطُ هُوَ: كل عدد يزيد 10

٣ ٢٨٣ ، 183 ، ٣٨٣ ، 483 ، ٥٨٣
النَّمَطُ هُوَ: كل عدد يزيد 100

٤ ٨٤٥ ، 945 ، ٦٤٥ ، ٧٤٥ ، 545
النَّمَطُ هُوَ: كل عدد ينقص 100

٥ ٩٥١ ، 931 ، ٩٤١ ، ٩٢١ ، 911
النَّمَطُ هُوَ: كل عدد ينقص 10

أَسْتَعْمِلُ النَّمْطَ لِأَحْلِ الْمَسْأَلَةِ:

٦ طَبَعَ طَارِقٌ هَذِهِ الْأَعْدَادَ عَلَى حَاسُوبِهِ: ٤٩٥، ٥٠٥، ٥١٥، ٥٢٥، ٥٣٥

ما الْعَدْدُ التَّالِي؟ **485**

٧ فِيمَا يَأْتِي أَعْدَادُ الشُّطَائِرِ الَّتِي يَبِيعُهَا مَطْعَمٌ أُسْبُوعِيًّا عَلَى مَدَى ٥ أُسَابِيعٍ:

٧٢٣، ٧٣٣، ٧٤٣، ٧٥٣، ٧٦٣.

إِذَا اسْتَمَرَّتِ الْمَبِيعَاتُ عَلَى النَّمْطِ نَفْسِهِ، فَكَمْ سَتَبْلُغُ مَبِيعَاتُ الْأُسْبُوعِ الْقَادِمِ؟

773... شَطِيرَةٌ.