

تم تحميل هذا الملف من موقع المناهج البحرينية



*للحصول على أوراق عمل لجميع الصفوف وجميع المواد اضغط هنا

<https://almanahj.com/bh>

* للحصول على أوراق عمل لجميع مواد الصف الثاني اضغط هنا

<https://almanahj.com/bh/2>

* للحصول على جميع أوراق الصف الثاني في مادة اجتماعيات ولجميع الفصول, اضغط هنا

<https://almanahj.com/bh/2social>

* للحصول على أوراق عمل لجميع مواد الصف الثاني في مادة اجتماعيات الخاصة بـ الفصل الثاني اضغط هنا

<https://almanahj.com/bh/2social2>

* لتحميل كتب جميع المواد في جميع الفصول للـ الصف الثاني اضغط هنا

<https://almanahj.com/bh/grade2>

للتحدث إلى بوت على تلغرام: اضغط هنا

https://t.me/omcourse_bot

تقويم المواد الاجتماعية

للف : الثاني .

(1) أين تقع مملكة البحرين ؟

.....

(2) أعدد أسماء الدول التي تجاور مملكة البحرين؟

.....

(3) ماهي الروابط التي تربط البحرين بالدول العربية ؟

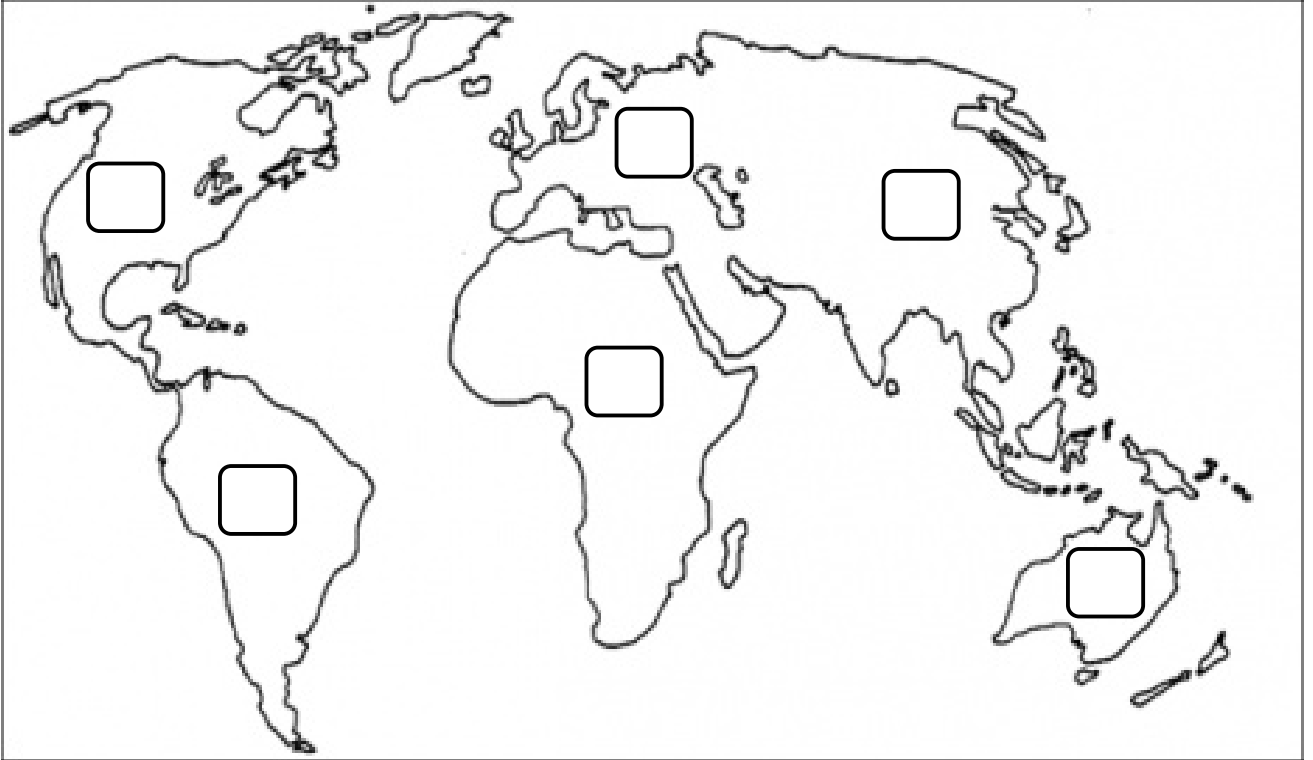
.....،.....

(4) ماهي عاصمة البحرين ؟

.....

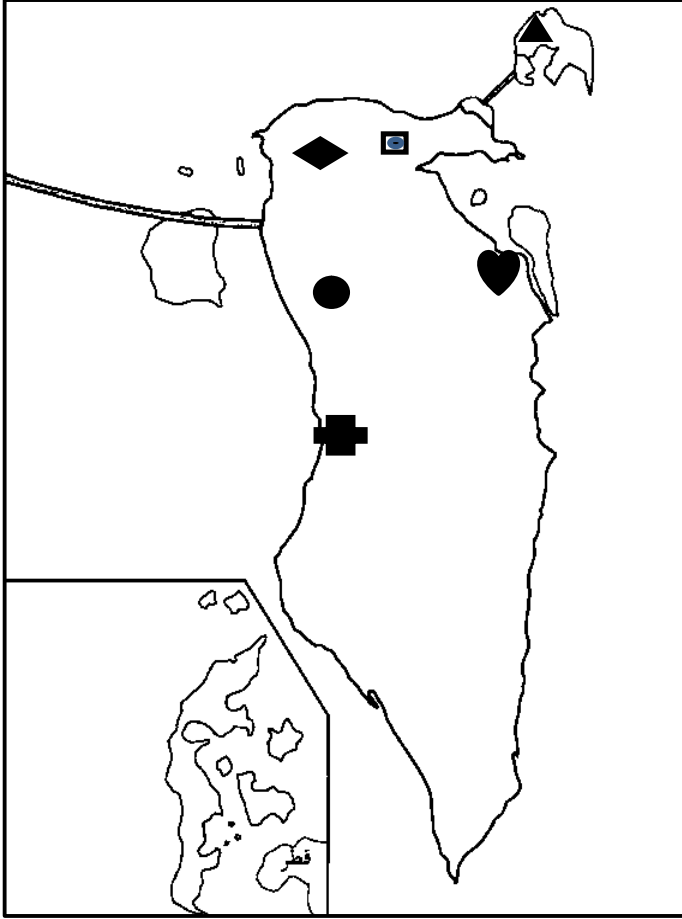
ألاحظ الخريطة جيدا ثم أكتب الرقم القارات العالم على الخريطة فيما يلي:-

(1_ آسيا ، 2_ أفريقيا ، 3_ أوروبا ، 4_ أمريكا الشمالية ، 5_ أمريكا الجنوبية ، 6_ أوقيانوسيا)

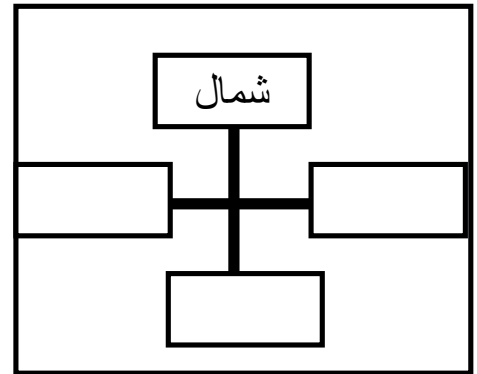


ألاحظ خريطة البحرين جيداً.

مفتاح الخريطة:



	المنامة
	الزلاق
	محرق
	مدينة حمد
	جدحفص
	سترة



من خلال الخريطة ، أجب عن الأسئلة التالية :

(1) أكتب أسماء مدن وقرى البحرين بالاستعانة بمفتاح الخريطة .

(2) أكتب أسماء الجهات الأصلية على الرسم الموضح لها.

(3) أكمل :

(مملكة البحرين ، أكبر ، عنوان ، مفتاح لرموز ، رسم ، الأعلى ، الجهات الاصلية)

الخريطة للبلدان والقارات كما نراها من

لكل خريطة : و..... و.....

مساحة الماء من مساحة اليابسة .

عنوان هذه الخريطة :



أكمل الفراغ بالكلمة المناسبة :-

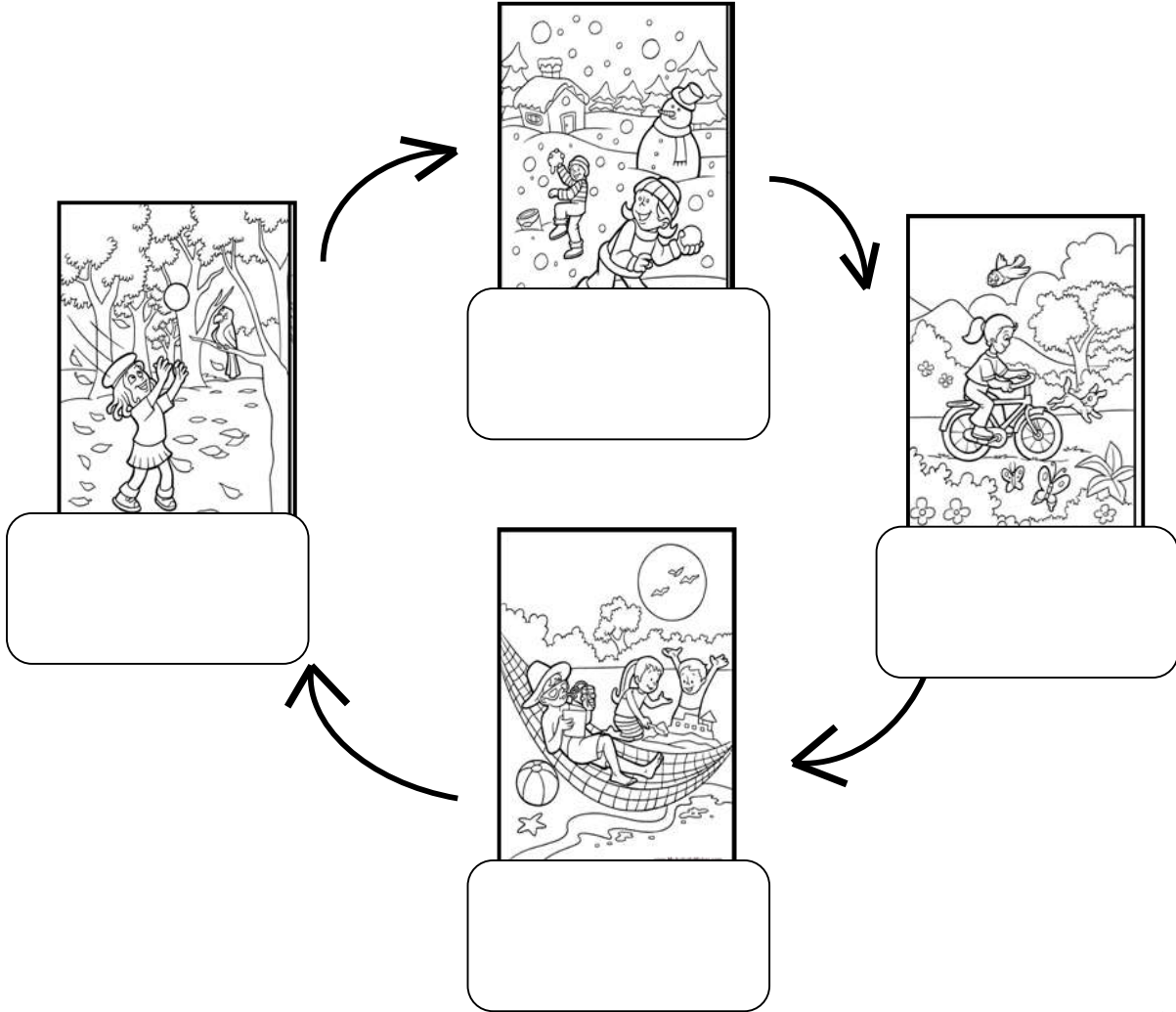
- 1_ تتألف الأرض من : و
- 2_ تتألف اليابسة من
- 3_ تتألف المياه من و
- 4_ تقع مملكة البحرين في قارة

صل :-

- | | |
|--------|---|
| الربيع | 1_ يكون الجو أكثر برودة في فصل |
| الشتاء | 2_ تتساقط أوراق الأشجار في فصل |
| الخريف | 3_ يكون الجو أشد حرارة في فصل |
| الصيف | 4_ تنمو النباتات ويكون الجو دافئاً في فصل |

اكمل:-

(الشتاء ، الربيع ، الصيف ، الخريف)



ضع دائرة:-

ماهي اهمية الشمس .

1_ تدفئ الهواء والماء واليابسة.

2_ يكون الجو أكثر برودة .

3_ يتساقط الثلج .