

تم تحميل هذا الملف من موقع المناهج البحرينية



* للحصول على أوراق عمل لجميع الصفوف وجميع المواد اضغط هنا

<https://almanahj.com/bh>

* للحصول على أوراق عمل لجميع مواد الصف الثاني اضغط هنا

<https://almanahj.com/bh/2>

* للحصول على جميع أوراق الصف الثاني في مادة رياضيات ولجميع الفصول, اضغط هنا

<https://almanahj.com/bh/2math>

* للحصول على أوراق عمل لجميع مواد الصف الثاني في مادة رياضيات الخاصة بـ الفصل الثاني اضغط هنا

<https://almanahj.com/bh/2math2>

* لتحميل كتب جميع المواد في جميع الفصول للـ الصف الثاني اضغط هنا

<https://almanahj.com/bh/grade2>

[almanahjbhbot/me.t//:https](https://t.me/almanahjbhbot)

للتحدث إلى بوت على تلغرام: اضغط هنا

المجسمات

صل الشكل إلى اسمه:



مكعب



أسطوانة



مخروط



هرم




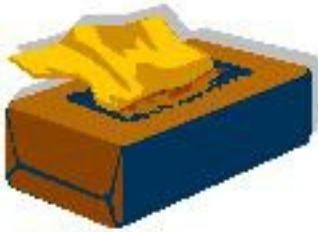


كرة

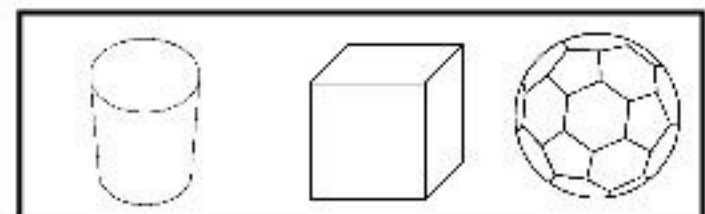
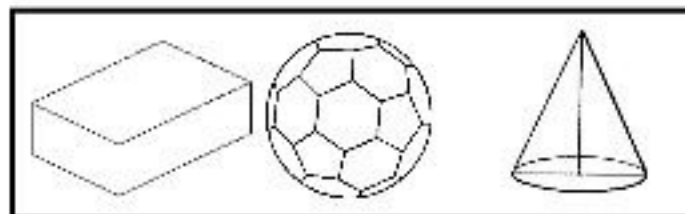


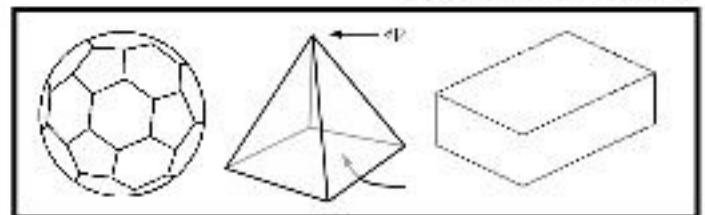
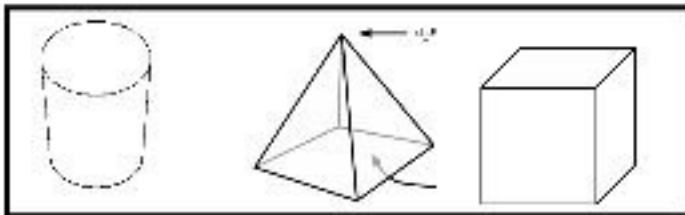




متوازي مستطيلات

اكتب اسم الجسم :-



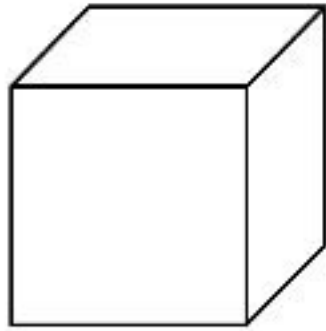
لون الشكل المطلوب :-





الأوجه والأحرف والرؤوس.

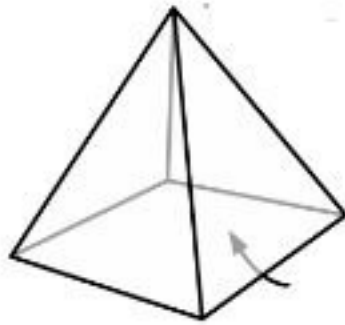
ما عدد الأوجه والرؤوس والأحرف التي يتمثل الشكل التالي؟



1_ عدد الأوجه =

2_ عدد الأحرف =

3_ عدد الرؤوس =



_ عدد الأوجه =

2_ عدد الأحرف =

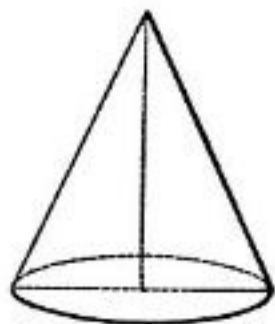
3_ عدد الرؤوس =



1_ عدد الأوجه =

2_ عدد الأحرف =

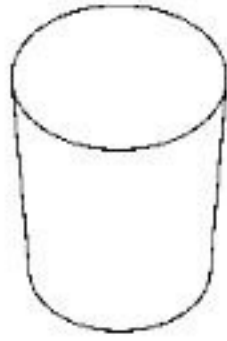
3_ عدد الرؤوس =



_ عدد الأوجه =

2_ عدد الأحرف =

٣_ عدد الرؤوس =



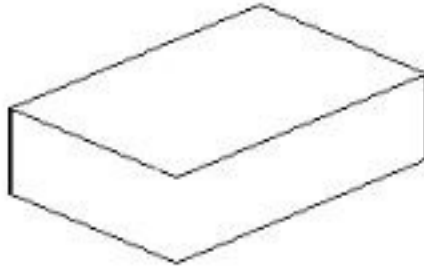
١_ عدد الأوجه =



٢_ عدد الأحرف =



٣_ عدد الرؤوس =



١_ عدد الأوجه =



٢_ عدد الأحرف =



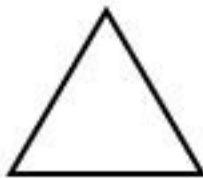


٣_ عدد الرؤوس =

الأشكال المستوية:

ما اسم هذه الأشكال:

(دائرة، متوازي أضلاع، شبه منحرف، سداسي، مثلث، مربع، مستطيل)




سيحتاج جاسم الى مكعباً

سيحتاج جاسم الى كرة


الأشكال المستوية الأضلاع والرؤوس.

ما عدد الأضلاع والرؤوس التي يمثّلها الشكل التالي؟


عدد الرؤوس = () عدد الأضلاع = ()




عدد الرؤوس = () عدد الأضلاع = ()



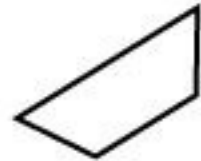
عدد الرؤوس = () عدد الأضلاع = ()




عدد الرؤوس = () عدد الأضلاع = ()



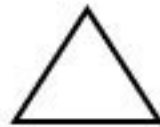
عدد الرؤوس = () عدد الأضلاع = ()



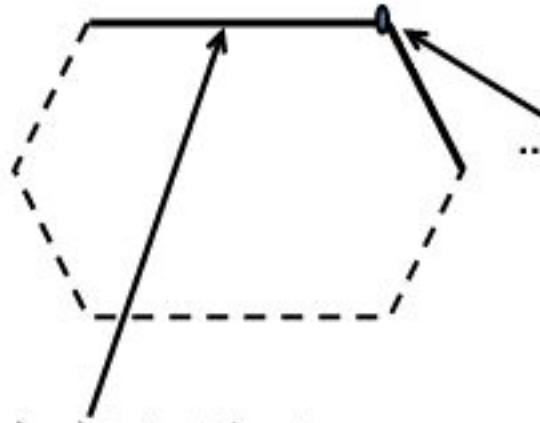
عدد الرؤوس = () عدد الأضلاع = ()



عدد الرؤوس = () عدد الأضلاع = ()

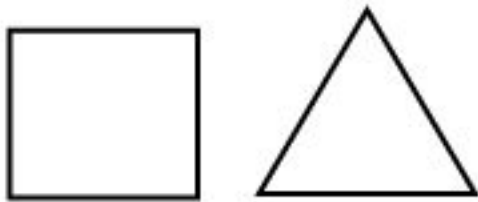


أكمل الرسم ، ثم اكتب مكان الفراغ الكلمة الدالة عليها.



مقارنة الأشكال الهندسية

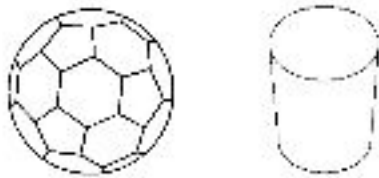
هل المثلث ومربع متشابهان أم مختلفان .



المثلث له أضلاع ، رؤوس .

أما المربع أضلاع رؤوس .

هل أسطوانة وكرة متشابهان أم مختلفان .



أسطوانة أضلاع ، رؤوس .

أما كرة أضلاع رؤوس .

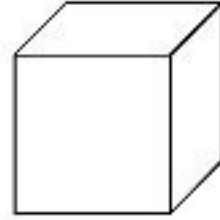
اكتب أوجه الشبه بين : شبه منحرف ومتوازي أضلاع ؟



.....

.....

اكتب أوجه الشبه بين : مكعب و كرة ؟

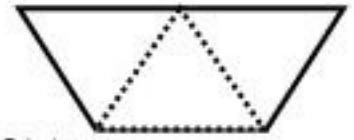


.....

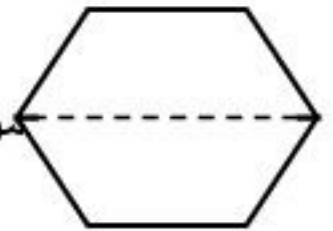
.....

تكوين الأشكال .

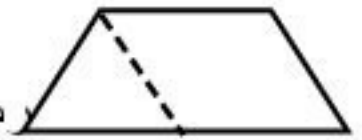
أحوط الأشكال التي سنكون من الشكل المجاور.



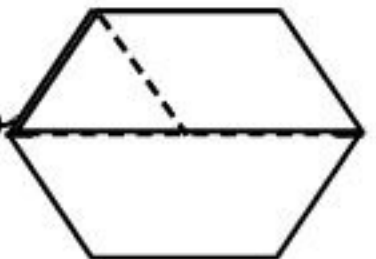
مربع ، مثلث ، شبه منحرف ، مستطيل .



مربع ، مثلث ، شبه منحرف ، مستطيل



مربع ، مثلث ، شبه منحرف ، مستطيل



مربع ، مثلث ، شبه منحرف ، متوازي المستطيلات

أرسم خطوطاً لأكون شبه منحرف واحداً ٣ مثلثات .

