

تم تحميل هذا الملف من موقع المناهج البحرينية



تم تحميل هذا الملف من
موقع المناهج البحرينية

alManahj.com/bh

الملف اختبار القيمة المنزلية

[موقع المناهج](#) ⇐ ⇐ [الصف الثاني](#) ⇐ [رياضيات](#) ⇐ [الفصل الأول](#)

روابط مواقع التواصل الاجتماعي بحسب الصف الثاني



روابط مواد الصف الثاني على تلغرام

[الرياضيات](#)

[اللغة الانجليزية](#)

[اللغة العربية](#)

[التربية الاسلامية](#)


المزيد من الملفات بحسب الصف الثاني والمادة رياضيات في الفصل الأول

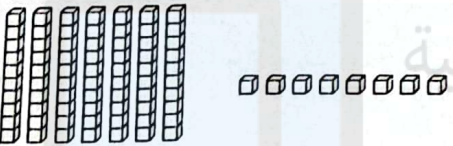
حل كتاب الطالب	1
حل كتاب التمارين	2
حل كتاب التمارين	3
كتاب الطالب الجزء الأول	4
كتاب التمارين الجزء الأول	5


اختبار رياضيات
القيمة المنزلية
(نموذج)

الاسم: ----- الصف الثاني فرقة: -----

اكتب عدد الآحاد وعدد العشرات:

	$30 = \text{-----} \text{ آحاد و } \text{-----} \text{ عشرات}$
---	--

	$78 = \text{-----} \text{ آحاد و } \text{-----} \text{ عشرات}$
---	--

	$45 = \text{-----} \text{ آحاد و } \text{-----} \text{ عشرات}$
---	--

أحوظ القيمة المنزلية للرقم الذي تحته خط:

<u>97</u>	<u>42</u>	<u>70</u>
٧ أو ٧٠	٤ أو ٤٠	٥ أو ٥٠
<u>34</u>	<u>17</u>	<u>98</u>
٣ أو ٣٠	١ أو ١٠	٨ أو ٨٠