


تم تحميل هذا الملف من موقع المناهج البحرينية



الملف نشاط الكسور في الرياضيات

موقع المناهج ← ← الصف الثاني ← رياضيات ← الفصل الثاني ← الملف

روابط مواقع التواصل الاجتماعي بحسب الصف الثاني



روابط مواد الصف الثاني على تلغرام

[الرياضيات](#)

[اللغة الانجليزية](#)

[اللغة العربية](#)

[التربية الاسلامية](#)

المزيد من الملفات بحسب الصف الثاني والمادة رياضيات في الفصل الثاني

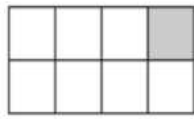
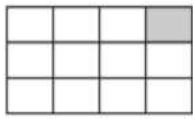
نشاط الكسور في الرياضيات	1
تدريبات على درس مقارنة الكسور	2
تدريبات على كسور الوحدة	3
نشاط وحدة الكسور	4
مذكرة الأنشطة الصفية	5



نشاط الكسور لمادة الرياضيات

الأميرة: ----- الصف: ٢ف ----- التاريخ: -----

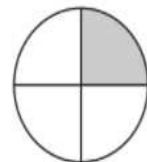
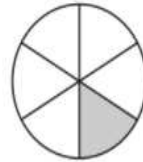
أقارن بين الكسرين. أكتب < أو > :



$\frac{1}{12}$




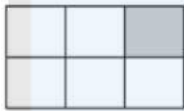
$\frac{1}{8}$



$\frac{1}{6}$




$\frac{1}{4}$



$\frac{1}{6}$



$\frac{1}{8}$

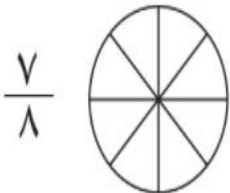


$\frac{1}{3}$



$\frac{1}{4}$

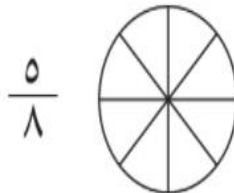
ألون الجزء الذي يمثل الكسر المكتوب، وأحدّد إن كان الكسر أقرب إلى
(٠ أو $\frac{1}{4}$ أو ١)، أحوط الإجابة الصحيحة:



$\frac{7}{8}$



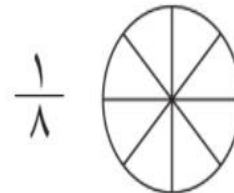
$1 \quad \frac{1}{2} \quad 0$



$\frac{5}{8}$



$1 \quad \frac{1}{2} \quad 0$



$\frac{1}{8}$



$1 \quad \frac{1}{2} \quad 0$