

تم تحميل هذا الملف من موقع المناهج البحرينية



* للحصول على أوراق عمل لجميع الصفوف وجميع المواد اضغط هنا

<https://almanahj.com/bh>

* للحصول على أوراق عمل لجميع مواد الصف الثاني اضغط هنا

<https://almanahj.com/bh/2>

* للحصول على جميع أوراق الصف الثاني في مادة رياضيات ولجميع الفصول, اضغط هنا

<https://almanahj.com/bh/2math>

* للحصول على أوراق عمل لجميع مواد الصف الثاني في مادة رياضيات الخاصة بـ الفصل الثاني اضغط هنا

<https://almanahj.com/bh/2math2>

* لتحميل كتب جميع المواد في جميع الفصول للـ الصف الثاني اضغط هنا


<https://almanahj.com/bh/grade2>

[almanahjbhbot/me.t//:https](https://t.me/almanahjbhbot)

للتحدث إلى بوت على تلغرام: اضغط هنا

الكسور


أكتب الكسر الدال على الجزء الملون.



$$\frac{\square}{\square}$$



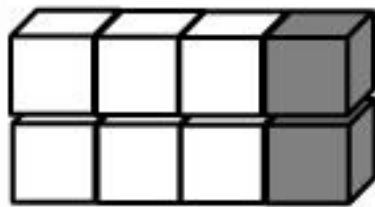
$$\frac{\square}{\square}$$



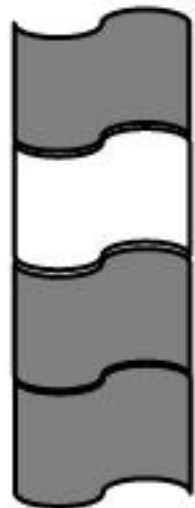
$$\frac{\square}{\square}$$



$$\frac{\square}{\square}$$

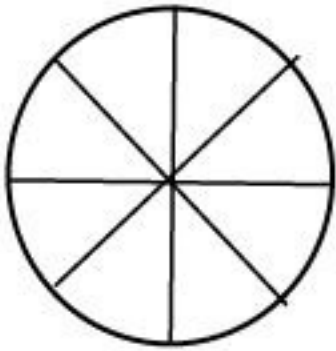


$$\frac{\square}{\square}$$




$$\frac{\square}{\square}$$

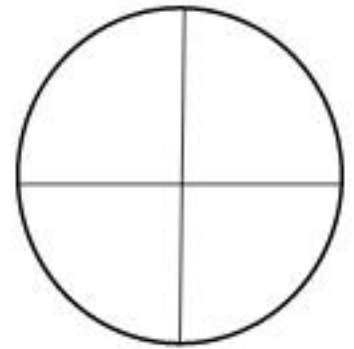
لوّن الجزء الذي يمثل الكسر المكتوب.




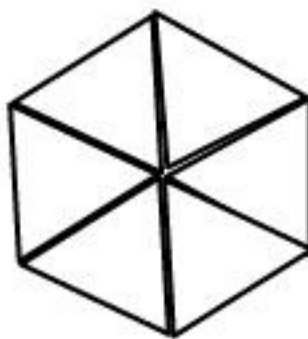
$$\frac{\boxed{3}}{\boxed{8}}$$



$$\frac{\boxed{1}}{\boxed{2}}$$

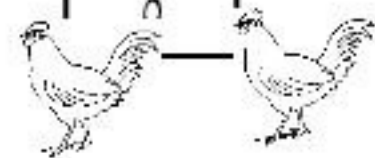


$$\frac{\boxed{2}}{\boxed{4}}$$




$$\frac{\boxed{2}}{\quad}$$

$$\frac{\boxed{5}}{\quad}$$



$$\frac{\boxed{2}}{\quad}$$

$$\frac{\boxed{5}}{\quad}$$



$$\frac{\boxed{7}}{\quad}$$

$$\frac{\boxed{8}}{\quad}$$

$$\frac{\boxed{4}}{\quad}$$

$$\frac{\boxed{6}}{\quad}$$



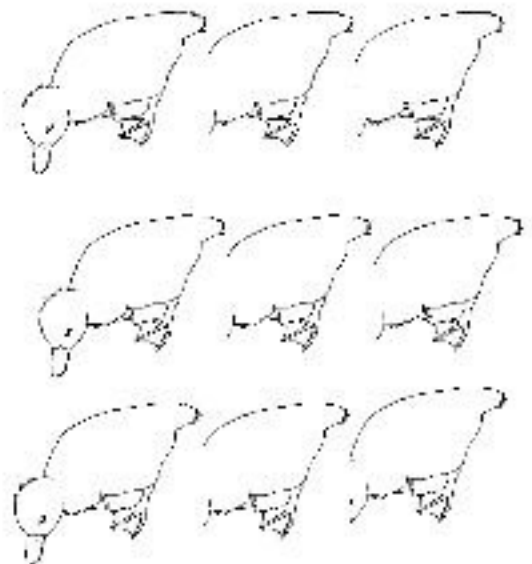
لون ما المكتوب :

$$\frac{\boxed{6}}{\quad}$$

$$\frac{\boxed{8}}{\quad}$$

$$\frac{\boxed{5}}{\quad}$$

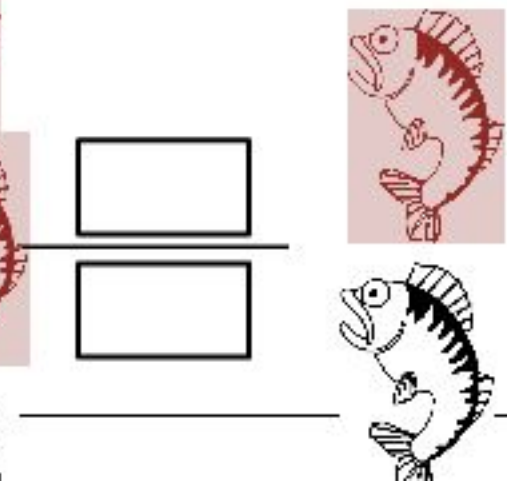
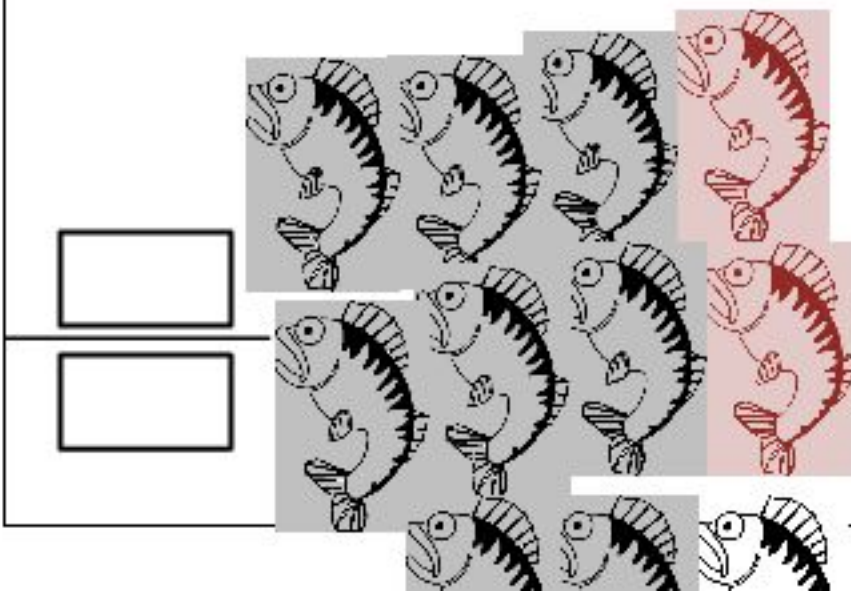
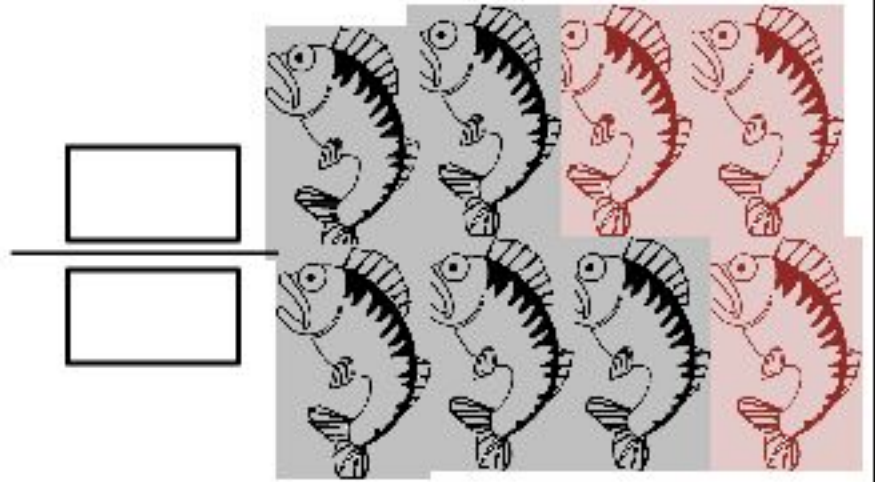
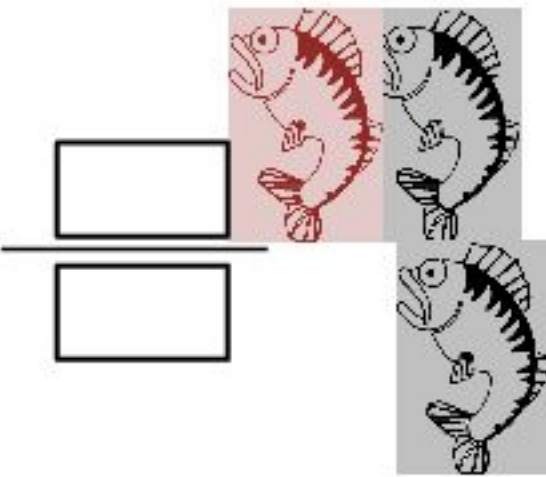
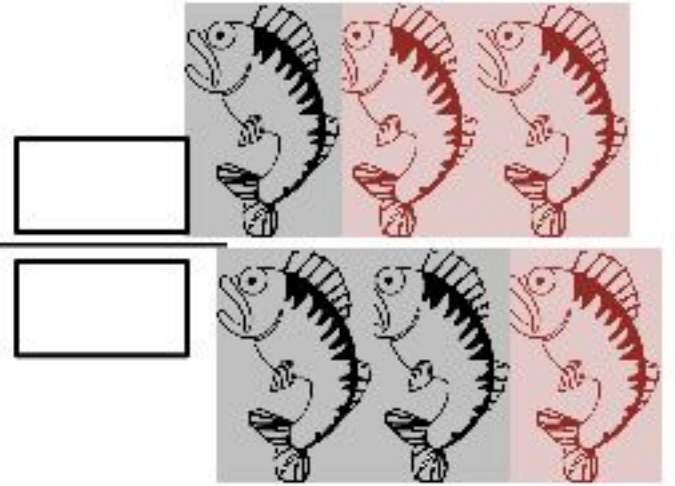
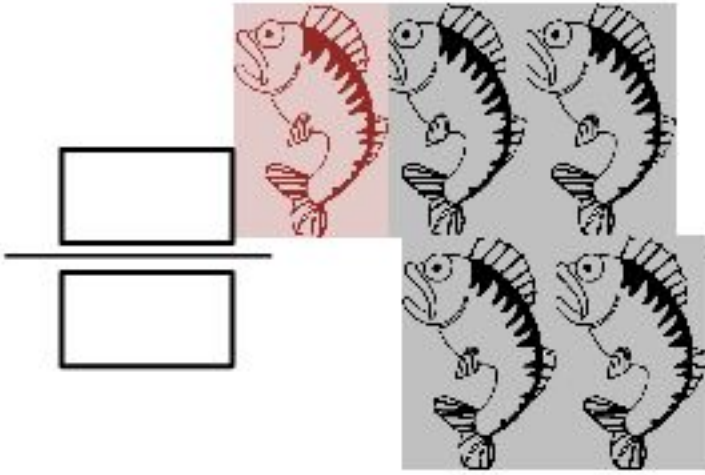
$$\frac{\boxed{6}}{\quad}$$



$$\frac{\boxed{4}}{\quad}$$

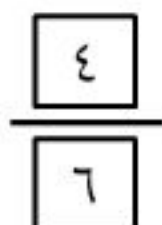
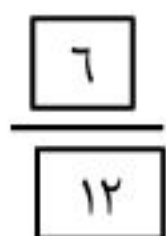
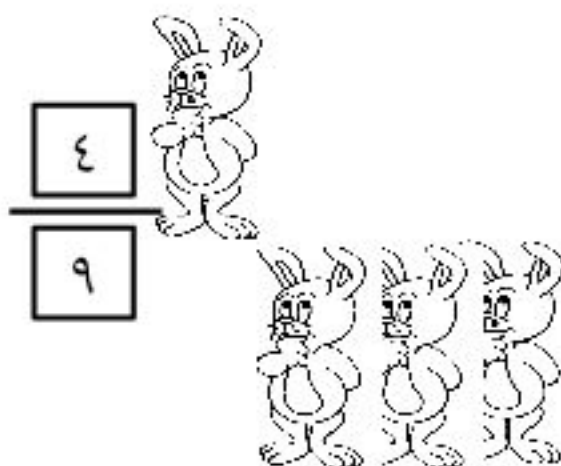
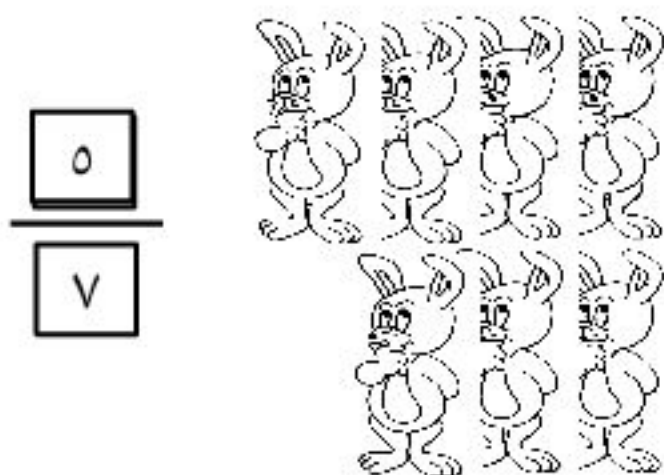
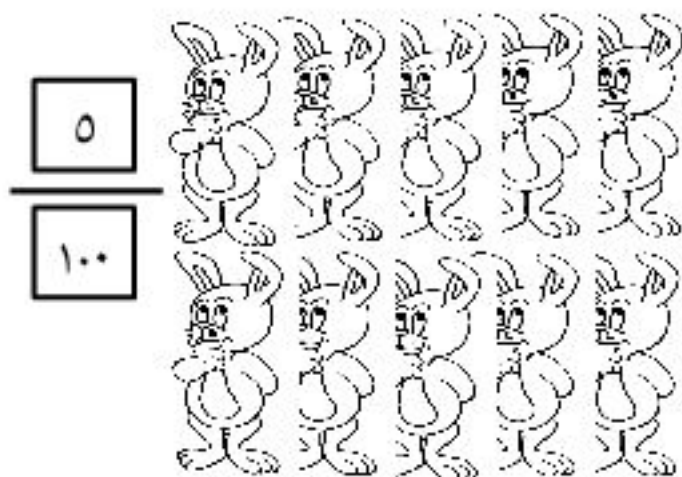
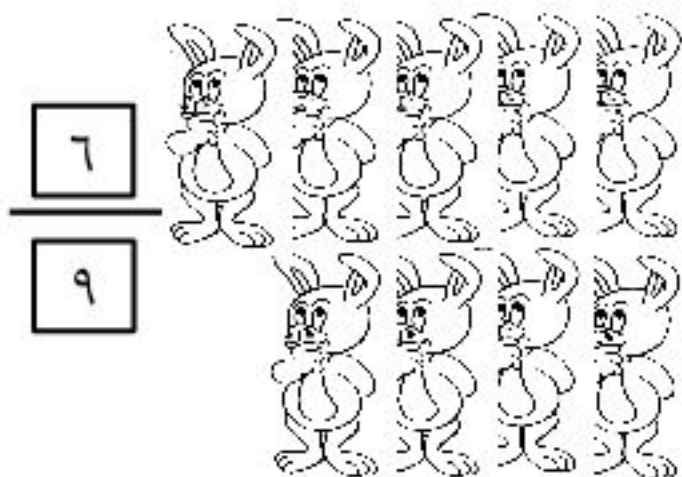
$$\frac{\boxed{9}}{\quad}$$

اكتب الكسر الدال على الجزء الملون .





لون ما يمثل الكسر المكتوب



* ألون نصف كل شكل من الأشكال التالية باللون الذي أرغب فيه :




* أحيط نصف كل مجموعة من الأشياء، بخط وأكمل الجمل :




..... = نصف ألك ٤



..... = نصف ألك ٦



..... = نصف ألك ٦



..... = نصف ألك ١٢



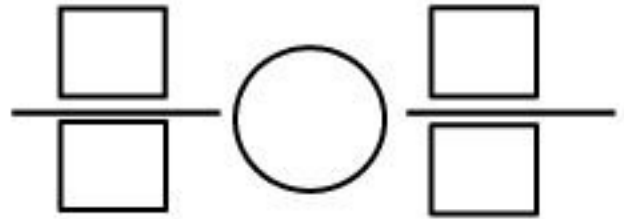
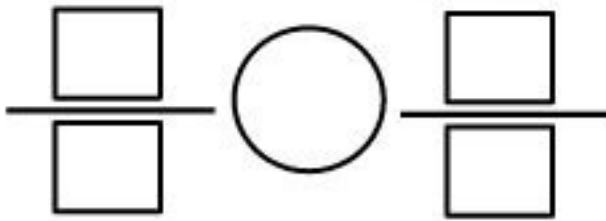
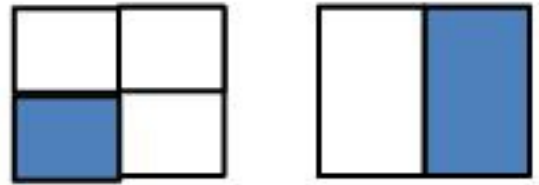
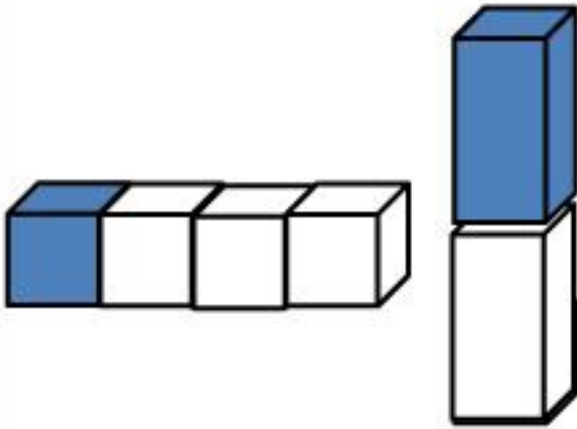
١ أضع دائرة حول ربع كل مجموعة المجموعات الآتية :

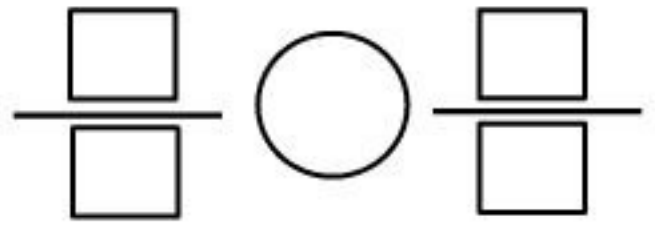
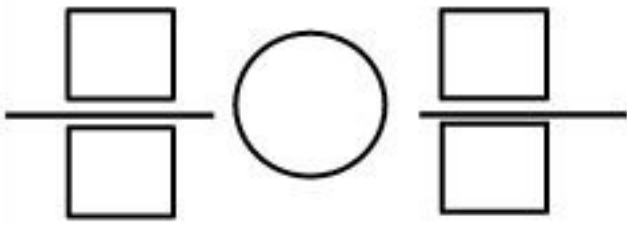


..... = ربع عدد البطات ٤

مقارنة الكسور:-

أكتب الكسر الدال على الجزء الملون ثم اكتب < أو > في






تقريب الكسور .

ألون الجزء الذي يمثل الكسر المكتوب ، وأحدد إن كان الكسر أقرب إلى


$(0, \frac{1}{2}, 1)$ ، أوحيط الإجابة الصحيحة .



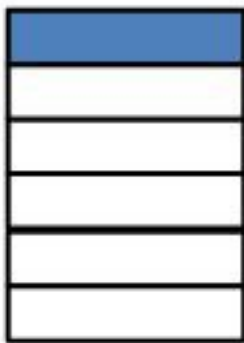
$(0, \frac{1}{2}, 1)$ $\frac{1}{2}$



$(0, \frac{1}{2}, 1)$ $\frac{1}{2}$




$(0, \frac{1}{2}, 1)$ $\frac{1}{2}$



1



1



1

$$\frac{1}{2} \quad (1, \dots) \quad \frac{1}{2} \quad (\dots) \quad (1, \dots)$$

أعد الاجزاء الملونة ، واكتب الكسر الدال عليها ، ثم أحوط الكسر الذي يساوي 1

