

تم تحميل هذا الملف من موقع المناهج البحرينية



الملف حاجات النبات

موقع المناهج < < < [الصف الثاني](#) < < [علوم](#) < < [الفصل الأول](#)

almanahj.com/bh

روابط مواقع التواصل الاجتماعي بحسب الصف الثاني



روابط مواد الصف الثاني على تلغرام

[الرياضيات](#)

[اللغة الانجليزية](#)

[اللغة العربية](#)

[التربية الاسلامية](#)



المزيد من الملفات بحسب الصف الثاني والمادة علوم في الفصل الأول

حل كراس النشاط	1
مذكرة أسئلة وأجوبة	2
كتاب الطالب الجزء الأول	3
ملخص شامل	4
نشاط تدريبي (أماكن العيش)	5

الفصل الأول : النباتات
الدرس الأول : حاجات النباتات


(١)

** من السهل أحياناً أن نعرف أن الحيوانات تنمو فهي تتنفس الهواء وتأكل الطعام وتشرب الماء وتتحرك ومن خلال ذلك نعرف انها مخلوقات حية.

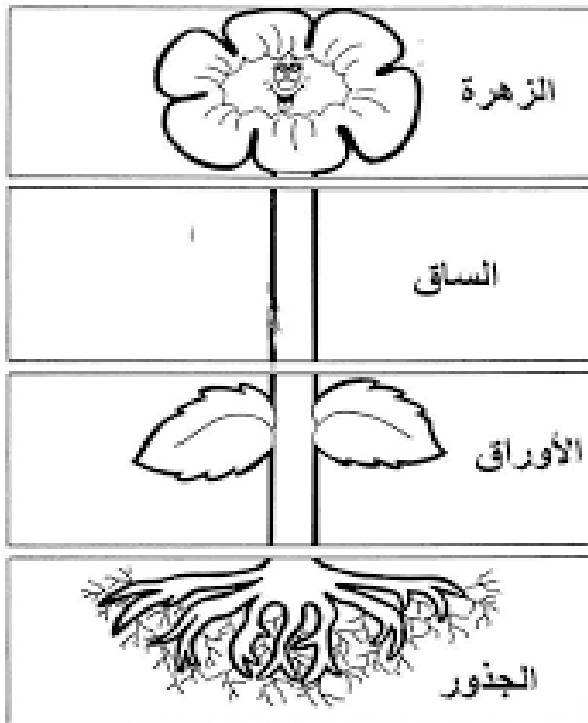


موقع
المنهج البحرينية
almanahj.com/bh

** النباتات أيضاً كائنات حية وتنمو ولكن لا يسهل ملاحظة ذلك بسهولة فهي تحتاج إلى مراقبة لفترة معينة ، وأيضاً تحتاج إلى الماء والهواء والشمس ومكان مناسب تعيش فيه.



أجزاء النبات



أجزاء النبات
النبات يتكون من عدة أجزاء
وهي :


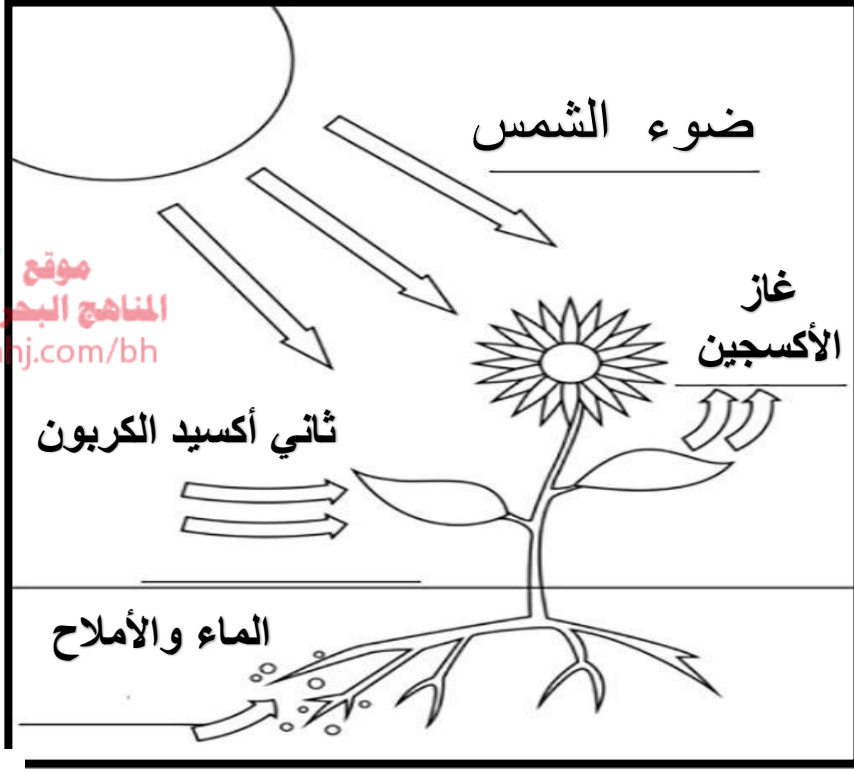


هيا نمسح الرمز
ونستمع
بالأشودة.



* كيف تصنع النباتات غذاءها ؟

النباتات تصنع غذائها بنفسها وهي تحتاج إلى :
* الشمس * الهواء * الماء والأملاح * غاز ثاني أكسيد الكربون



- * الأوراق : تأخذ الهواء وتستخدم ضوء الشمس لصنع الغذاء
- * الساق : تدعم النبات ويمر من خلالها الماء والغذاء .
- * الجذور : تثبت النبات في التربة وتمتص الماء والأملاح .
- * الأوكسجين : غاز ينتجه النبات ويتنفسه الحيوان والإنسان .



إذن يكون النبات غذائه من خلال :

الشمس + الهواء + الماء والأملاح ← الغذاء + غاز الأوكسجين .

مديرة المدرسة
أ / حصة المهيزع

المديرة مساعدة
أ / عبير حسن

اعداد
أ/ انجي يوسف

(١)

الفصل الأول : النباتات
الدرس الأول : حاجات النباتات
(نشاط تدريبي)

• السؤال الأول:
تحتاج النباتات إلى .

موقع
المناهج البحرينية
almanahj.com/bh

• السؤال الثاني :
أكتب المصطلح في الفراغ المناسب .

(1) تثبت النبات في التربة وتأخذ الماء و الأملاح .

(2) تصنع الغذاء للنبات و تستمد الضوء من الشمس .

(3) يتنفس الإنسان والحيوان غاز

(4) تدعم النبات وتسمح للماء والهواء بالانتقال
من خلاله .

الأكسجين

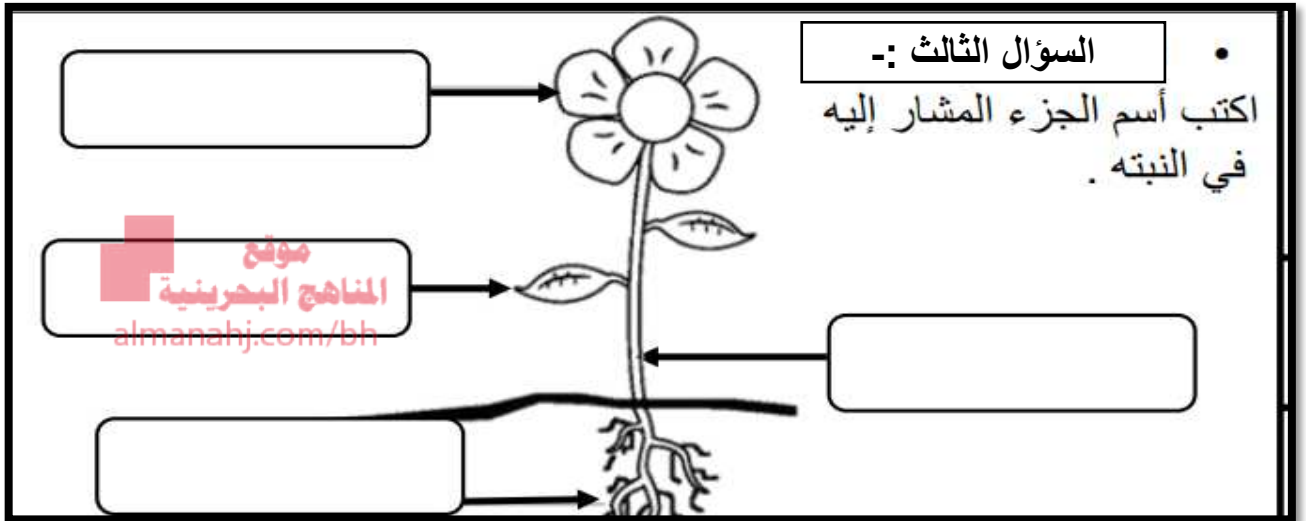
الجزور

الأوراق

الساق

(٢)

الفصل الأول : النباتات
الدرس الأول : حاجات النباتات
(نشاط تدريبي)



السؤال الرابع : الصورة التي أمامك تعبر عن تكوين النبات للغذاء ، اكتب المعلومات المطلوبة على الرسم :-

