

تم تحميل هذا الملف من موقع المناهج البحرينية



*للحصول على أوراق عمل لجميع الصفوف وجميع المواد اضغط هنا

<https://almanahj.com/bh>

* للحصول على أوراق عمل لجميع مواد الصف الثاني اضغط هنا

<https://almanahj.com/bh/2>

* للحصول على جميع أوراق الصف الثاني في مادة رياضيات ولجميع الفصول, اضغط هنا

<https://almanahj.com/bh/2math>

* للحصول على أوراق عمل لجميع مواد الصف الثاني في مادة رياضيات الخاصة بـ الفصل الأول اضغط هنا

<https://almanahj.com/bh/2math1>

* لتحميل كتب جميع المواد في جميع الفصول للـ الصف الثاني اضغط هنا

<https://almanahj.com/bh/grade2>

[almanahjbhbot/me.t//:https](https://t.me/almanahjbhbot)

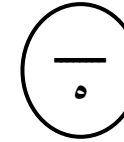
للتحدث إلى بوت على تلغرام: اضغط هنا

التاريخ: / / م

المادة: رياضيات - الصف الثاني

التاريخ: / / م

المادة: رياضيات - الصف الثاني



٢- حوِّط القيمة المنزلية للرقم الذي تحته خط:

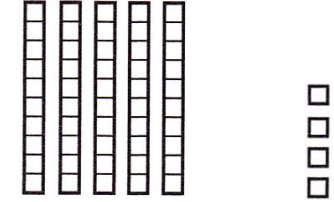
١- اكتب العدد:

$\begin{array}{r} \underline{44} \\ 4 \text{ أو } 40 \end{array}$

$\begin{array}{r} \underline{63} \\ 3 \text{ أو } 30 \end{array}$

$\begin{array}{r} \underline{25} \\ 5 \text{ أو } 50 \end{array}$

آحاد	عشرات



.....

..... آحاد و عشرات

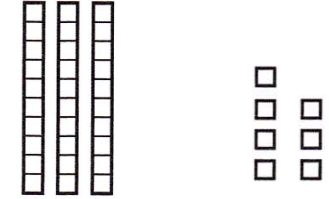
..... = +

$\begin{array}{r} \underline{91} \\ 9 \text{ أو } 90 \end{array}$

$\begin{array}{r} \underline{58} \\ 8 \text{ أو } 80 \end{array}$

$\begin{array}{r} \underline{17} \\ 1 \text{ أو } 10 \end{array}$

آحاد	عشرات



.....

..... آحاد و عشرات

..... = +

موقع
المناهج البحرينية
almanahj.com/bh


٣- اكتب عدد الآحاد وعدد العشرات:

آحاد	عشرات
٨	٢

..... = ٢٨ آحاد و عشرات

..... = +

آحاد	عشرات



.....

..... آحاد و عشرات

..... = +

آحاد	عشرات
١	٧

..... = ٧١ آحاد و عشرات

..... = +