


تم تحميل هذا الملف من موقع المناهج البحرينية



الملف أنشطة تدريبية وحدة الزمن

[موقع المناهج](#) ⇌ [الصف الثاني](#) ⇌ [رياضيات](#) ⇌ [الفصل الأول](#)

روابط مواقع التواصل الاجتماعي بحسب الصف الثاني



روابط مواد الصف الثاني على تلغرام

<a href="#">الرياضيات</a>	<a href="#">اللغة الانجليزية</a>	<a href="#">اللغة العربية</a>	<a href="#">التربية الاسلامية</a>
---------------------------	----------------------------------	-------------------------------	-----------------------------------

المزيد من الملفات بحسب الصف الثاني والمادة رياضيات في الفصل الأول

<a href="#">حل كتاب الطالب</a>	1
<a href="#">حل كتاب التمارين</a>	2
<a href="#">حل كتاب التمارين</a>	3
<a href="#">كتاب الطالب الجزء الأول</a>	4
<a href="#">كتاب التمارين الجزء الأول</a>	5



إعداد: أ. هيام فريد

## نشاط تدريبي

almanahj.com/bh

بسم الله الرحمن الرحيم

المادة / رياضيات

الموضوع / الوقت بالساعات الكاملة

الصف / الثاني الابتدائي

التاريخ /



الحصة /

الاسم /


مثال : استعمل الصورة وأكتب الوقت الذي تشير اليه الساعة

1-

موقع  
المنهج البحرينية  
almanahj.com/bh



2-





إعداد: أ. هيام فريد

## نشاط تدريبي

almanabi.com/bh

بسم الله الرحمن الرحيم

المادة / رياضيات

الموضوع / الوقت ينصف ساعة

الاسم /

الصف / الثاني الابتدائي


التاريخ /

الحصة /

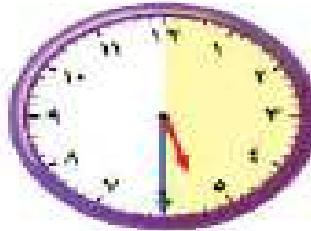

أكتب الوقت الذي تشير إليه الساعة :

-1

موقع  
المنهج البحرينية  
almanabi



-2



## نشاط تدريبي

إعداد : أ. هيام فريد

almanahj.com/bh

بسم الله الرحمن الرحيم

المادة / رياضيات

الموضوع / تقدير الزمن

الصف / الثاني الابتدائي

التاريخ /

الاسم /

1- تقدير الزمن اللازم لكل مما حدث مما يأتي . ثم أحيط إجابتك .

1- تحضير حقيبة المدرسة .

موقع  
المنهج البحرينية  
almanahj.com/bh



ثَانِيَّةً وَاحِدَةً دَقِيقَةً وَاحِدَةً سَاعَةً وَاحِدَةً

2- اللعب في الحديقة



ثَانِيَّةً وَاحِدَةً دَقِيقَةً وَاحِدَةً سَاعَةً وَاحِدَةً



الاسم: .....  
الصف: .....  
التاريخ: .....

إعداد: أ. هيام فريد

## نشاط تدريبي

almanahj.com/bh.

بسم الله الرحمن الرحيم

المادة / رياضيات

الصف / الثاني الابتدائي

الموضوع / الوقت بالساعات الكاملة ونصف الساعة

الاسم / .....  
التاريخ / .....  
الصف / .....

1- أقرأ الساعة ثم أكتب الوقت :

-1



-2



إعداد: أ. هيام فريد

## نشاط تدريبي

alManahy.com/bh

بسم الله الرحمن الرحيم

المادة / رياضيات

الصف / الثاني الابتدائي

الموضوع / النشاط والزمن

الاسم /

أحيط النشاط الذي يستغرق زمنا أطول.

1-



إلى



إلى



2-



إلى



إلى





الاسم: .....  
الصف: .....  
التاريخ: .....

إعداد: أ. هيام فريد

## نشاط تدريبي

5/1/2020

بسم الله الرحمن الرحيم


المادة / رياضيات

الموضوع / الوقت بربع ساعة


الاسم / .....

1- أقرأ الساعة ثم ارسم عقرب الدقائق على الوقت المعطى .

1-



2-





إعداد: أ. هيام فريد

## نشاط تدريبي

بسم الله الرحمن الرحيم

المادة / رياضيات

الصف / الثاني الابتدائي

التاريخ /

الخصم /

الموضوع / الوقت لا يقرب 5 دقائق

الاسم /

1- أقرء الساعة ثم أكتب الوقت الذي تشير إليه ..

1-



.....



.....

2-



.....



.....