

تم تحميل هذا الملف من موقع المناهج البحرينية



\* للحصول على أوراق عمل لجميع الصفوف وجميع المواد اضغط هنا

<https://almanahj.com/bh>

\* للحصول على أوراق عمل لجميع مواد الصف الثاني اضغط هنا

<https://almanahj.com/bh/2>

\* للحصول على جميع أوراق الصف الثاني في مادة رياضيات ولجميع الفصول, اضغط هنا

<https://almanahj.com/bh/2math>

\* للحصول على أوراق عمل لجميع مواد الصف الثاني في مادة رياضيات الخاصة بـ الفصل الثاني اضغط هنا

<https://almanahj.com/bh/2math2>

\* لتحميل كتب جميع المواد في جميع الفصول للـ الصف الثاني اضغط هنا

<https://almanahj.com/bh/grade2>

[almanahjbhbot/me.t//:https](https://t.me/almanahjbhbot)

للتحدث إلى بوت على تلغرام: اضغط هنا

اَكْتُبُ الْكَسْرَ الدَّالَّ عَلَى الْجُزْءِ الْمُظَلَّلِ، ثُمَّ اقْرَأْهُ:



$$\frac{1}{8}$$



$$\frac{1}{2}$$




$$\frac{1}{4}$$



الْوَنُ الْجُزْءِ الَّذِي يُمَثِّلُ الْكَسْرَ الْمَكْتُوبَ:



$$\frac{1}{8}$$



$$\frac{1}{3}$$



$$\frac{1}{2}$$

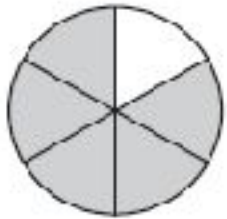


## أَحْلُ الْمَسَائِلِ الْآتِيَةِ:

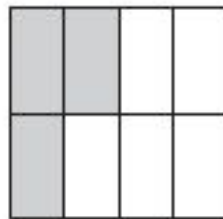
٣ قَطَّعْتُ جَمِيلَةَ الْكَعْكَاءِ إِلَى سِتِّ قِطْعٍ مُتَسَاوِيَةٍ، ثُمَّ أَعْطَيْتُ قِطْعَةً وَاحِدَةً لِأَخِيهَا أَحْمَدَ.  
وَبِذَلِكَ يَكُونُ أَحْمَدُ قَدْ حَصَلَ عَلَى .....  $\frac{1}{6}$  ..... الْكَعْكَاءِ.

٤ خِزَانَةٌ لَيْلَى لَهَا ثَمَانِيَةٌ رُفُوفٍ. فَإِذَا لَوَّنَتْ أَحَدَ الرُّفُوفِ بِاللُّونِ الْأَزْرَقِ  
يُصْبِحُ ...  $\frac{1}{8}$  ..... الْخِزَانَةُ أَزْرَقًا.

اَكْتُبِ الْكَسْرَ الدَّالَّ عَلَى الْأَجْزَاءِ الْمُظَلَّلَةِ، ثُمَّ أَقْرَأْهُ:



$\frac{5}{6}$



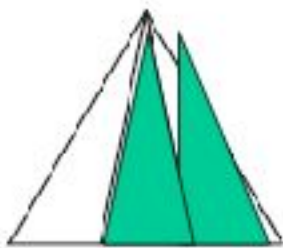
$\frac{3}{8}$



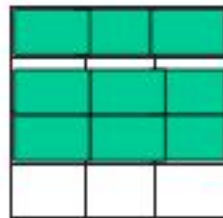
$\frac{1}{2}$

١

الْوَنُ الْأَجْزَاءِ الَّتِي تُمَثِّلُ الْكَسْرَ الْمَكْتُوبَ:



$\frac{2}{3}$



$\frac{9}{12}$




$\frac{2}{8}$

٢

## أَحُلُّ الْمَسْأَلَةَ الْآتِيَةَ:

٣ تَغْطِي سِتَائِرُ هُدَى تِسْعَةً مِنْ اثْنَيْ عَشَرَ جُزْءًا مِنْ نَافِذَتِهَا. أَرَسُّمُ مَرَبَعًا وَالْوَنُّ تِسْعَةٌ مِنْ  
اثْنَيْ عَشَرَ جُزْءًا مِنْهُ؛ لِأُمْتَلِ نَافِذَةَ هُدَى، ثُمَّ أَكْتُبُ الْكَسْرَ الصَّحِيحَ.



$$\dots \frac{9}{12} \dots$$

## أَحُلُّ الْمَسْأَلَةِ: أَرَسُمُ صُورَةَ

٣-٩

### أَرَسُمُ صُورَةَ لِأَحُلِّ الْمَسْأَلَةَ، أُبَيِّنُ حَلِّي:

١ تتكوّنُ حَديقَةُ سَالِمٍ مِنْ سَبْعَةِ أَجْزَاءٍ مُتطابِقَةٍ. زَرَعَ فِيهَا أَزْهَارَ الْخُزَامِيِّ وَالسُّوسَنِ. فَإِذَا كَانَتِ الْخُزَامِيُّ فِي أَرْبَعَةِ أَجْزَاءٍ مِنَ الْحَدِيقَةِ، فَكَمْ جُزْءًا مِنْهَا زُرِعَ فِيهِ أَزْهَارُ السُّوسَنِ؟

.....3/7..... مِنْ الْحَدِيقَةِ تَحْتَوِي عَلَى أَزْهَارِ السُّوسَنِ.

٢ صَنَعَ نَاصِرٌ طَائِرَةً وَرَقِيَّةً، لَهَا أَرْبَعَةٌ أَجْزَاءٍ مُتَطَابِقَةٍ، لَوْنٌ اِثْنَانِ مِنْهَا بِاللُّوْنِ الْأَصْفَرِ . مَا  
الْكَسْرُ الدَّالُّ عَلَى الْجُزْءِ الْمُلَوَّنِ بِالْأَصْفَرِ مِنَ الطَّائِرَةِ؟

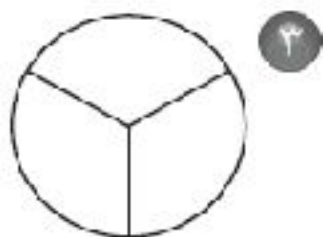
$\frac{1}{2}$  أو  $\frac{2}{4}$  . طَائِرَةٌ نَاصِرٍ الْوَرَقِيَّةِ لَوْنُهُ أَصْفَرٌ .

٣  
تُرِيدُ لِينَا أَنْ تَقْطَعَ الْكُعْكَةَ إِلَى أَجْزَاءٍ مُتَّطَابِقَةٍ لِتُشَارِكَ بِهَا خَمْسَةٌ مِنْ بَنَاتِ عَمِّهَا. فَإِذَا  
أَرَادَتْ لِينَا أَنْ تَأْخُذَ قِطْعَةً مِنَ الْكُعْكَةِ، فَإِلَى كَمِّ قِطْعَةٍ يَجِبُ أَنْ تَقْطَعَ الْكُعْكَةَ؟


يَجِبُ أَنْ تَقْطَعَ لِينَا الْكُعْكَةَ إِلَى 6 قِطْعٍ.



أَعِدُّ جَمِيعَ الْأَجْزَاءِ فِي الشَّكْلِ الْكَامِلِ وَالْوُنُهَا، ثُمَّ اكَتُبِ الْكَسْرَ الدَّالَّ عَلَيْهَا:



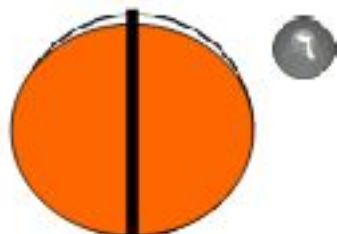
..... 1 = 3/3




..... 1 = 2/2



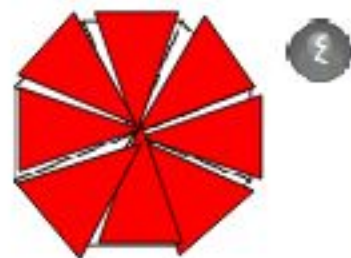
..... 1 = 4/4



..... 1 = 2/2



..... 1 = 3/3



..... 1 = 8/8

## أَحُلُّ الْمَسْأَلَةَ الْآتِيَةَ:

قَطَّعَتْ فَاطِمَةُ الْفَطِيرَةَ إِلَى أَرْبَعَةِ أَجْزَاءٍ مُتَطَابِقَةٍ. أَلْوَنُ أَجْزَاءِ الْفَطِيرَةِ كُلِّهَا، ثُمَّ أَكْتَبَ إِلَى جَانِبِهَا الْكَسْرَ الدَّالَّ عَلَيْهَا.

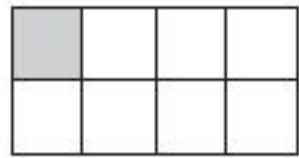
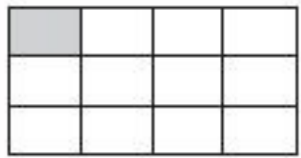
.....4/4.....



# مُقَارَنَةُ الْكُسُورِ

٥-٩

أَكْتُبُ < أَوْ > فِي ○ :

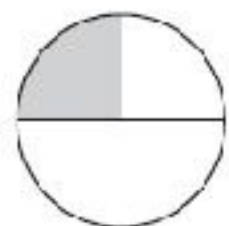
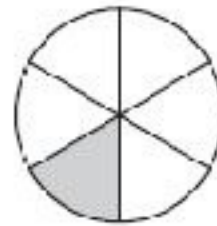


٢

$\frac{1}{12}$

⊗

$\frac{1}{8}$





١

$\frac{1}{6}$

⊗

$\frac{1}{2}$





٤

$\frac{1}{8}$

⊗

$\frac{1}{6}$



٣

$\frac{1}{3}$

⊗

$\frac{1}{4}$

أُقَارِنُ بَيْنَ الْكُسُورِ، وَأَسْتَعْمِلُ إِشَارَةَ < أَوْ > :

$\frac{1}{8} < \frac{1}{6}$  ٧

$\frac{1}{8} < \frac{1}{4}$  ٦

$\frac{1}{2} > \frac{1}{4}$  ٥

$\frac{1}{4} > \frac{1}{6}$  ١٠

$\frac{1}{3} > \frac{1}{6}$  ٩

$\frac{1}{8} > \frac{1}{12}$  ٨

أَحُلُّ الْمَسْأَلَتَيْنِ الْآتِيَتَيْنِ:

١١ يَلْبَسُ وَايْلٌ وَعَامِرٌ قُبْعَتَيْنِ لَهُمَا الْقِيَاسُ نَفْسُهُ. فَإِذَا كَانَ  $\frac{1}{4}$  قُبْعَةَ وَايْلٍ حَمْرَاءُ وَ  $\frac{1}{6}$  قُبْعَةَ عَامِرٍ حَمْرَاءُ أَيضًا، فَأَيُّهُمَا تَحْتَوِي قُبْعَتُهُ عَلَى اللَّوْنِ الْأَحْمَرَ أَكْثَرَ؟

أَوْضَحُ الْإِجَابَةَ. وَايْلٌ  $\frac{1}{4} < \frac{1}{6}$

١٢ لَدَى كُلِّ مِنْ جَمِيلٍ وَخَالِدٍ ١٢ حِذَاءً.  $\frac{1}{3}$  أَحْذِيَّةٍ جَمِيلٍ سَوْدَاءً،  $\frac{2}{3}$  أَحْذِيَّةٍ خَالِدٍ سَوْدَاءً. فَأَيُّهُمَا لَدَيْهِ أَحْذِيَّةٌ سَوْدَاءً أَكْثَرَ؟ أَوْضَحُ الْإِجَابَةَ. خَالِدٌ

الْكُسُورُ كَأَجْزَاءٍ مِنْ مَجْمُوعَةٍ

٦-٩

اَكْتُبِ الْكُسْرَ الدَّالَّ عَلَى الْأَجْزَاءِ الْمُظَلَّلَةِ فِيمَا يَأْتِي:



١

7/12




٢

1/2 أو 3/6



٣


5/8



أَكْتُبُ الْكَسْرَ، مُسْتَعِينًا بِالصُّورَةِ فِي حَلِّ الْمَسْأَلَةِ:

٤ يُرَبِّي بِلَالٌ ٦ حَيَوَانَاتٍ فِي مَزْرَعَتِهِ. مَا الْكَسْرُ الدَّالُّ

عَلَى عَدَدِ الْخِرَافِ؟  $1/2$   $3/6$



٥ قَدَّمْتُ لِبْنِي الطَّعَامَ لِهَذِهِ الْحَيَوَانَاتِ الْأَرْبَعَةِ فِي حَدِيقَتِهَا.

مَا الْكَسْرُ الدَّالُّ عَلَى عَدَدِ الْأَرَانِبِ؟  $1/2$

أَحُلُّ:

$18 = ٤ + ٨ + ٦$  ٧

$18 = ٣ + ٨ + ٧$  ٩

$25 = ٧ + ٩ + ٩$  ٦

$18 = ٥ + ٨ + ٥$  ٨

## اسْتِقْصَاءُ حَلِّ الْمَسْأَلَةِ

خطط حل المسألة

- أبحث عن نمط
- أرسم صورة
- أمثلها

أَخْتَارُ خُطَّةً، ثُمَّ أَحُلُّ الْمَسْأَلَةَ:

١ اشترى عبدالله كعكةً، وقطعها نصفين، ثم قطع كل نصف إلى نصفين. فكم قطعة من الكعكة أصبح لديه؟

4 ..... قطع

٢ في السلة ١٦ تفاحة. فإذا أخذ كل طفل ٤ تفاحات، فما عدد الأطفال؟

4 ..... أطفال

٣ لَدَى كَوْثَرِ ٦ دُمَى . اِثْنَانِ مِنْهَا بُرْتُقَالِيَّةُ اللَّوْنِ ، وَالْبَاقِي وَرْدِيٌّ .  
أَكْتُبُ الْكَسْرَ الدَّالَّ عَلَى عَدَدِ الدُّمَى الْوَرْدِيَّةِ بِالنِّسْبَةِ إِلَى الْعَدَدِ الْكُلِّيِّ . اسْتَعْمِلْ طَرِيقَةَ  
حَلِّ لَمْ اسْتَعْمِلْهَا هُنَا مِنْ قَبْلُ إِذَا أَمْكَنَ ذَلِكَ .

4/6

٤ فِي مَزْرَعَةِ سَالِمٍ ٤ أَرَانِبٍ كَبِيرَةٍ ، وَلِكُلِّ أَرْنَبٍ مِنْهَا ٣ صِغَارٍ . فَمَا عَدَدُ الْأَرَانِبِ  
كُلِّهَا؟

16 ..... أَرْنَبًا .

٥ صَنَعَتْ أُمُّ سُعَادَ ١٢ فَطِيرَةً . أَعْطَتْ ٤ مِنْهَا لِابْنَتِهَا سُعَادَ ، وَأَعْطَتْ الْبَاقِي لِصَدِيقَاتِهَا .  
أَكْتُبُ الْكَسْرَ الدَّالَّ عَلَى عَدَدِ الْفَطَائِرِ الَّتِي أَخَذَتْهَا صَدِيقَاتُ سُعَادَ .

8/12