

تم تحميل هذا الملف من موقع المناهج البحرينية



الملف نشاط عقارب الساعة

[موقع المناهج](#) ⇐ ⇐ [الصف الثاني](#) ⇐ [رياضيات](#) ⇐ [الفصل الأول](#)

روابط مواقع التواصل الاجتماعي بحسب الصف الثاني



روابط مواد الصف الثاني على تلغرام

[الرياضيات](#)

[اللغة الانجليزية](#)

[اللغة العربية](#)

[التربية الاسلامية](#)

المزيد من الملفات بحسب الصف الثاني والمادة رياضيات في الفصل الأول

<a href="#">حل كتاب الطالب</a>	1
<a href="#">حل كتاب التمارين</a>	2
<a href="#">حل كتاب التمارين</a>	3
<a href="#">كتاب الطالب الجزء الأول</a>	4
<a href="#">كتاب التمارين الجزء الأول</a>	5

الاسم: .....  
الصف: الثاني/.....  
التاريخ: ٧ / ٢ / ٢٠٢٢

## نشاط

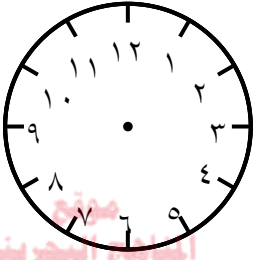
إثرائي  تدريبي  تقويمي  علاجي

مملكة البحرين  
وزارة التربية والتعليم  
مدرسة اليرموك الابتدائية للبنين

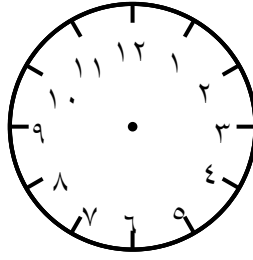
الكفاية : يقرأ الساعة وأجزاءها

المادة : الرياضيات

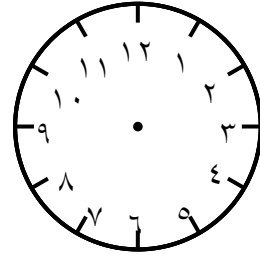
• اكتب الزمن الذي تشير إليه عقارب الساعة أو أرسم العقارب حسب الوقت المكتوب فيما يلي:



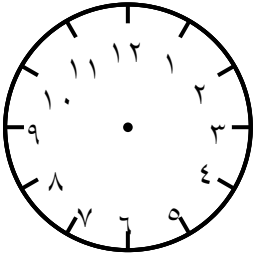
١



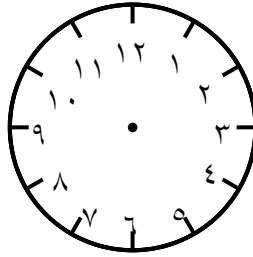
٣



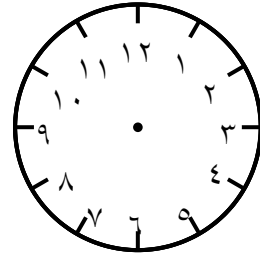
١٢



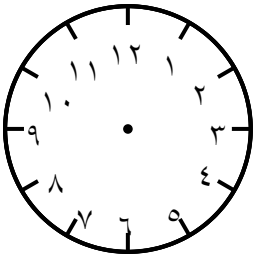
٦



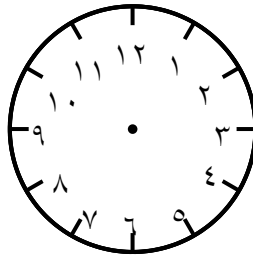
٩



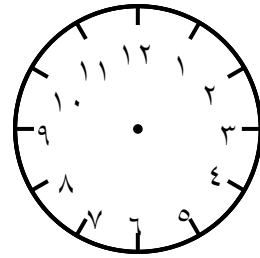
٨



٢



١١



٥

إعداد: أ. نظير عيسى