

تم تحميل هذا الملف من موقع المناهج البحرينية



الملف نشاط في وحدة الكسور

موقع المناهج ← ← الصف الثاني ← رياضيات ← الفصل الثاني ← الملف

روابط مواقع التواصل الاجتماعي بحسب الصف الثاني



روابط مواد الصف الثاني على تلغرام

[الرياضيات](#)

[اللغة الانجليزية](#)

[اللغة العربية](#)

[التربية الاسلامية](#)

المزيد من الملفات بحسب الصف الثاني والمادة رياضيات في الفصل الثاني

نشاط تقييمي في وحدة الكسور	1
نشاط الكسور في الرياضيات 3	2
نشاط الكسور في الرياضيات	3
نشاط الكسور في الرياضيات	4
تدريبات على درس مقارنة الكسور	5

4- ضعي الرمز (أو أو) :-

$$\frac{1}{15} \bigcirc \frac{1}{2}$$

$$\frac{1}{4} \bigcirc \frac{3}{4}$$

$$\frac{1}{3} \bigcirc \frac{1}{2}$$

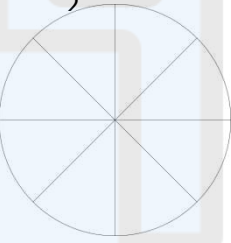
$$\frac{1}{10} \bigcirc \frac{1}{7}$$

$$\frac{1}{2} \bigcirc \frac{1}{4}$$

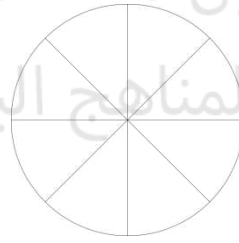
$$\frac{1}{5} \bigcirc \frac{1}{7}$$

5- ألون الجزء الذي يمثل الكسر المكتوب ، وأحدد إن
(0)

$$\frac{7}{\circ}$$

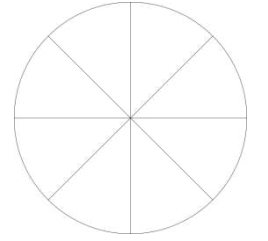


$$\frac{5}{\circ}$$



كان الكسر أقرب إلى

$$\frac{1}{\circ}$$



$$\frac{1}{2} \quad \frac{1}{2} \quad 0$$

$$\frac{1}{2} \quad \frac{1}{2} \quad 0$$

$$\frac{1}{2} \quad \frac{1}{2} \quad 0$$

6- اشترى 7 أخوة قطعة حلوى ، يريدون تقسيمها فيما بينهم بالتساوي ، اكتبى رمز الكسر الذي يمثل نصيب كل منهم؟

.....

7- وقفت 7 طيور على شجرة ، 3 منها صغيرة و الباقي كبيرة ، فما الكسر الدال على عدد الطيور الكبيرة؟

.....