

تم تحميل هذا الملف من موقع المناهج البحرينية

الملف اختبار الرياضيات اختبار القيمة المنزلية

[موقع المناهج](#) ⇐ ⇐ [الصف الثاني](#) ⇐ [رياضيات](#) ⇐ [الفصل الأول](#)

روابط مواقع التواصل الاجتماعي بحسب الصف الثاني

--	--	--	--

روابط مواد الصف الثاني على تلغرام


الرياضيات	اللغة الانجليزية	اللغة العربية	التربية الاسلامية
---------------------------	----------------------------------	-------------------------------	-----------------------------------

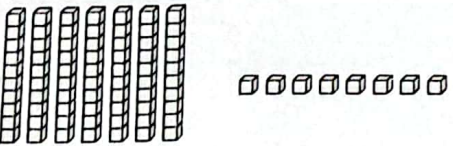
المزيد من الملفات بحسب الصف الثاني والمادة رياضيات في الفصل الأول


حل كتاب الطالب	1
حل كتاب التمارين	2
حل كتاب التمارين	3
كتاب الطالب الجزء الأول	4
كتاب التمارين الجزء الأول	5

الاسم: ----- الصف الثاني فرقة: -----

اكتب عدد الآحاد وعدد العشرات:

	$30 = \text{-----} \text{ آحاد و } \text{-----} \text{ عشرات}$
---	--

	$78 = \text{-----} \text{ آحاد و } \text{-----} \text{ عشرات}$
---	--

	$45 = \text{-----} \text{ آحاد و } \text{-----} \text{ عشرات}$
---	--

أحوظ القيمة المنزلية للرقم الذي تحته خط:

$\underline{97}$	$\underline{42}$	$\underline{70}$
٧ أو ٧٠	٤ أو ٤٠	٥ أو ٥٠
$\underline{34}$	$\underline{17}$	$\underline{98}$
٣ أو ٣٠	١ أو ١٠	٨ أو ٨٠