

تم تحميل هذا الملف من موقع المناهج العُمانية



*للحصول على أوراق عمل لجميع الصفوف وجميع المواد اضغط هنا

<https://almanahj.com/bh>

* للحصول على أوراق عمل لجميع مواد الصف الثاني اضغط هنا

<https://almanahj.com/bh/2>

* للحصول على جميع أوراق الصف الثاني في مادة علوم ولجميع الفصول, اضغط هنا

<https://almanahj.com/bh/2science>

* للحصول على أوراق عمل لجميع مواد الصف الثاني في مادة علوم الخاصة بـ الفصل الثاني اضغط هنا

<https://almanahj.com/bh/2science2>

* لتحميل كتب جميع المواد في جميع الفصول للـ الصف الثاني اضغط هنا

<https://almanahj.com/bh/grade2>

للتحدث إلى بوت على تلغرام: اضغط هنا

https://t.me/omcourse_bot

1. تساقط الماء على شكل مطر ، ثلج ، برد يسمى هطول

2. مقياس مدى سخونة الشيء وبرودته يسمى درجات الحرارة

3. تحول الماء إلى بخار ماء يسمى لتبخير



4. الانحراف يستخدم لقياس شدة الرياح


5. تحول بخار الماء إلى ماء يسمى لتكثيف

2
C

السؤال الثاني:

رتبي خطوات دورة الماء (1-4) على الصورة التالية:

يبرد الهواء ويتكاثف البخار مكونا السحب



تسخن أشعة الشمس الماء فيتبخر ويرتفع في الهواء

يهطل

المطر

أو البرد

و الثلج

يعود ماء المطر والثلج والبرد إلى البحار والمحيطات

صل الصورة المناسبة بما يناسبها فيما يلي:

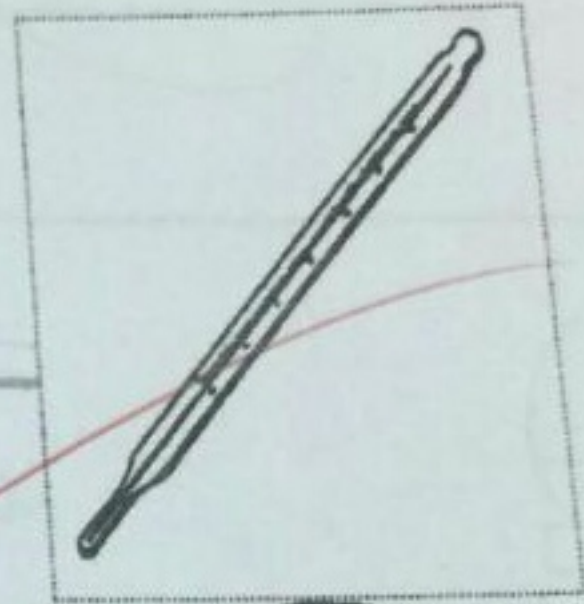
الجو بارد ممطر



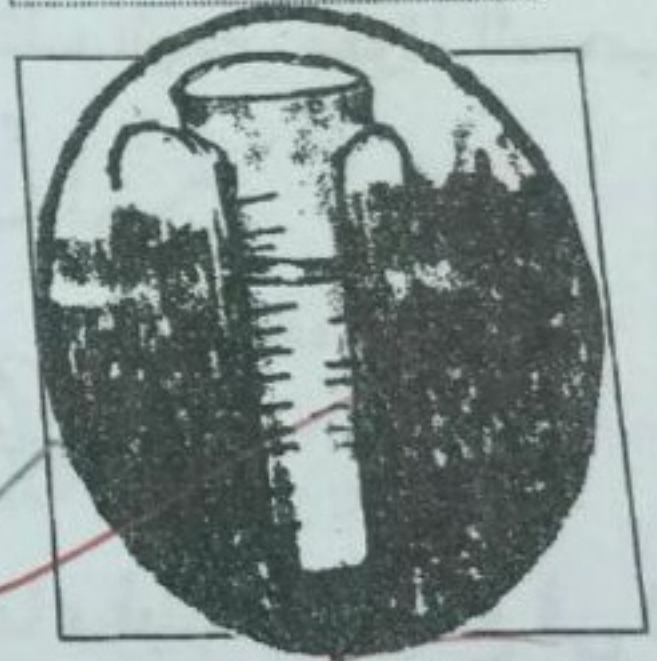
الجو حار مشمس



مقياس الحرارة



أين يجب أن أذهب في أثناء العاصفة



مقياس المطر

