

تم تحميل هذا الملف من موقع المناهج البحرينية



الملف نشاط وحدة الكسور

[موقع المناهج](#) ⇐ ⇐ [الصف الثاني](#) ⇐ [رياضيات](#) ⇐ [الفصل الأول](#)

روابط مواقع التواصل الاجتماعي بحسب الصف الثاني



روابط مواد الصف الثاني على تلغرام

[الرياضيات](#)

[اللغة الانجليزية](#)

[اللغة العربية](#)

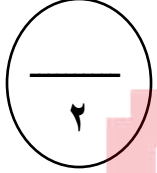
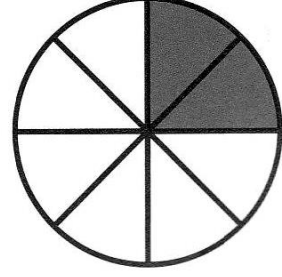
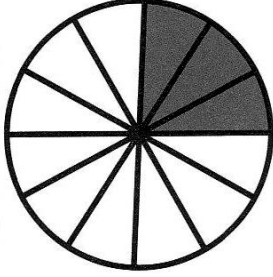
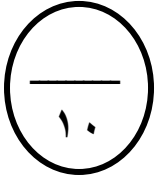
[التربية الاسلامية](#)

المزيد من الملفات بحسب الصف الثاني والمادة رياضيات في الفصل الأول

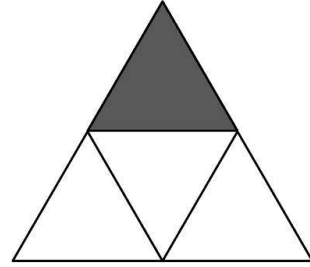

حل كتاب الطالب	1
حل كتاب التمارين	2
حل كتاب التمارين	3
كتاب الطالب الجزء الأول	4
كتاب التمارين الجزء الأول	5

الاسم : الصف : الثاني / التاريخ : / / م

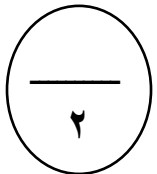
س ١- اكتب الكسر الدال على الأجزاء المظلمة:




موقع
المنهج البحرينية
almanahi.com/bh




س ٢- لَوِّن الأجزاء التي تمثل الكسر المكتوب:




$$\frac{3}{5}$$



$$\frac{5}{9}$$



$$\frac{1}{4}$$



$$\frac{6}{8}$$