

تم تحميل هذا الملف من موقع المناهج البحرينية



## نشاط الضرب

موقع المناهج ← المناهج البحرينية ← الصف الثالث ← رياضيات ← الفصل الأول ← ملفات متنوعة ← الملف

تاريخ إضافة الملف على موقع المناهج: 01:20:30 2024-12-07

ملفات اكتب للمعلم اكتب للطالب الاختبارات الكترونية | اختبارات | حلول | عروض بوربوينت | أوراق عمل  
منهج انجليزي | ملخصات و تقارير | مذكرات و بنوك | الامتحان النهائي للمدرس

المزيد من مادة  
رياضيات:

## التواصل الاجتماعي بحسب الصف الثالث



صفحة المناهج  
البحرينية على  
فيسبوك

الرياضيات

اللغة الانجليزية

اللغة العربية

التربية الاسلامية

المواد على تلغرام

## المزيد من الملفات بحسب الصف الثالث والمادة رياضيات في الفصل الأول

نشاط الضرب

1

نشاط الضرب

2

نشاط الضرب

3

نشاط الضرب

4

مذكرة التفوق في جدول الضرب

5

## نشاط

تشخيصي تدريبي تقويمي إثرائي علاجي



الاسم: .....

الصف: ٣ /

التاريخ: / / ٢٠٢٤ م

الكفاية

يضرب عدداً في آخر في حدود ٩ × ٩

مستوى الأداء

ممتاز


جيد جداً

جيد


متابعة

اكتب جملة الضرب المناسبة لكل شبكة:


★



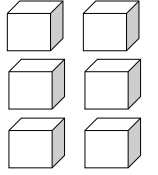
-----



-----



-----



----- = ٢ × ٣

★★

أجد ناتج الضرب:

----- = ٦ × ٣

----- = ٣ × ٣

----- = ٠ × ٣

----- = ٧ × ٣

----- = ٤ × ٣

----- = ١ × ٣

----- = ٨ × ٣

----- = ٥ × ٣

----- = ٢ × ٣

★★★

----- = ١٢ × ٣

٢٧ = ----- × ٣

٣٠ = ----- × ٣

أحل المسألة: عند البائع ٨ أحواض سمك، في كل حوض ثلاث سمكات، فإذا باع منها ٩ سمكات. كم سمكة بقيت لديه؟

-----

مهارات التفكير العليا: يملك قاسم ٤٢ ديناراً، فإذا أراد أن يشتري ثلاثة أقفاص، في كل قفص ٨ طيور، ثمن الطير ٣ دينار، وثمان أقفاص ٧ دينار. هل يكفي ما لديه لشراء ذلك؟ أوضح إجابتي:

-----

-----