

تم تحميل هذا الملف من موقع المناهج البحرينية



## نشاط الضرب

موقع المناهج ← المناهج البحرينية ← الصف الثالث ← رياضيات ← الفصل الأول ← ملفات متنوعة ← الملف

تاريخ إضافة الملف على موقع المناهج: 01:19:18 2024-12-07

ملفات اكتب للمعلم اكتب للطالب الاختبارات الكترونية | اختبارات | حلول | عروض بوربوينت | أوراق عمل  
منهج انجليزي | ملخصات وتقارير | مذكرات وبنوك | الامتحان النهائي للمدرس

المزيد من مادة  
رياضيات:

## التواصل الاجتماعي بحسب الصف الثالث



صفحة المناهج  
البحرينية على  
فيسبوك

الرياضيات

اللغة الانجليزية

اللغة العربية

التربية الاسلامية

المواد على تلغرام

## المزيد من الملفات بحسب الصف الثالث والمادة رياضيات في الفصل الأول

نشاط الضرب	1
نشاط الضرب	2
نشاط الضرب	3
مذكرة التفوق في جدول الضرب	4
مذكرة جدول الضرب	5

## نشاط

تشخيصي تدريبي تقويمي إثرائي علاجي



الاسم : .....

الصف : ٣ /

التاريخ : / / ٢٠١٨ م



متابعة



جيد



جيد جدا




ممتاز


مستوى الأداء

الكفاية | يضرب عدداً في آخر في حدود ٩ × ٩


اكتب جملة الضرب المناسبة لكل شبكة:



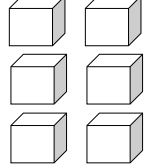
-----



-----



-----



$$= 2 \times 3$$

-----



أجد ناتج الضرب:

$$----- = 6 \times 6 \quad ----- = 3 \times 6 \quad ----- = 0 \times 6$$

$$----- = 7 \times 6 \quad ----- = 4 \times 6 \quad ----- = 1 \times 6$$

$$----- = 8 \times 6 \quad ----- = 5 \times 6 \quad ----- = 2 \times 6$$



$$----- = 12 \times 6 \quad 60 = ----- \times 6$$

أحل المسألة: عند البائع ٧ أحواض سمك، في كل حوض ست سمكات، فإذا باع منها ٨ سمكات. كم سمكة بقيت لديه؟

-----

مهارات التفكير العليا: يملك قاسم ٥٨ ديناراً، فإذا أراد أن يشتري ثلاثة أقفاص، في كل قفص ٤ طيور، ثمن الطير ٤ دينار، وثمان أقفاص ٥ دينار. هل يكفي ما لديه لشراء ذلك؟ أوضح إجابتي:

-----

-----