

تم تحميل هذا الملف من موقع المناهج البحرينية



## الملف مراجعة الفصل الحادي عشر

[موقع المناهج](#) ← [الصف الثالث](#) ← [رياضيات](#) ← [الفصل الثاني](#) ← [الملف](#)

## روابط مواقع التواصل الاجتماعي بحسب الصف الثالث



## روابط مواد الصف الثالث على تلغرام

[الرياضيات](#)

[اللغة الانجليزية](#)

[اللغة العربية](#)

[التربية الاسلامية](#)

## المزيد من الملفات بحسب الصف الثالث والمادة رياضيات في الفصل الثاني

<a href="#">جدول القسمة</a>	1
<a href="#">نشاط تدريبي في المحيط</a>	2
<a href="#">أنشطة مرافقة لدرس المحسمات</a>	3
<a href="#">نشاط تدريبي المساحة</a>	4
<a href="#">نشاط تدريبي وحدة القياس</a>	5


الاسم: .....




الصف: الثالث / .....

التاريخ: .....

## مراجعة في الفصل الحادي عشر ( عرض البيانات وتفسيرها )




- مثل البيانات في الجدول المجاور بالرموز

العدد	الإشارات	حيوانات المزرعة
		الخروف 
		الدجاج 
		الحصان 

حيوانات المزرعة										
										الخروف 
										الدجاج 
										الحصان 
المفتاح : كل صورة = استجابتين ( ٢ )										

لاحظ : لقراءة البيانات وتفسيرها في البيانات الممثلة بالرموز لابد من قراءة المفتاح أولاً .

مثال

الفصل المفضل	
الصيف	
الربيع	 $8 = 2 + 2 + 2 + 2$
الشتاء	
المفتاح	كل صورة = استجابتين

١- ما عدد الذين يفضلون فصل الصيف ؟ -----  
**الحل :** بما أن المفتاح يوضح أن كل صورة تمثل استجابتين فإن عدد الذين يفضلون فصل الصيف

$$= 6 ، لأن : 6 = 2 + 2 + 2 \text{ تلاميذ}$$


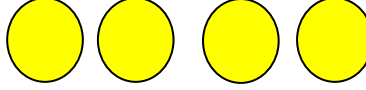
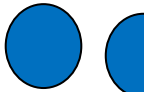
٢- ما الفصل الأكثر تفضيلاً ؟ -----  
**الحل :** الفصل الأكثر تفضيلاً هو فصل الربيع لأنه ٨ تلاميذ .

٣- ما الفرق بين الذين يفضلون فصل الربيع وفصل الشتاء؟ ملاحظة: ( ما القرق) يعني ناقص.

**الحل :** بما أن الذين يفضلون فصل الربيع ٨ ، والذين يفضلون فصل الشتاء ٤ فإن :  $8 - 4 = 4$  تلاميذ

\*\*\*\*\*

\* لاحظ مفتاح التمثيل جيداً ، ثم اقرأ البيانات الممثلة ، واستعملها للإجابة على الأسئلة :-

اللون المفضل	
اللون الأخضر	
اللون الأصفر	
اللون الأزرق	
المفتاح	كل لون = استجابتين

١- ما عدد الذين يفضلون اللون الأخضر ؟ -----

٢- ما اللون الذي يفضله ٨ تلاميذ ؟ -----

٣- ما مجموع الذي يفضلون اللونين الأصفر والأزرق ؟ -----

٤- ما عدد الذين يفضلون اللون الأزرق ؟ -----

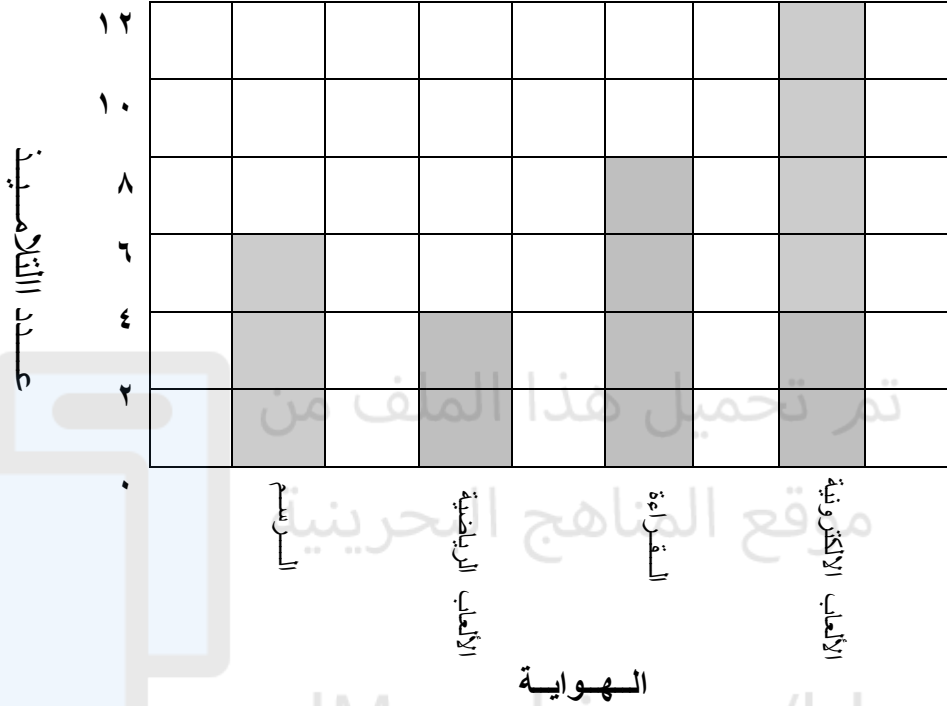
٥- ما الفرق بين الذين يفضلون اللون الأخضر واللون الأزرق ؟ -----

٦- ما عدد الطلبة في هذه الدراسة؟ -----

٢- التمثيل بالأعمدة: هو تمثيل يستعمل أعمدة بأطوال مختلفة لإظهار البيانات:

سؤال: استعمل التمثيل أدناه في الإجابة على الأسئلة التالية :

### الهواية المفضلة



١- ما الهواية الأكثر تفضيلاً ؟ .....

٢- ما الهواية الأقل تفضيلاً ؟ .....

٣- ما مجموع التلاميذ الذين يفضلون الألعاب الرياضية والألعاب الالكترونية ؟ .....

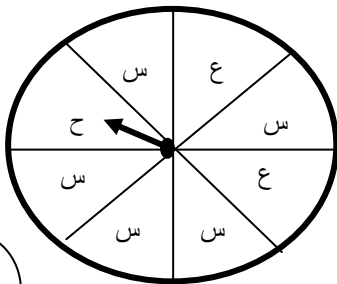
٤- كم يزيد عدد الذين يفضلون القراءة عن الذين يفضلون الرسم ؟ .....

٥- ما عدد التلاميذ المشاركين في هذه الدراسة ؟ .....

\*\*\*\*\*

### لوصف الاحتمال انتبه للمثال التالي :

صف احتمال وقوف المؤشر عند الحروف في القرص التالي مستخدماً ( أقل احتمالاً - أكثر احتمالاً - أكيد - مستحيل )



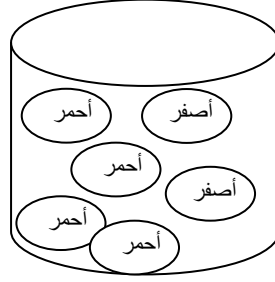
حرف ( س ) : أكثر احتمالاً ( لأنه الأكثر تكراراً )

حرف ( ح ) : أقل احتمالاً ( لأنه الأقل تكراراً )

الحروف ( ح أو ع أو س ) أكيد ( لأنها حروف موجودة في القرص )

حرف ( هـ ) : مستحيل ( لأنه غير موجود في القرص )

صف احتمال سحب الكرات التالية مستخدماً ( أقل احتمالاً - أكثر احتمالاً - أكيد - مستحيل )



١- الكرات الحمراء : .....

تم تحميل هذا الملف من

٢- الكرات الصفراء : ..... موقع المناهج البحرينية

٣- الكرات الزرقاء : .....

alManahj.com/bh

٤- الكرات الحمراء أو الصفراء : .....

