

تم تحميل هذا الملف من موقع المناهج البحرينية



الملف نموذج اختبار استعداداً للامتحان المركزي

[موقع المناهج](#) ← [الصف الثالث](#) ← [رياضيات](#) ← [الفصل الثاني](#) ← [الملف](#)

روابط مواقع التواصل الاجتماعي بحسب الصف الثالث



روابط مواد الصف الثالث على تلغرام

[الرياضيات](#)

[اللغة الانجليزية](#)

[اللغة العربية](#)

[التربية الاسلامية](#)

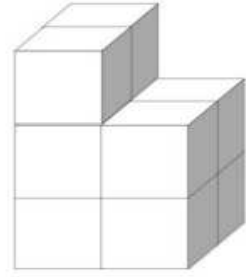
المزيد من الملفات بحسب الصف الثالث والمادة رياضيات في الفصل الثاني

الاختبار التحريبي لمادة الرياضيات الفصل الدراسي الثاني	1
كراسة الأنشطة الشاملة	2
نموذج لاختبار الحساب الذهني	3
نماذج أسئلة امتحان الرياضيات	4
أنشطة مراجعة لاختبار نهاية الفصل الثاني	5

١- احسب حجم كل جسم مما يأتي:-



..... وحدة مكعبة



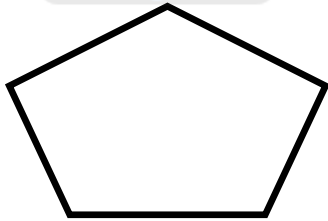
..... وحدة مكعبة

٢- اكتب العدد ٢٣١٦٥ في الصيغة التحليلية واللفظية.

الصورة التحليلية: تحميل هذا الملف من

الصورة اللفظية: موقع المناهج البحرينية

٣- أكمل ما يأتي: alManahj.com/bh



الشكل المجاور له أضلاع وله
زوايا، فالشكل هو

٤- أحوط العددين اللذان مجموعها يساوي ٣٠

١٥ ١٠ ١٥ ١١

٥- ارسم الشكلين التاليين في النمط التالي:



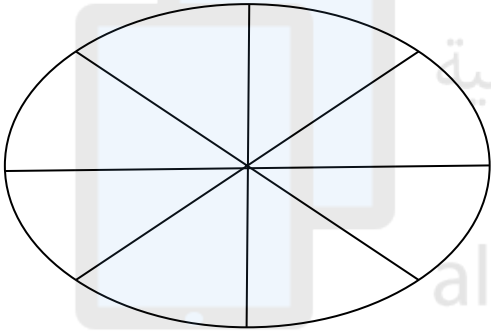
٦- يبين الجدول التالي الهواية المفضلة لطلاب الصف الثالث:

السباحة	الرسم	الكتابة	القراءة
١٦	٨	١٠	١٣

رتب الهوايات من الأقل تفضيلاً إلى الأكثر تفضيلاً

الأكثر

الأقل



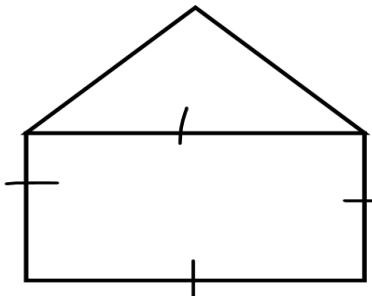
تم تحميل هذا الملف من
موقع المناهج البحرينية
alManahj.com/bh

٧- ظلل $\frac{3}{8}$ الشكل المجاور:

٨- أكمل العبارة الآتية:

الشكل المجاور مركب من شكلين اكتبهما:

..... و



٩- أوجد ناتج ما يأتي:

$$190 - 75 = \dots$$

١٠- اكتب العدد بالصورة القياسية:-

سبعة آلاف وخمسة مائة وثلاثة وأربعون

١١- اكتب وحدة القياس المناسبة لقياس كل مما يأتي في الجدول أدناه:

وحدة القياس المناسبة	ما يراد قياسه
الكيلومتر	المسافة من مملكة البحرين إلى الأردن
	طول الكتاب
	كمية الوقود الموجود في خزان السيارة
	وزن الحصان
	عرض غرفة الصف

١٢- أوجد ناتج كل مما يأتي:

$$\boxed{} = 9 \div 36$$

$$\boxed{} = 6 \times 8$$

$$\boxed{} = 8 \div 72$$

$$\boxed{} = 7 \times 7$$

$$\boxed{}$$

$$\boxed{}$$

$$\boxed{}$$

$$\boxed{}$$

- أوجد ناتج جمع:

$$= 234 + 174$$

صنعت مريم حصالة من الفخار أدخلتها الفرن الساعة ٤:٠٠ عصرًا، وأخرجتها بعد ساعة و ٤٥ دقيقة.

اكتب الوقت الذي أخرجت مريم الحصالة فيه.

_____ : _____

١٤- وضعت فرح في خزانها فستانا واحدا و ٣ قمصان بنية اللون

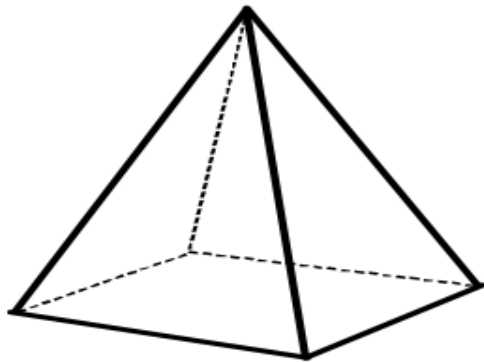
-إمكانية سحب فرح فستان هو :

١-أقل إمكانية ٢-مستحيل ٣- أكيد ٤- أكثر إمكانية

-إمكانية سحب حذاء هو :

١-مستحيل ٢- أقل إمكانية ٣- أكثر إمكانية ٤- أكيد

١٥- صِف الشكل أدناه من حيث عدد الأحرف والرؤوس والأوجه:



عدد الأحرف هو _____

عدد الرؤوس هو _____

عدد الأوجه هو _____

- ١٦

قامت مريم بسؤال صديقاتها عن نوعية الأفلام التي يفضلنّها، فسجلت البيانات في الجدول الآتي:

نوع الأفلام	العدد	إشارات العد
رسوم متحركة	١٥	
الخيال العلمي		
الكوميديا	٩	

أكمل الجدول السابق

المناهج البحرينية
alManahj.com/bh

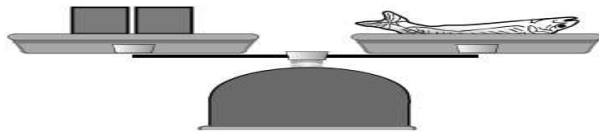
- ١٧

لدى نورة ٢٤ قطعة من الجبن، وأرادت أن تخبز عددًا من كعكات الجبن. إذا علمت أنها سوف تستعمل ٨ قطع من الجبن لكل كعكة. فكم كعكة يمكنها أن تخبز؟

١٨ - إذا كان كتلة



تساوي مكعبين،



فما عدد المكعبات المساوية لكتلة



؟

