

تم تحميل هذا الملف من موقع المناهج البحرينية



## ملزمة مراجعة الرياضيات

[موقع المناهج](#) ← [المناهج البحرينية](#) ← [الصف الثالث](#) ← [رياضيات](#) ← [الفصل الثاني](#) ← [الملف](#)

تاريخ إضافة الملف على موقع المناهج: 12:37:00 2024-05-14

## التواصل الاجتماعي بحسب الصف الثالث



اضغط هنا للحصول على جميع روابط "الصف الثالث"

## روابط مواد الصف الثالث على تلغرام

[الرياضيات](#)

[اللغة الانجليزية](#)

[اللغة العربية](#)

[التربية الاسلامية](#)

## المزيد من الملفات بحسب الصف الثالث والمادة رياضيات في الفصل الثاني

[كراسة أنشطة الرياضيات للصف الثالث الابتدائي](#)

1

[كراسة مادة الرياضيات 2](#)

2

[مذكرة الإبداع في الرياضيات](#)

3

[نشرة الامتحانات الوزارية](#)

4

[نشاط تدريبي الأشكال الهندسية](#)

5

## تفسير البيانات

امثل البيانات التالية بالأعمدة مع كتابة  
اهم البيانات عند الرسم:

|  |
|--|
|  |
|  |
|  |
|  |
|  |
|  |
|  |
|  |
|  |
|  |

امثل البيانات التالية بالاشارات:

| الحيوانات الأليفة الموجودة بالمزرعة |               |               |
|-------------------------------------|---------------|---------------|
| النوع                               | عدد الحيوانات | جدول الاشارات |
| القطان                              | ١٤            |               |
| البط                                | ١٩            |               |
| الخراف                              | ١٥            |               |
| الماعز                              | ٩             |               |
| الابقار                             | ١٤            |               |
| الدجاج                              | ٢٠            |               |

اجيبي عن الأسئلة التالية مستعينةً بالبيانات السابقة:



كم مجموع الحيوانات الأليفة في المزرعة؟

ما هو الحيوان المتواجد بكثرة في المزرعة؟

ما هي الحيوانات المتساوية في العدد؟

كم يزيد عدد الدجاج عن عدد البط؟

ما هي الحيوانات التي يقل عددها عن ١٤؟

كم مجموع الابقار، الخراف و البط في المزرعة؟

## تفسير البيانات

استعمل التمثيل الذي يبين كمية الحبوب التي تستهلكها عائلة سعيد خلال سنة لأجيب على الأسئلة:



| الحبوب المستهلكة في السنة |                 |         |
|---------------------------|-----------------|---------|
| التمثيل بالإشارات         | التمثيل بالرموز |         |
|                           |                 | فول     |
|                           |                 | عدس     |
|                           |                 | فاصوليا |
|                           |                 | حمص     |
| مفتاح:  = ٤ أكياس         |                 |         |

أي أنواع الحبوب أقل استهلاكاً؟



كم يزيد عدد أكياس الحمص التي تأكلها العائلة على عدد أكياس الفاصوليا؟



افتراض أن سعر كيس الفول دينارين. فكم ديناراً تنفق عائلة سعيد على الفول في السنة؟

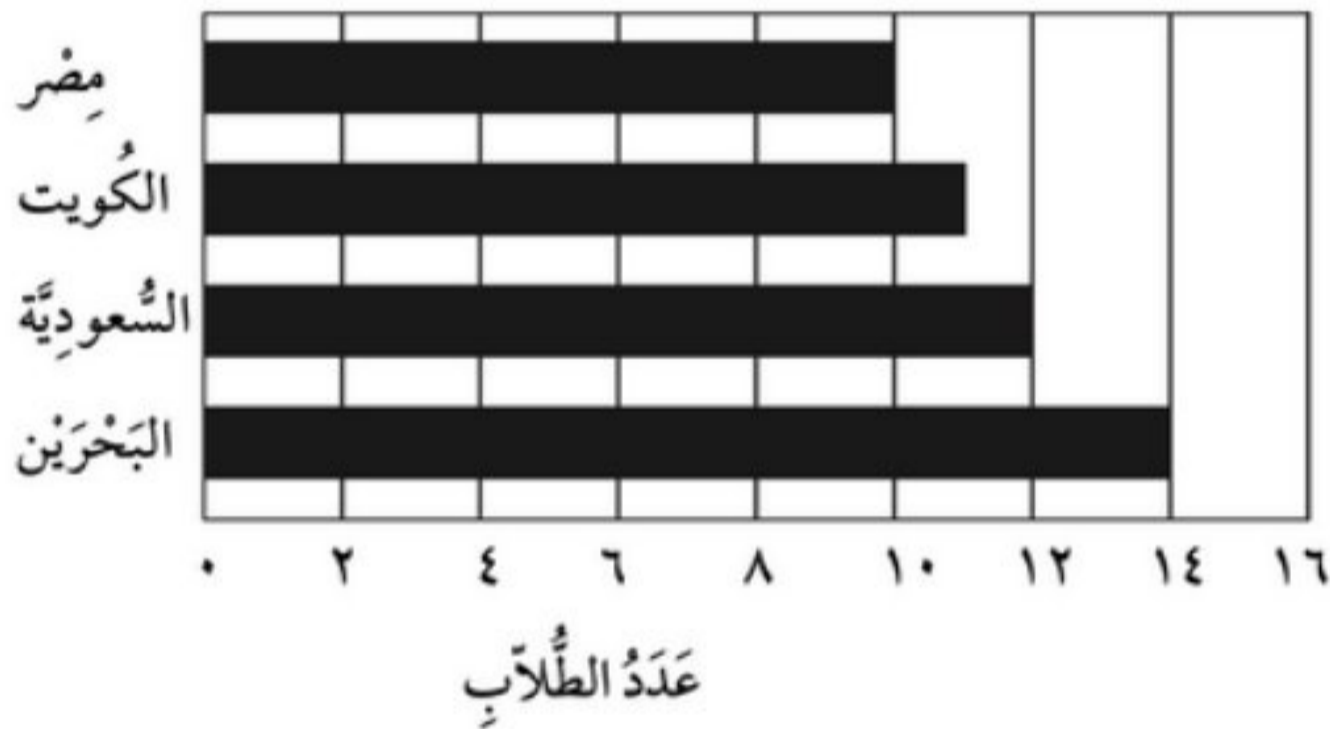


اعتمد على التمثيل بالأعمدة المجاور، للإجابة عن الأسئلة التالية:



الطلاب الذين زاروا أجنحة المعرض السياحي

ما عدد الطلبة الذين زاروا الجناح البحريني؟



كم يزيد عدد الطلبة الذين زاروا الجناح السعودي على الذين زاروا الجناح المصري؟



ما عدد الطلبة الذين زاروا الجناح الكويتي؟




إذا كان التمثيل بالرموز يظهر ٣ رموز. كل رمز يشير إلى أن سارة درست مدة ساعتين. فكم ساعة درست سارة؟

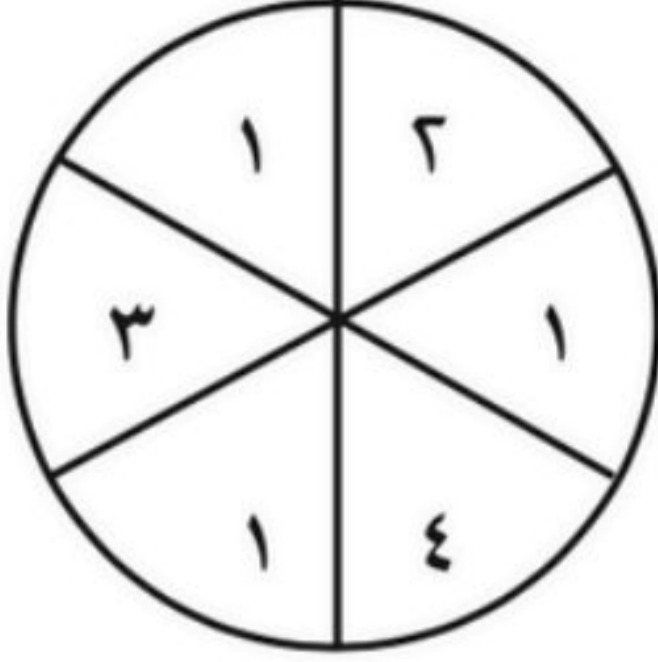


إذا كان التمثيل بالرموز يظهر ٥ رموز. كل رمز يشير إلى أن ٣ أشخاص يستعملون الحاسوب يومياً. فكم شخصاً يستعمل الحاسوب يومياً؟



## تحديد الاحتمال

أصف احتمال وقوف المؤشر على كل عدد في القرص الدوار و اكتب ( أكيد - أكثر احتمالاً - أقل احتمالاً - مستحيل ) 



ظهور العدد 0 = 

ظهور العدد 2 = 


ظهور عدد فردي = 

ظهور العدد 1 أو 4 = 

ما أكثر احتمالاً: ظهور الشعار عند رمي قطعة نقد مرة واحدة، أو ظهور الكتابة؟ 

هل تساقط الثلج عندما تكون درجة الحرارة 33 مستحيل أو أقل احتمالاً؟ 

أصف احتمال اختيار الحيوانات من الصندوق ( أكيد - أكثر احتمال - أقل احتمال - مستحيل ) 



اختيار  من الصندوق: .....

اختيار  من الصندوق: .....

اختيار  من الصندوق: .....

اختيار  من الصندوق: .....

ما هو الجسم الذين من الممكن أن يظهر لنا عند لصق مكعبين معاً؟ 

تأكل نور 9 تفاحات اسبوعياً، كم تفاحة تأكل نور في 3 اسابيع؟ 