


تم تحميل هذا الملف من موقع المناهج البحرينية



الملف مراجعة في الفصل التاسع السعة والكتلة والحجم والوقت

[موقع المناهج](#) ← [الصف الثالث](#) ← [رياضيات](#) ← [الفصل الثاني](#) ← [الملف](#)

روابط مواقع التواصل الاجتماعي بحسب الصف الثالث



روابط مواد الصف الثالث على تلغرام

[الرياضيات](#)

[اللغة الانجليزية](#)

[اللغة العربية](#)

[التربية الاسلامية](#)

المزيد من الملفات بحسب الصف الثالث والمادة رياضيات في الفصل الثاني

[التفوق في الرياضيات حول القسمة](#)

1

[نشاط إيجاد محيط الأشكال المتعددة](#)

2

[نشاط تدريبي في المحسمات](#)

3

[مراجعة في المحيط والمساحة](#)

4

[نشاط تدريبي المحيط](#)

5



الاسم :

الصف : الثالث /

التاريخ :

مراجعة في الفصل التاسع (السعة والكتلة والحجم والوقت)

س ١ : ضع دائرة حول الإجابة الصحيحة:


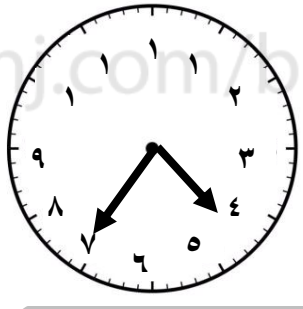
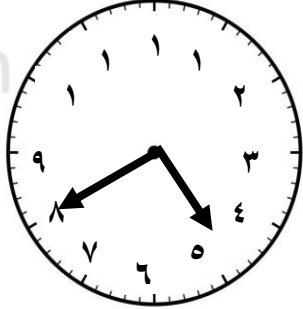
- | | | |
|--------------------|-------|-----------|
| ١ - سعة علبة عصير | مللتر | لتر |
| ٢ - سعة بركة أطفال | مللتر | لتر |
| ٣ - كتلة كيس دقيق | جرام | كيلو جرام |
| ٤ - كتلة برتقالة | جرام | كيلو جرام |

تم تحميل هذا الملف من

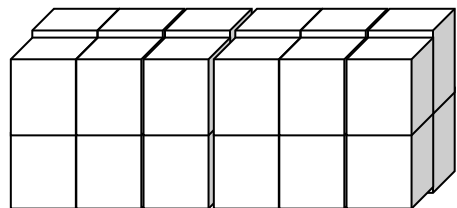
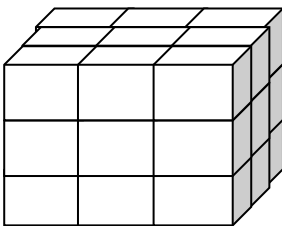
موقع المناهج البحرينية

+++++

س ٢ : اكتب الوقت الذي تشير إليه الساعة الرقمية والساعة العادية :

١٢ : ٥٥			
:	:	:	:

س ٣ : أوجد حجم المجسمات التالية :



..... = الحجم

..... = الحجم