


تم تحميل هذا الملف من موقع المناهج البحرينية



الملف مذكرة شاملة مع الإجابات

[موقع المناهج](#) ⇌ [الصف الثالث](#) ⇌ [المواد الاجتماعية](#) ⇌ [الفصل الأول](#)

روابط مواقع التواصل الاجتماعي بحسب الصف الثالث



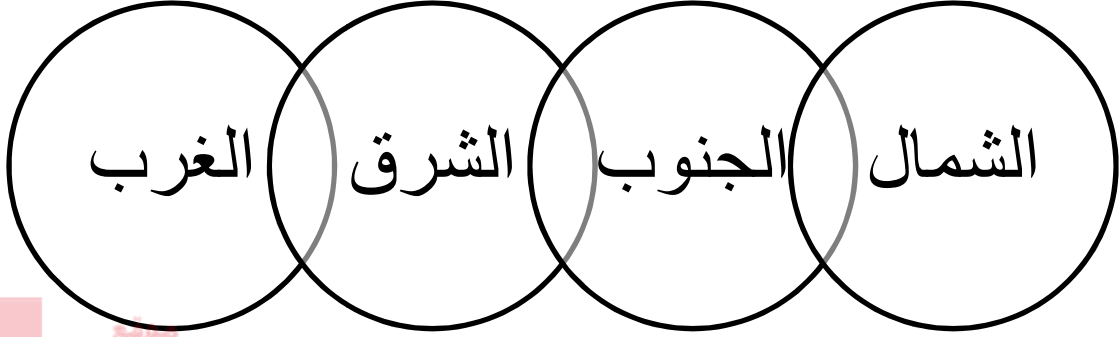
روابط مواد الصف الثالث على تلغرام

الرياضيات	اللغة الانجليزية	اللغة العربية	التربية الاسلامية
---------------------------	----------------------------------	-------------------------------	-----------------------------------

المزيد من الملفات بحسب الصف الثالث والمادة المواد الاجتماعية في الفصل الأول

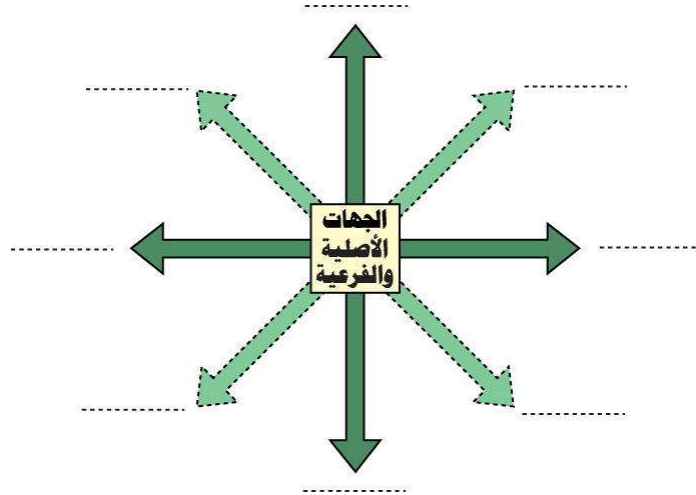
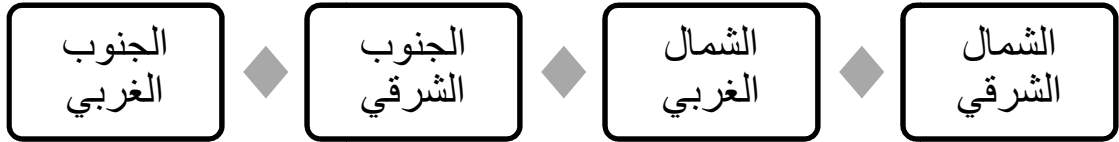
أسئلة القارات والمحيطات	1
أسئلة المواقع الأثرية في بلاد	2
أوراق عمل الجهات الأربعة	3
أوراق عمل الجهات الأصلية والفرعية وتطور وسائل النقل في البر وتطور وسائل النقل في البحر وتطور وسائل النقل في الجو	4
نشاط تقويمي للجهات الأصلية والفرعية	5

س١: سمّ الجهات الأصلية ؟



سورة
المنهج البحرينية
almanahj.com/bh

س٢: سمّ الجهات الفرعية ؟



س٣: ما المخطط ؟

هو رسم مبسط ومصغر للأشياء .

س٤: بماذا نستعين لقراءة المخطط ؟

نستعين بالفتاح لقراءة المخطط ، ولعرفة الاتجاهات نستعين بوردة الجهات .

س٥ : أذكر أسماء القارات ؟

آسيا - أوروبا - أفريقيا - أمريكا الجنوبية - أمريكا الشمالية - أوقيانيا - القارة القطبية الجنوبية (أنتاركتيكا) .

س٦ : في أية قارة يقع بلدنا مملكة البحرين ؟

مملكة البحرين تقع في قارة آسيا .

س٧ : أذكر أسماء المحيطات ؟

المحيط الهادي - المحيط الهندي - المحيط الأطلسي - المحيط المتجمد الشمالي - المحيط المتجمد الجنوبي .

موقع
المناهج البحرينية
almanahj.com/bh

س٨ : إلى أي قسم تقسم الكرة الأرضية ؟

إلى قسمين (النصف الشمالي - النصف الجنوبي)

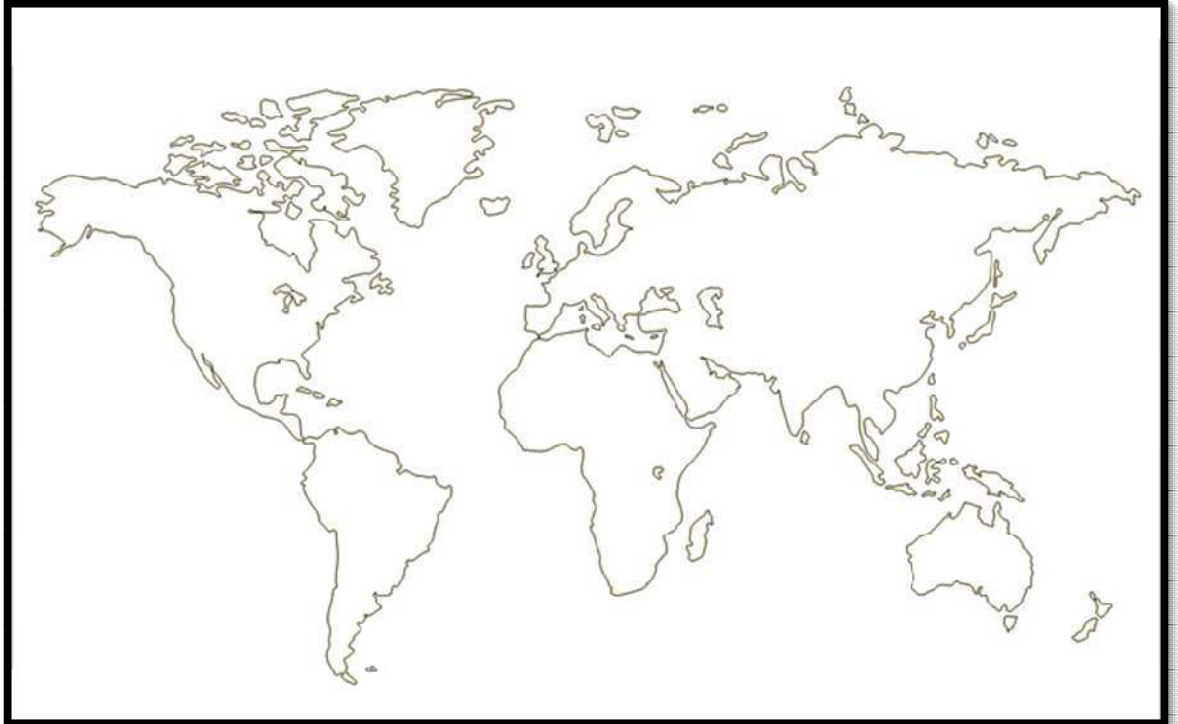
س٩ : ما اسم الخط الذي يمر في وسط الكرة الأرضية ؟

خط الاستواء .

س١٠ : في أي نصف من الكرة الأرضية يقع بلدنا البحرين ؟

تقع مملكة البحرين في النصف الشمالي .

س١١ : أكتب على خارطة العالم : (القارات - المحيطات - البحار - دولة البحرين - خط الاستواء)



س١٢ : ما السهل ؟

السهل أرض منبسطة يسهل السكن والزراعة فيها ، كما يسهل التنقل عليها .

س١٣ : أذكر اسم منطقة في مملكة البحرين أرضها سهلية ؟

منطقة البديع

س١٤ : ما الجبل ؟

الجبل : مكان من سطح الأرض مرتفعٌ كثيراً عما حوله من أراضٍ .

س١٥ : ما اسم الجبل الموجود في مملكة البحرين ؟

جبل دخان

س١٦ : مـ تتألف السلسلة الجبلية ؟

تتألف من مجموعة من الجبال متصلة مع بعضها البعض .

س١٧ : ما الوادي ؟

الوادي : مكان منخفض بين جبلين .

س١٨ : ما الهضبة ؟

الهضبة : أرض منبسطة ترتفع قليلاً عما حولها من أراضٍ ، وتتمثلها أودية عميقة .

س١٩ : ما الشاطئ ؟

الشاطئ : هو قسم من اليابسة متصل بالبحر .

س٢٠ : ما سبب تعرج الشاطئ ؟

الحركة الدائمة لأمواج البحر باتجاه الشاطئ خاصة في فصل الشتاء ، مما يسبب تفتت الصخور .

س٢١ : عرف بالرأس والخليج ؟

الرأس : هو القسم من اليابسة متقدم في البحر .

الخليج : هو قسم من البحر متقدم في اليابسة ؟

س٢٢ : ما الجزيرة ؟

الجزيرة : هي قطعة من اليابسة محاطة بالمياه من جميع الجهات .

س٢٣ : ماذا تشكل مجموعة الجزر المتجاورة ؟

تشكل أرخبيلًا

س٢٤ : سم بعض الرؤوس في مملكة البحرين ؟

الرؤوس : رأس أبي جرجور - رأس حيان - رأس الزلاق - رأس البر .

س٢٥ : سم بعض خلجان مملكة البحرين ؟

الخلجان : خليج الكاب - خليج القليعة .

س٢٦ : سم أهم جزر مملكة البحرين ؟

الجزر : البحرين - المحرق - أم النعسان - سترة - حوار .

س٢٧ : ضع في المكان المناسب على الرسم الكلمات التالية :

سلسلة جبلية - قمة جبل - المنحدر - سفح الجبل - الوادي

