


تم تحميل هذا الملف من موقع المناهج البحرينية



الملف نشاط الفصل الثامن القياس

[موقع المناهج](#) ← [الصف الثالث](#) ← [رياضيات](#) ← [الفصل الثاني](#) ← [الملف](#)

روابط مواقع التواصل الاجتماعي بحسب الصف الثالث



روابط مواد الصف الثالث على تلغرام

[الرياضيات](#)

[اللغة الانجليزية](#)

[اللغة العربية](#)

[التربية الاسلامية](#)

المزيد من الملفات بحسب الصف الثالث والمادة رياضيات في الفصل الثاني

وحدات الطول المحيط والمساحة	1
أنشطة مراجعة لاختبار نهاية الفصل الثاني	2
مراجعة في الفصل التاسع السعة والكتلة والحجم والوقت	3
التفوق في الرياضيات حول القسمة	4
نشاط إيجاد محيط الأشكال المتعددة	5

اسم الطالب: الصف: التاريخ:

١. أكتب الوحدة المترية لقياس الطول (الملمتر – السنتمتر – المتر – الكيلومتر):

• وحدة الطول المناسبة لقياس المسافة بين المحرق ومدينة حمد هي

• وحدة الطول المناسبة لقياس السيارة هي

• وحدة الطول المناسبة لقياس سمك قطعة النقود هي

• وحدة الطول المناسبة لقياس علبة عصير هي

٢. أكتب أربعة أشياء يمكن أن أقيسها بالسنتمترات :

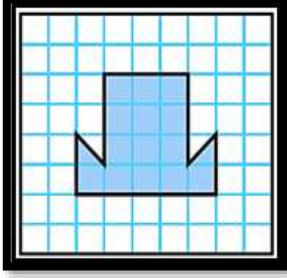


.....

.....

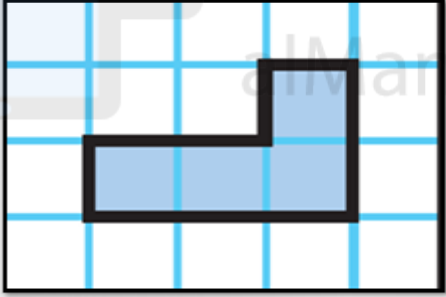

٣. أجد محيط كل شكل مما يأتي:

<p>.....</p>	<p>.....</p>	<p>.....</p>
<p>.....</p>	<p>.....</p>	<p>.....</p>

٤. أوجد مساحة الشكل المظلل التالي:

 <p>.....</p>	 <p>.....</p>	 <p>.....</p>
--	--	--

تم تحميل هذا الملف من موقع المناهج البحرينية

 <p>.....</p>	 <p>.....</p>
--	---