

## شكراً لتحميلك هذا الملف من موقع المناهج البحرينية



## مذكرة الإبداع في الرياضيات

[موقع المناهج](#) ⇨ [المناهج البحرينية](#) ⇨ [الصف الثالث](#) ⇨ [رياضيات](#) ⇨ [الفصل الثاني](#) ⇨ [الملف](#)

تاريخ نشر الملف على موقع المناهج: 17:49:16 2024-04-05

## التواصل الاجتماعي بحسب الصف الثالث



## روابط مواد الصف الثالث على تلغرام

[الرياضيات](#)

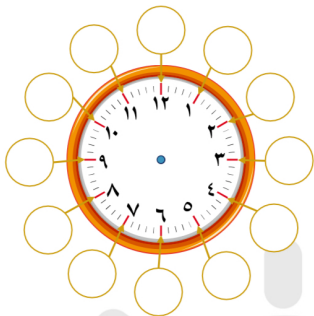
[اللغة الانجليزية](#)

[اللغة العربية](#)

[التربية الاسلامية](#)

## المزيد من الملفات بحسب الصف الثالث والمادة رياضيات في الفصل الثاني

<a href="#">كراسة مادة الرياضيات</a>	1
<a href="#">الاختبار الثاني الطول والحجم والمساحة</a>	2
<a href="#">كراسة التربية الأسرية الجديدة</a>	3
<a href="#">ملزمة عالم الرياضيات</a>	4
<a href="#">تمارين جدول الضرب</a>	5



اكتب الدقائق التي يعبر عنها كل رقم في الساعة

اكتب الوقت الذي تشير إليه الساعات



:



:



:

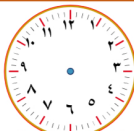


:

ارسم عقارب الساعة بحيث تشير للوقت الموضح



١:٠٥



١٢:٥٥



٣:٣٠



٥:١٨

١٠:٣٣



٦:٠٧



\* اكتب الوقت الظاهر على الساعات بالأرقام :



١. اقرأ الساعة ثم كتب الوقت الصحيح:

سلطنة عمان  
التعليمية



:



:

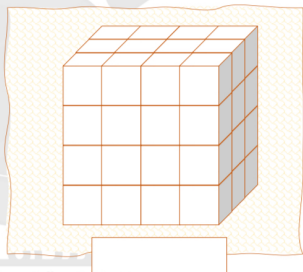

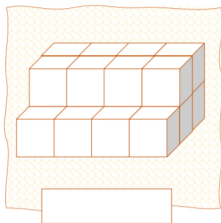

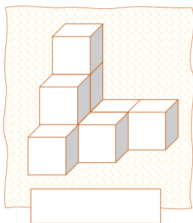


:



:

أوجد حجم الأشكال التالية بالوحدات المكعبة



الابتدائية الإعدادية للبنين

أوجد حجم الأشكال التالية بالوحدات المكعبة



القياس  
الوحدات المترية لقياس السعة

اختر التقدير الأنسب لقياس كتل الأشياء التالية



١٠ كجم | ٦٠٠ جم



١٠٠ جم | ١ كجم



٣ كجم | ٣ جم

قارن بين قيم الكتل التالية :

٣ كجم  ٢٠٠٠ جم١ كجم  ١٠٠٠ جم١ كجم  ١٠٠ جم٦٠٠ جم  ١٠٠٠ جم٢ كجم  ٣٠٠٠ جم٥ كجم  ٢٠ كجم

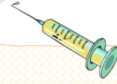
اختر التقدير الأنسب لقياس سعات الأشياء التالية



٥٠٠٠ ل | ٦٠٠٠ مل



١٥ ل | ٣٠٠ مل



٥ لتر | ٥ مللتر

قارن بين قيم السعات التالية :

٦٠٠٠ مل  ٤ ل٥٠٠ مل   $\frac{1}{3}$  ل٣٠٠ مل  ٢ ل٤٠٠ مل  ٣٠٠ مل٨ ل  ٨٠٠٠ مل٣٠ لتر  ٣٠ ل

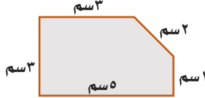
## المحيط

## القياس

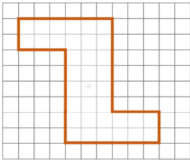
المحيط هو الإطار الخارجي للمحيط بالمنطقة أو الشكل

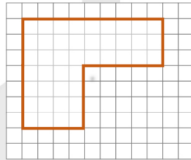
أوجد محيط الأشكال التالية

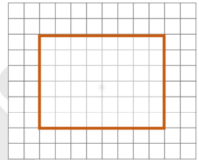




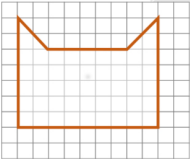
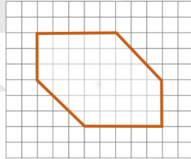
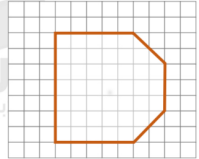






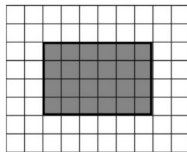



المساحة عدد الوحدات المربعة اللازمة لتغطية شكل ما


 المساحة

 المساحة

 المساحة

أوجد محيط ومساحة الأشكال التالية


 المساحة

 المحيط

 المساحة

 المحيط