

تم تحميل هذا الملف من موقع المناهج البحرينية



## الملف نشاط تدريبي وحدة القياس

[موقع المناهج](#) ← [الصف الثالث](#) ← [رياضيات](#) ← [الفصل الثاني](#) ← [الملف](#)

## روابط مواقع التواصل الاجتماعي بحسب الصف الثالث



## روابط مواد الصف الثالث على تلغرام

[الرياضيات](#)

[اللغة الانجليزية](#)

[اللغة العربية](#)

[التربية الاسلامية](#)

## المزيد من الملفات بحسب الصف الثالث والمادة رياضيات في الفصل الثاني

<a href="#">نشاط الفصل الثامن القياس</a>	1
<a href="#">وحدات الطول المحيط والمساحة</a>	2
<a href="#">أنشطة مراجعة لاختبار نهاية الفصل الثاني</a>	3
<a href="#">مراجعة في الفصل التاسع السعة والكتلة والحجم والوقت</a>	4
<a href="#">التفوق في الرياضيات جدول القسمة</a>	5

السؤال الثالث : أختار التقدير الأفضل لقياس كل من.


أختاري الوحدة المناسبة	إسم الشيء
١٠ ملم ، ١٠ سم	طول قلم السبورة
٢ م ، ٢ سم	طول سيارة
٥ متر ، ٥ كم	المسافة بين مدينتين
٢٥ سم ، ٢٥ ملم	عرض الكتاب
٣ م ، ٣ سم	طول غرفة الصف
٢ م ، ٢ سم	إرتفاع سارية العلم
٧ كم ، ٧ م	المسافة التي يقطعها القطار
٦ ملم ، ٦ سم	طول الحشرة
٤ م ، ٤ سم	إرتفاع الباب
١ م ، ١ سم	محاة القلم

السؤال الأول : أختار الوحدة المناسبة ( ملمتر - سنتمتر - متر - كيلومتر ) لقياس لكل مما يأتي :

- ١- عرض قشر برتقال (.....)
- ٢- المسافة بين الحديقة والبيت (.....)
- ٣- طول الهاتف (.....)
- ٤- طول النحلة (.....)
- ٥- طول سقف الغرفة (.....)
- ٦- طول جسر سترة (.....)
- ٧- علبة المنديل (.....)
- ٨- عرض الجدار (.....)



السؤال الثاني : أقيس بالسنتيمتر والمليمتر




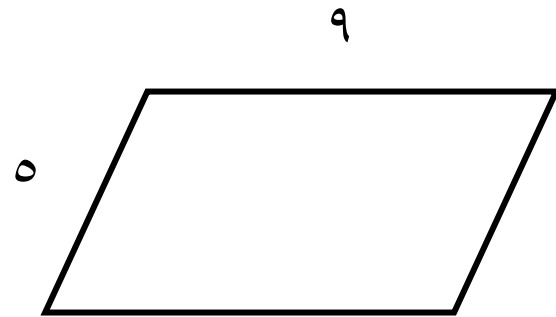
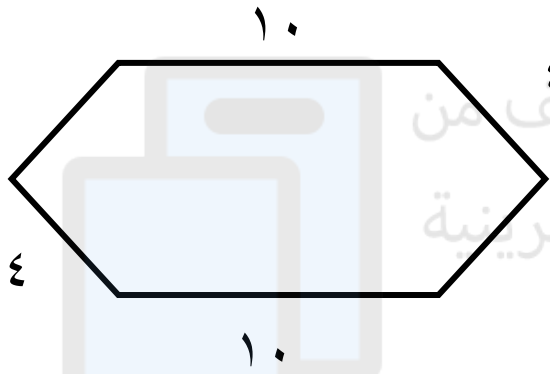

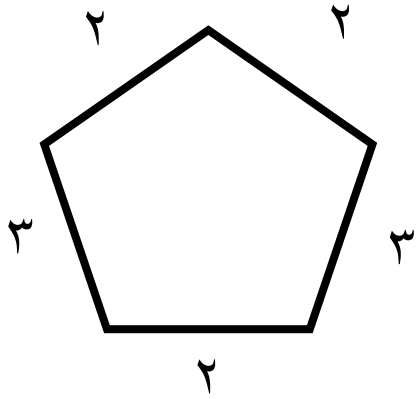
سم (.....)

سم (.....)

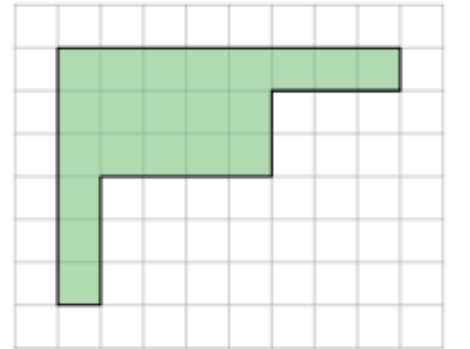
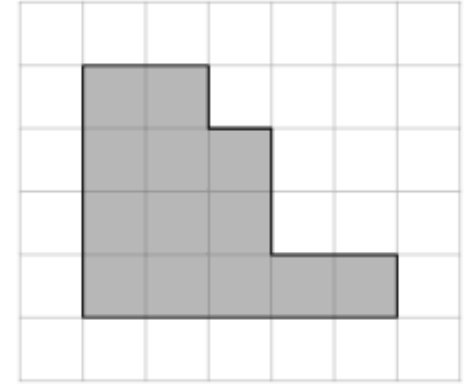
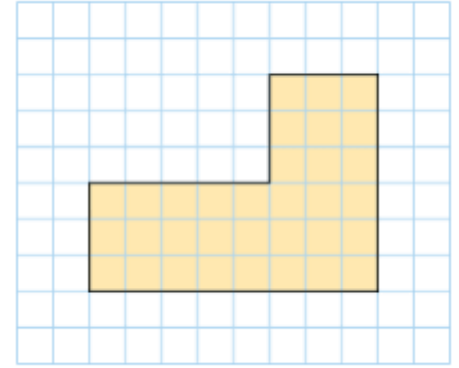
ملم (.....)

ملم (.....)







السؤال الخامس: أجد محيط الأشكال التالية



السؤال الرابع: أجد محيط الأشكال التالية



السؤال السابع: أجد مساحة الأشكال التالية



السؤال السادس: أجد مساحة الأشكال التالية

