

تم تحميل هذا الملف من موقع المناهج البحرينية



الملف نشاط تدريبي في المحيط

[موقع المناهج](#) ← [الصف الثالث](#) ← [رياضيات](#) ← [الفصل الثاني](#) ← [الملف](#)

روابط مواقع التواصل الاجتماعي بحسب الصف الثالث



روابط مواد الصف الثالث على تلغرام

[الرياضيات](#)

[اللغة الانجليزية](#)

[اللغة العربية](#)

[التربية الاسلامية](#)

المزيد من الملفات بحسب الصف الثالث والمادة رياضيات في الفصل الثاني

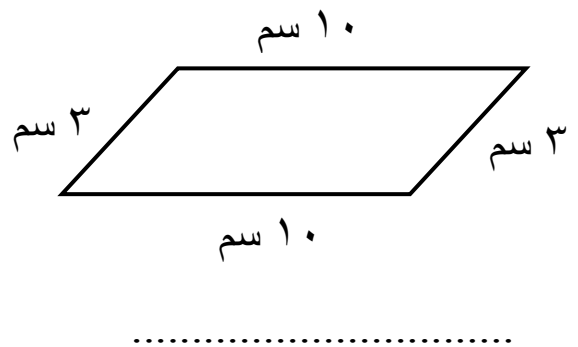
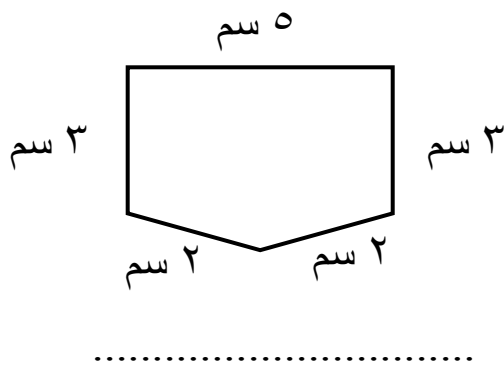
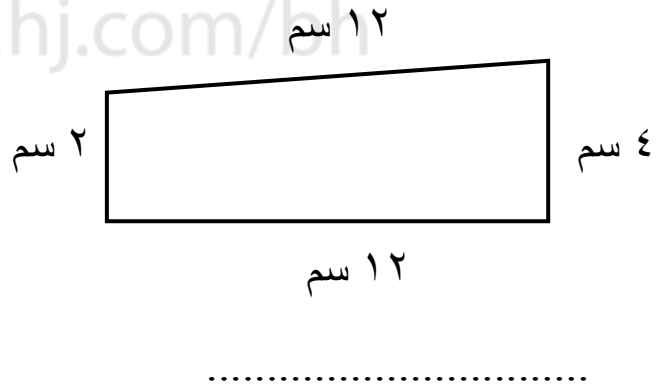
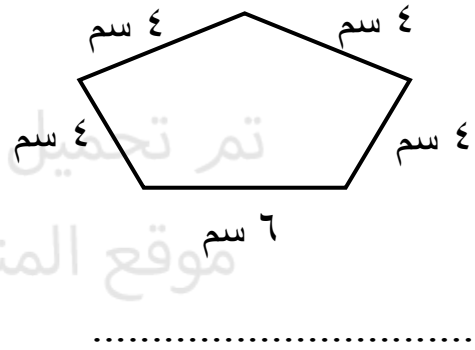
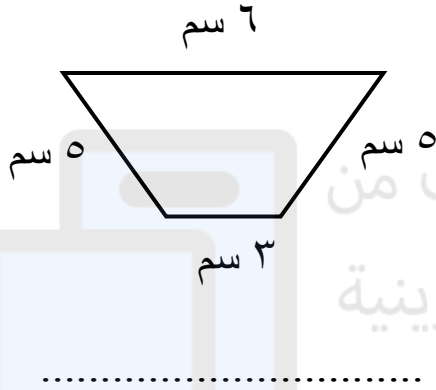
أنشطة مرافقة لدرس المحسمات	1
نشاط تدريبي المساحة	2
نشاط تدريبي وحدة القياس	3
نشاط الفصل الثامن القياس	4
وحدات الطول المحيط و المساحة	5




مدرسة الصفا الابتدائية للبنات

نشاط تدريبي في مادة الرياضيات (المحيط)
للف الثالث الابتدائي للعام الدراسي ٢٠١٩ - ٢٠٢٠ م


س ١: أوجد محيط كل شكل من الأشكال التالية: 😊




س٢: أظلل شكلاً على شبكة المربعات يكون طول محيطه كالآتي:




$$1 + 5 + 1 + 5$$




$$8 + 3 + 8 + 3$$




$$7 + 4 + 7 + 4$$



$$2 + 9 + 2 + 9$$



$$14 + 5 + 4 + 5$$



$$3 + 6 + 3 + 6$$