

تم تحميل هذا الملف من موقع المناهج البحرينية



الملف وحدات الطول المحيط و المساحة

[موقع المناهج](#) ← [الصف الثالث](#) ← [رياضيات](#) ← [الفصل الثاني](#) ← [الملف](#)

روابط مواقع التواصل الاجتماعي بحسب الصف الثالث



روابط مواد الصف الثالث على تلغرام

[الرياضيات](#)

[اللغة الانجليزية](#)

[اللغة العربية](#)

[التربية الاسلامية](#)

المزيد من الملفات بحسب الصف الثالث والمادة رياضيات في الفصل الثاني

[أنشطة مراجعة لاختبار نهاية الفصل الثاني](#)

1

[مراجعة في الفصل التاسع السعة والكتلة والحجم والوقت](#)

2

[التفوق في الرياضيات حول القسمة](#)

3

[نشاط إيجاد محيط الأشكال المتعددة](#)

4

[نشاط تدريبي في المجسمات](#)

5

الاسم:

الصف:

التاريخ: / /


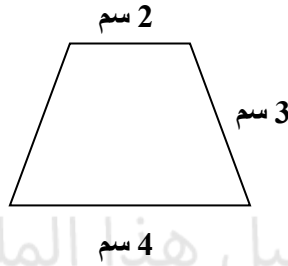
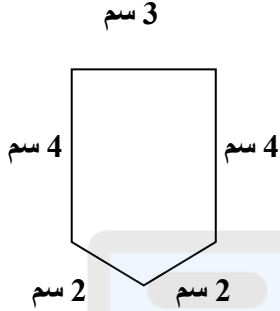
مشروع دانات الحساب



مملكة البحرين
وزارة التربية والتعليم
مدرسة سترة الابتدائية للبنات

الكفاية: تستعمل وحدات الطول المترية في قياس الأطوال وتكتشف مفهوم المحيط والمساحة

أولاً: أوجد محيط الأشكال التالية:

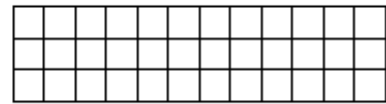

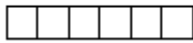


تم تحميل هذا الملف من
موقع المساهج البحرينية

ثانياً: اختار الوحدة الأنسب مستعملاً (ملم، سم، م، كم) لقياس كل من الأطوال الآتية:

- (1) طول الباب (.....)
- (2) سمك قطعة النقود (.....)
- (3) طول أصبعي (.....)
- (4) المسافة بين أبوصيبع والشاخورة (.....)
- (5) عرض كتاب (.....)

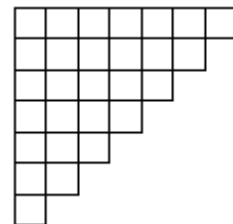
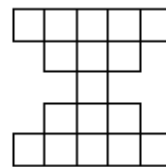

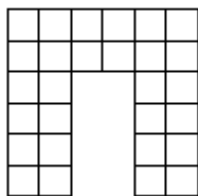
ثالثاً: أوجد مساحة الأشكال الآتية:



.....

.....

.....



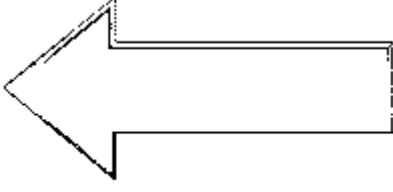
.....

.....

.....

.....

رابعاً: قس كلاً مما يأتي لأقرب سنتمتر:



.....

.....

.....

الكفاية: تحل مسائل رياضية وحياتية مارا بالخطوات الأربع، ومستعملة استراتيجيات مختلفة

خامساً: حل المسائل اللفظية التالية:

(1) ما محيط مطبخ طوله 6 م وعرضه 4 م؟

.....

(2) أعطاني أبي 5 دنانير وأعطي أخي 6 دنانير وأعطى أمي 9 دنانير، فكم ديناراً كان مع أبي؟

.....

(3) لدى فاطمة 36 قلمًا . وبالأمس كان لديها نصف هذا العدد زائد اثنين . فكم كان عدد أقلامها

بالأمس؟

.....

إعداد	منسقة القسم ي	يعتمد مديرة المدرسة
أ. جيهان عبد الوهاب حافظ	أ. يسرى محمد عطية	أ. أمينة حسن الهندي