

تم تحميل هذا الملف من موقع المناهج البحرينية



## مذكرة الإبداع في الرياضيات

[موقع المناهج](#) ← [المناهج البحرينية](#) ← [الصف الثالث](#) ← [رياضيات](#) ← [الفصل الثاني](#) ← [الملف](#)

تاريخ إضافة الملف على موقع المناهج: 14:27:03 2024-05-12

## التواصل الاجتماعي بحسب الصف الثالث



اضغط هنا للحصول على جميع روابط "الصف الثالث"

## روابط مواد الصف الثالث على تلغرام

[الرياضيات](#)

[اللغة الانجليزية](#)

[اللغة العربية](#)

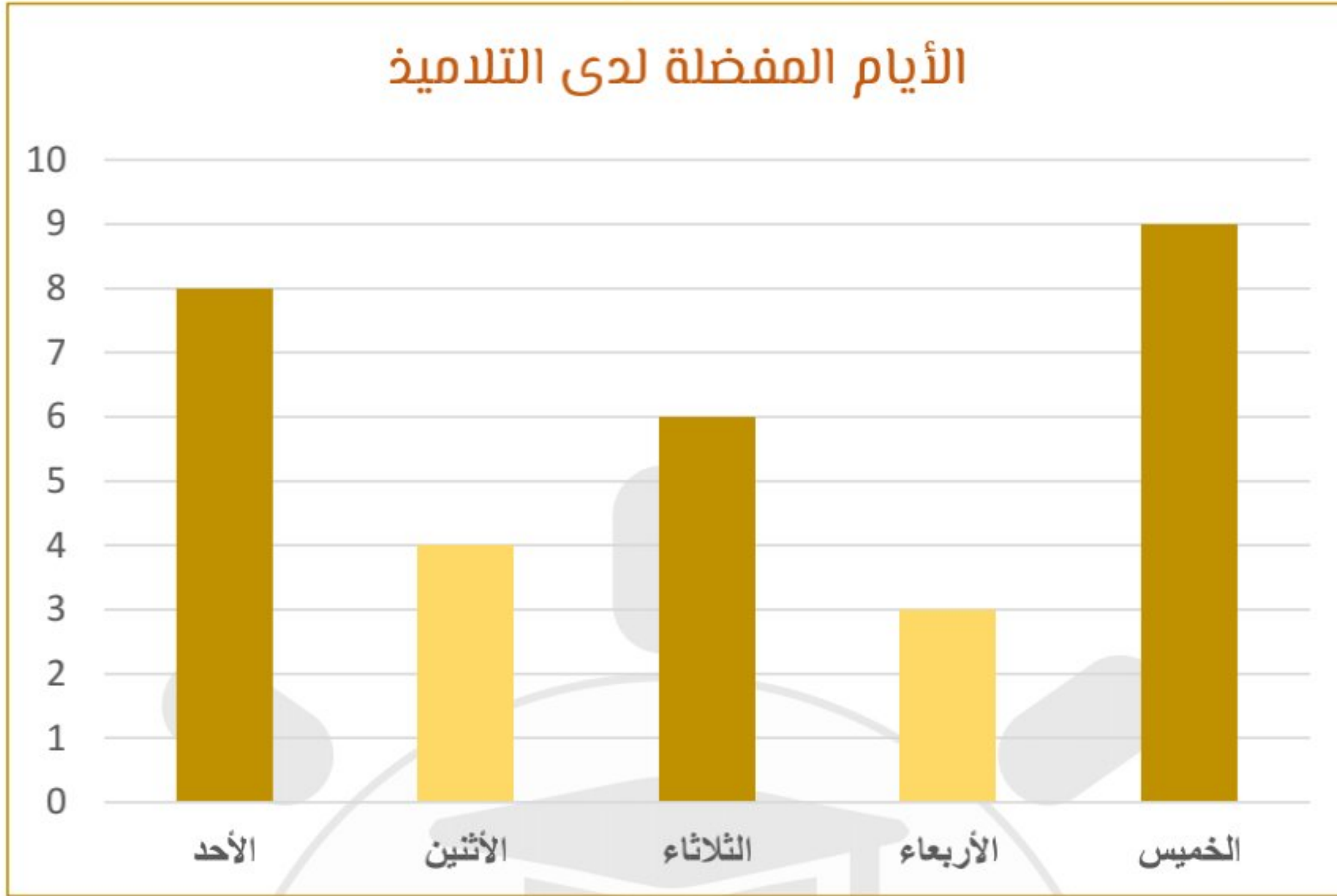
[التربية الاسلامية](#)

## المزيد من الملفات بحسب الصف الثالث والمادة رياضيات في الفصل الثاني

<a href="#">نشرة الامتحانات الوزارية</a>	1
<a href="#">نشاط تدريبي الأشكال الهندسية</a>	2
<a href="#">مراجعة الكسور المتكافئة ومقارنة الكسور</a>	3
<a href="#">مذكرة الإبداع في الرياضيات</a>	4
<a href="#">كراسة مادة الرياضيات</a>	5



أجب عما يلي باستخدام التمثيل بالأعمدة



- ما عدد التلاميذ الذين يفضلون يوم الاثنين ؟ .....
- ما اليوم الأكثر تفضيلاً لدى التلاميذ ؟ .....
- ما مجموع الذين يفضلون يوم الأحد ويوم الأربعاء ؟ .....
- ما اليوم الأقل تفضيلاً لدى التلاميذ ؟ .....
- ما اليوم الذي يفضله 6 تلاميذ ؟ .....
- كم يزيد عدد الذين يفضلون يوم الثلاثاء على الذين يفضلون الأربعاء ؟ .....
- ما مجموع التلاميذ الذين شاركوا في الاستبيان ؟ .....
- لو اختار 4 تلاميذ آخرون يوم الأربعاء هل سيصبح اليوم الأكثر تفضيلاً ؟ .....

استعمل جدول الإشارات لتحديد الدولة التي سيسافر إليها كل مجموعة من التلاميذ

المسافرون	الدولة	جدول الإشارات	الدولة
قاسم - يوسف - آدم - سعيد - حميد - سمير - مصطفى	.....		الكويت
صادق - عبدالرحمن - محمود - سلمان	.....		الإمارات
عزيز - محمد - سامي - منير - علي - هاشم - أحمد - وليد - جميل - فاضل	.....		عمان



## عرض البيانات و تفسيرها

أمثل البيانات بالإشارات، و بجدول الأعمدة، ثم أجب عما يلي:

الحيوانات الأليفة الموجودة بالمزرعة		الحيوانات الأليفة الموجودة بالمزرعة		
التنوع	عدد الحيوانات	جدول الإشارات		
ماعز	٦			
خروف	٢			
حصان	٨			
بقرة	٣			
جمل	٥			

الحيوانات الأليفة الموجودة بالمزرعة
9
8
7
6
5
4
3
2
1
0
جمل      بقرة      حصان      خروف      ماعز

- ما الحيوان الأكثر بالمزرعة ؟ .....
- كم يزيد عدد الماعز عن الأبقار ؟ .....
- ما الحيوان الأقل بالمزرعة ؟ .....
- ما مجموع الحيوانات الأليفة بالمزرعة ؟ .....

استعمل التمثيل بالرموز للإجابة عما يلي:

الهواية المفضلة	الاستجابات					
القراءة						
الرسم						
الرياضة						
الصيد						

- ما الهواية الأقل تفضيلاً؟ .....
- ما عدد الذين يفضلون الرياضة ؟ .....
- ما الهويتان اللتان حصلتا على العدد نفسه من الاستجابات ؟ .....
- ما مجموع التلاميذ الذين استجابوا للسؤال ؟ .....
- بكم يزيد عدد الذين يفضلون القراءة على الذين يفضلون الصيد ؟ .....



أصف احتمال وقوف المؤشر (أكيد، أكثر احتمال، متساوي، أقل احتمال، مستحيل):



أزرق .....  
 أحمر .....  
 أخضر أو أصفر .....  
 أسود .....  
 أزرق أو أصفر أو أخضر أو أحمر .....


### اختر الإجابة الصحيحة


- حدث سقوط الثلوج عند درجة حرارة ٤٠ :  
 ١. أكيد      ٢. أكثر احتمال      ٣. أقل احتمال      ٤. مستحيل
- حدث خروج الشمس من جهة الشرق عند الصباح:  
 ١. أكيد      ٢. أكثر احتمال      ٣. أقل احتمال      ٤. مستحيل
- حدث ارتداء ملابس طويلة بفصل الخريف:  
 ١. أكيد      ٢. أكثر احتمال      ٣. أقل احتمال      ٤. مستحيل
- حدث الذهاب التلاميذ للمدرسة بالعطلة الصيفية:  
 ١. أكيد      ٢. أكثر احتمال      ٣. أقل احتمال      ٤. مستحيل


### تحديد الاحتمال

أصف احتمال اختيار أحد الحيوانات من الصندوق

(أكيد، أكثر احتمال، متساوي، أقل احتمال، مستحيل):

اختيار  من الصندوق: .....

اختيار  من الصندوق: .....

اختيار  من الصندوق: .....

اختيار حيواناً من الصندوق: .....

