

تم تحميل هذا الملف من موقع المناهج البحرينية



مراجعة الوقفة التقييمية الخامسة

موقع المناهج ← المناهج البحرينية ← الصف الثالث ← رياضيات ← الفصل الأول ← ملفات متنوعة ← الملف

تاريخ إضافة الملف على موقع المناهج: 2024-12-22 22:43:41

ملفات اكتب للمعلم اكتب للطالب الاختبارات الكترونية | اختبارات | حلول | عروض بوربوينت | أوراق عمل
منهج انجليزي | ملخصات و تقارير | مذكرات و بنوك | الامتحان النهائي للمدرس

المزيد من مادة
رياضيات:

التواصل الاجتماعي بحسب الصف الثالث



صفحة المناهج
البحرينية على
فيسبوك

الرياضيات

اللغة الانجليزية

اللغة العربية

التربية الاسلامية

المواد على تلغرام

المزيد من الملفات بحسب الصف الثالث والمادة رياضيات في الفصل الأول

نشاط إثرائي الوقف التقييمية

1

مراجعة القسمة

2

نشاط القسمة

3

مذكرة رياضيات

4

مذكرة رياضيات

5



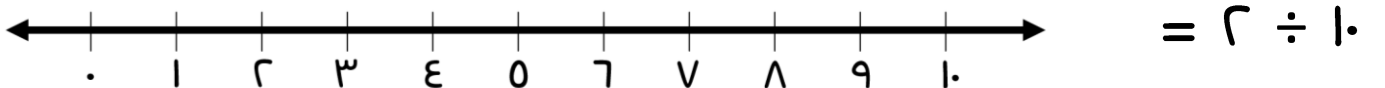
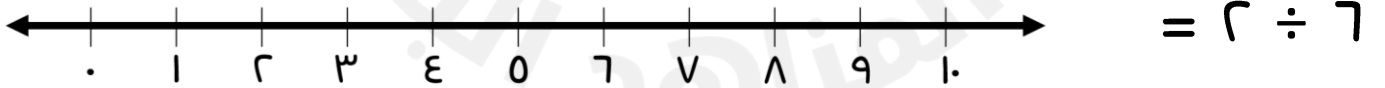
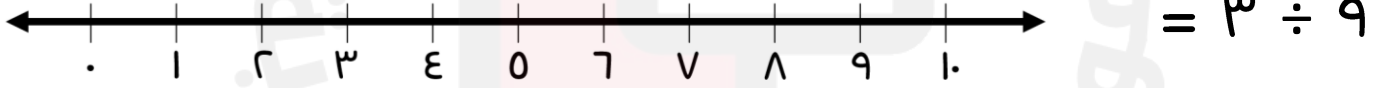
الصف الثالث الابتدائي - الفصل الدراسي الأول

مراجعة الوقفة التقويمية الخامسة في مادة الرياضيات

في وحدة القسمة

إعداد: أ. سمية محمد

السؤال الأول: أوجد ناتج القسمة باستخدام خط الأعداد.



السؤال الثاني: أوجد ناتج الضرب ثم أكتب جملة قسمة مرتبطة بها.

| | |
|----------------------|-----------------|
| <input type="text"/> | $= 0 \times 2$ |
| <input type="text"/> | $= 3 \times 3$ |
| <input type="text"/> | $= 8 \times 10$ |
| <input type="text"/> | $= 7 \times 11$ |
| <input type="text"/> | $= 0 \times 8$ |
| <input type="text"/> | $= 7 \times 7$ |

السؤال الثالث: أوجد ناتج القسمة.

| | | | | |
|---------------|----------------|--------------|---------------|----------------|
| $= 1 \div 20$ | $= 10 \div 80$ | $= 1 \div 9$ | $= 0 \div 30$ | $= 0 \div 20$ |
| $= 2 \div 10$ | $= 0 \div 10$ | $= 8 \div 8$ | $= 2 \div 7$ | $= 10 \div 70$ |

$$\begin{array}{r} \\ \underline{2} \\ 14 \end{array}$$

$$\begin{array}{r} \\ \underline{10} \\ 70 \end{array}$$

$$\begin{array}{r} \\ \underline{0} \\ 10 \end{array}$$