

تم تحميل هذا الملف من موقع المناهج البحرينية



*للحصول على أوراق عمل لجميع الصفوف وجميع المواد اضغط هنا

<https://almanahj.com/bh>

* للحصول على أوراق عمل لجميع مواد الصف الثالث اضغط هنا

<https://almanahj.com/bh/3>

* للحصول على جميع أوراق الصف الثالث في مادة رياضيات ولجميع الفصول, اضغط هنا

<https://almanahj.com/bh/3>

* للحصول على أوراق عمل لجميع مواد الصف الثالث في مادة رياضيات الخاصة بـ اضغط هنا <https://almanahj.com/bh/3>

* لتحميل كتب جميع المواد في جميع الفصول للـ الصف الثالث اضغط هنا

<https://almanahj.com/bh/grade3>

[almanahjbhbot/me.t//:https](https://t.me/almanahjbhbot)

للتحدث إلى بوت على تلغرام: اضغط هنا

الاسم:

نشاط

الصف: الثالث /





المادة: الرياضيات

التاريخ:

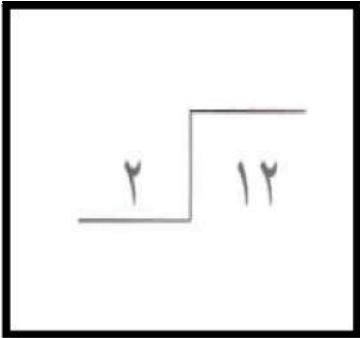
إثرائي تدريبي تقويمي علاجي



رؤيتنا : معا يدا بيد نبني تميز الغد

الكفاية: تقسم عددا على آخر في حدود حقائق الضرب الأساسية حتى 10×12 س ١ : أ. اكتب عبارة القسمة المناسبة للمجموعات التالية :

ب. أوجد ناتج كل مما يلي :

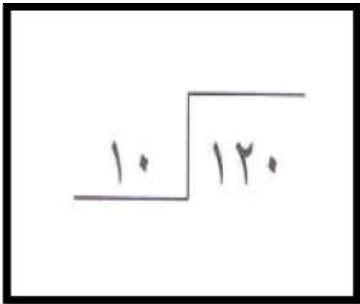


= $9 \div 18$

= $5 \div 35$

= $8 \div 8$

= $2 \div 0$



= $5 \div 25$

= $1 \div 5$

الكفاية: تكتسب الحس الرياضي

س٢ . ضع رموز العدد المناسب داخل في كل مما يأتي:

$$6 = \square \div 30$$

$$2 = \square \div 2$$

$$0 = \square \div 0$$

$$10 = 3 \div \square$$

س٣: اكتب الحقائق المترابطة لكل مجموعة من الأعداد التالية:

٣٥ ، ٥ ، ٧

عبارتا الضرب : -----

عبارتا القسمة : -----

٣٦ ، ٦

عبارتا الضرب : -----

عبارتا القسمة : -----

س٤ : أوجدى ناتج القسمة بالمجموعات المتساوية ، ثم أوجدى الناتج :

$$= 2 \div 24$$

س٥ : أوجدى ناتج العبارة التالية مستخدمة الطرح المتكرر على خط الأعداد :



$$= 2 \div 16$$

توقيعك ولى الأمر دليل منابعتك		نتيجة الطالبة	
لا يعجبني ☹️	جيد 😊	يعجبني 😊	ما رأيك فى هذا النشاط ؟
			ملاحظات ولى الأمر
مديرة المدرسة : د. صغرى ربيع	توقيع ولى الأمر :		إعداد : أفضيلة عباس