

تم تحميل هذا الملف من موقع المناهج البحرينية



* للحصول على أوراق عمل لجميع الصفوف وجميع المواد اضغط هنا

<https://almanahj.com/bh>

* للحصول على أوراق عمل لجميع مواد الصف الثالث اضغط هنا

<https://almanahj.com/bh/3>

* للحصول على جميع أوراق الصف الثالث في مادة رياضيات ولجميع الفصول, اضغط هنا

<https://almanahj.com/bh/3math>

* للحصول على أوراق عمل لجميع مواد الصف الثالث في مادة رياضيات الخاصة بـ الفصل الثاني اضغط هنا

<https://almanahj.com/bh/3math2>


* لتحميل كتب جميع المواد في جميع الفصول للـ الصف الثالث اضغط هنا

<https://almanahj.com/bh/grade3>

* لتحميل جميع ملفات المدرس انتصار عبد الله وآجناحي اضغط هنا

للتحدث إلى بوت على تلغرام: اضغط هنا

https://t.me/omcourse_bot



مملكة البحرين
وزارة التربية والتعليم
مدرسة أسماء ذات النطاقين الابتدائية للبنات
قسم نظام فصل

المجسمات

إعداد: أ. انتصار عبدالله

للف الثالث الابتدائي

مديرة المدرسة: أ. آمنة جناحي

هدف الدرس

أن تميز الطالبة الأشكال (المكعب والكُرَّة والمخروط والأسطوانة)



اسماء الأشكال



7

أُسْطُوَانَةٌ



6

مُكْعَبٌ



9


كُرَّةٌ



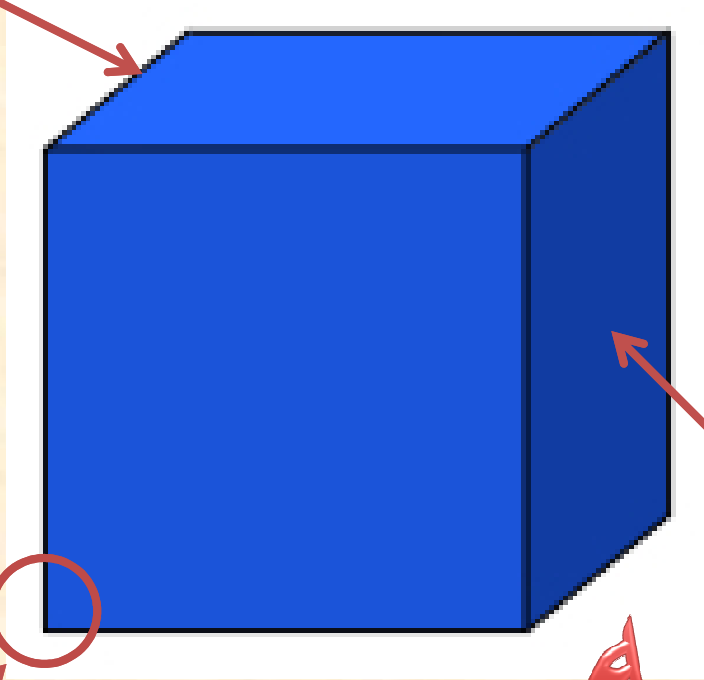
8

مَخْرُوطٌ

مكعب




لي 12 حرفاً



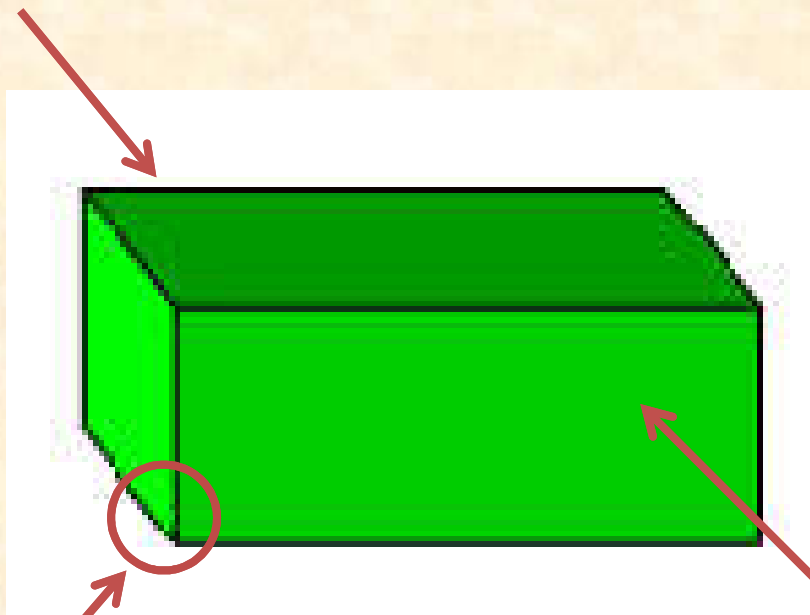
لي 6 أوجه

لي 8 رؤوس

متوازي مستطيلات



لي 12 حرفاً

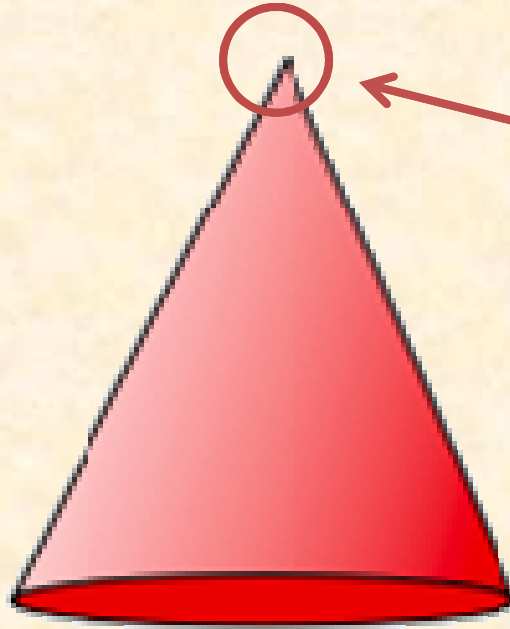


لي 8 رؤوس

لي 6 أوجه

مخروط








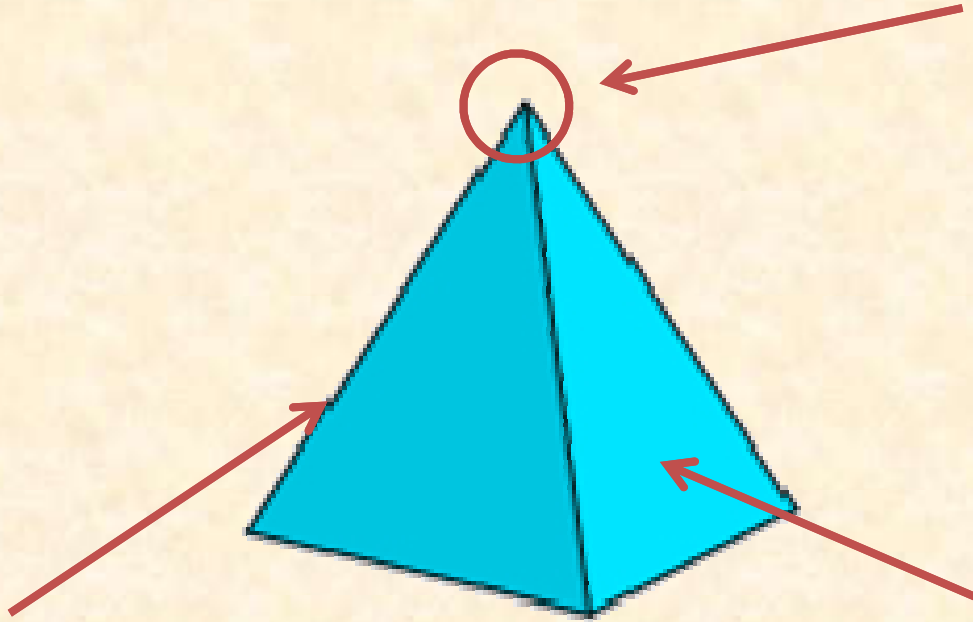
لي رأس 1

لا أوجه لي لا حروف لي

هرم



لِي 5 رُوُوسٌ



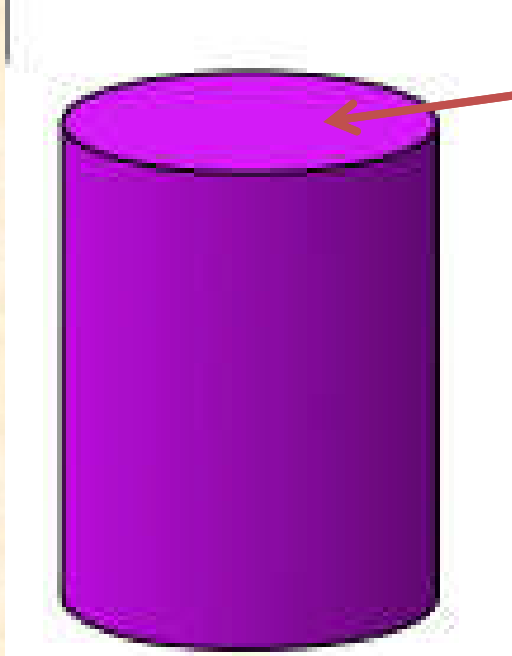
لِي 4 حُرُوفٌ

لِي 4 أُوُجُهٌ

أسطوانة



لي وجهان




لا رؤوس لي

لا أحرف لي

كرة




لا أوجه لي



لا رؤوس لي

لا أحرف لي

هَذِهِ مُجَسَّمَاتٌ . وَلِلْمُجَسَّمِ ثَلَاثَةٌ أَبْعَادٍ .




مُرْتَمٍ




مُكَبَّبٌ



مُكْرَبٌ



مُتَوَازِي مُسْتَطِيلَاتٍ



أَسْطُوَانَةٌ



مَخْرُوطٌ


Choo-Choo Train and 3D Shapes




Part 1

أُتَدْرَبُ

أَحِيطُ الْمَجَسَّمَاتِ الَّتِي لَهَا الشَّكْلُ نَفْسُهُ:



1



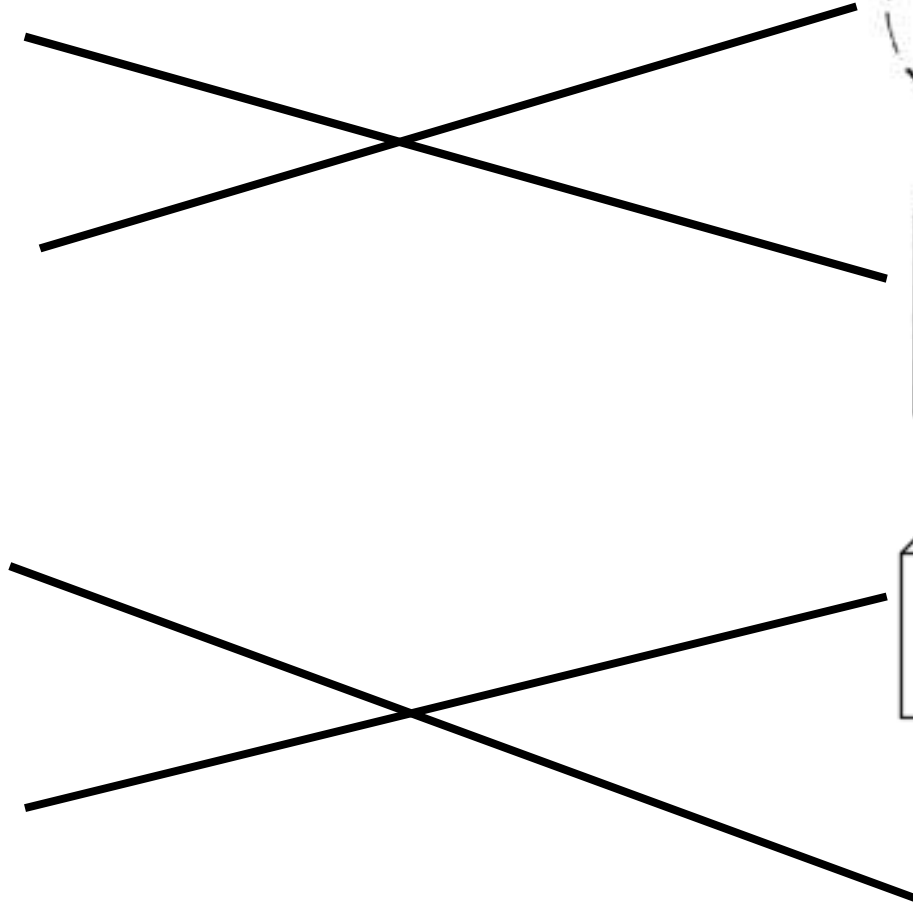
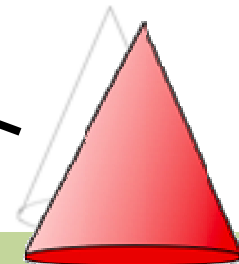
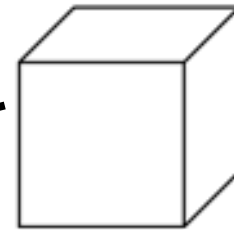
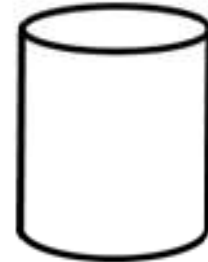
2





ابحثي عن صور تشبه أشكال المجسمات والصقيها في دفترك مع كتابة اسم الشكل.

صلي بخط مستقيم بين كل مجسم والشكل الذي يشبهه في ما يلي:



صغيرتي الجميلة أتمنى منك حل كراسة

التمارين صفحة 20 ♥

