

تم تحميل هذا الملف من موقع المناهج العُمانية



\* للحصول على أوراق عمل لجميع الصفوف وجميع المواد اضغط هنا

<https://almanahj.com/bh>

\* للحصول على أوراق عمل لجميع مواد الصف الثالث اضغط هنا

<https://almanahj.com/bh/3>

\* للحصول على جميع أوراق الصف الثالث في مادة اجتماعيات ولجميع الفصول, اضغط هنا

<https://almanahj.com/bh/3social>

\* للحصول على أوراق عمل لجميع مواد الصف الثالث في مادة اجتماعيات الخاصة بـ الفصل الثاني اضغط هنا

<https://almanahj.com/bh/3social2>

\* لتحميل كتب جميع المواد في جميع الفصول للـ الصف الثالث اضغط هنا

<https://almanahj.com/bh/grade3>

---

\* لتحميل جميع ملفات المدرس هدى لبيب اضغط هنا

للتحدث إلى بوت على تلغرام: اضغط هنا

[https://t.me/omcourse\\_bot](https://t.me/omcourse_bot)

# مذكرة الإجتماعيات و الموهابنة للسف الثالث الإبتدائى

العام الدراسى ٢٠١١-٢٠١٢ م  
الفصل الدراسى الثانى  
أهدى لى لىب



الإسم:

\_\_\_\_\_

الشعبة:

\_\_\_\_\_

## جدول متابعة أوراق العمل في مادة الاجتماعيات للعام الدراسي 2010 – 2011

م	اسم الدرس	التاريخ	الملاحظات	الدرجة الكلية ( 20 )
1	من صناعات بلادي الألومنيوم			
2	العمل وتحصيل المال			
3	تراث بلادي الوطني			
4	المحافظة على البيئة			
5	الآثار تساعدنا على دراسة التاريخ			
6	تطور الزراعة - 1			
7	تطور الزراعة - 2			
8	تطور وسائل النقل في البر			
9	تطور وسائل النقل في البحر			
10	تطور وسائل النقل في الجو			

# ملاحظات هامة



- سوف يتم التنويه عن ورقة العمل المطلوب حلها من خلال الخطة الأسبوعية .
- يرجى الاهتمام بنظافة و تنسيق المذكرة حتى لا تحرم الطالبة من الدرجة الخاصة بالتنسيق والترتيب .
- يستخدم الحبر الأزرق فقط في حل أوراق العمل ويمنع استخدام أي لون آخر وكذلك يمنع استخدام القلم الرصاص .
- يمنع على الطالبة كتابة أي شئ أو تعديل الدرجة في الجدول الخاص بمتابعة المذكرة .
- في حالة كتابة ملاحظات من جانب ولي الأمر يرجى كتابتها في خانة الملاحظات أو إرفاق رسالة مع المذكرة .
- المذكرة لا تغني عن الكتاب المدرسي وإنما هي مكمل له حيث تكون المذاكرة بالدرجة الأولى من الكتاب المدرسي .
- الاهتمام بالخرائط والرسوم والمستندات المرفقة بالدرس في الكتاب المدرسي سواء في الاجتماعيات أو المواطنة .



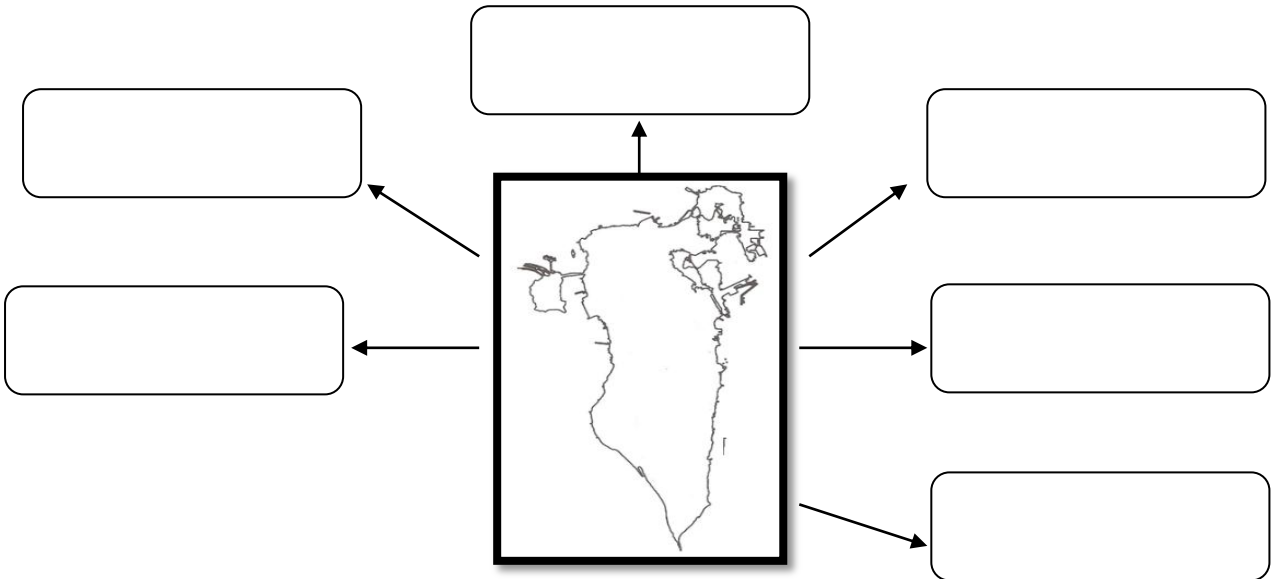


المادة : الإجتماعيات  
ورقة عمل رقم (1) لدرس : من صناعات بلادي الألومنيوم

**1. أكمل ما يأتي :**

1. المواد التي نجدها في الطبيعة كالمعادن والنفط والخشب ويتم تحويلها إلى مصنوعات هي .....
2. عملية شراء البضائع من دول أخرى تعرف بـ .....
3. عملية بيع البضائع إلى دول أخرى تعرف بـ .....
4. من المواد الأولية التي نجدها في الطبيعة ..... و .....
5. المادة الأولية التي يصنع منها الألومنيوم هي .....
6. تشتري مملكة البحرين مادة البوكسيت من .....
7. من الأشياء التي نصنعها من الألومنيوم ..... و .....
8. المصنع الذي يقوم بإنتاج الألومنيوم في مملكة البحرين هو مصنع .....
9. يتألف مصنع ألبا من .....
10. يعمل في مصنع ألبا عدد كبير من العمال .....
11. لتوليد الكهرباء التي تدير آلات مصنع ألبا فإننا نعتمد على .....
12. يبيع مصنع ألبا قسما" من إنتاج الألومنيوم لدول أخرى مثل ..... و ..... و .....
13. يحقق إنتاج الألومنيوم لمملكة البحرين أرباحا" يستفاد منها في .....

**2. اكتب في المستطيلات الفارغة اسماء الدول التي تصدر لها البحرين الألومنيوم:**





المادة : الإجتماعيات  
ورقة عمل رقم (2) لدرس : العمل وتحصيل المال

**1. ضعي المصطلحات التالية في أماكنها المناسبة فيما يلي :**

**الخدمات - المستهلكون - المنتجون - الأيدي العاملة**

1. الذين يعملون في الزراعة والصناعة والخدمات هم .....
2. الأعمال التي يقوم بها بعض الناس من أجل بعضهم الآخر لقاء اجر هي .....
3. الذين يعملون لتوفير ما يلزم لسد حاجاتنا والذين يقومون بخدمات لنا هم .....
4. الذين يشترون السلع أو يستفيدون من الخدمات هم .....

**2. أكملی ما يأتي :**

1. يأتي الإنسان بالمال عن طريق .....
2. العمل ضروري لبناء .....
3. المجالات التي يعمل فيها الناس هي ..... و..... و.....
4. من أمثلة العاملين في الخدمات ..... و..... و.....
5. الناس الذين ينتجون البضائع والناس الذين يقدمون الخدمات نسميهم .....
6. الناس الذين يشترون البضائع والناس الذين يستفيدون من الخدمات نسميهم .....
7. الخباز أحمد يصنع الخبز ويبيعه للناس ، لذلك يعتبر الخباز أحمد .....
8. الطبيب عامر الذي يشتري الخبز من الخباز أحمد يعتبر .....
9. يمكن للإنسان أن يكون منتجا" و ..... في آن واحد .

**3. أجيبی عن الأسئلة التالية :**

- هل يمكن أن يكون الإنسان منتجا" ومستهلكا" في آن واحد ؟ هاتِ مثلا" على ذلك ؟

.....

.....

.....

#### 4. أصنف الأعمال الآتية حسب الجدول :



صانع النحاس – الحلاق – رجل يشتري الخبز – المريض  
معلم يشرح للتلاميذ – ولد يأكل فطيرة – مزارع – فتاة تشتري ملابس

المنتج	المستهلك
.....	.....
.....	.....
.....	.....
.....	.....

#### 5. حددي اسم المنتج والمستهلك من الجمل التالية :

المستهلك	المنتج	الجملة
.....	.....	1 - النجار أحمد يصنع كرسيًا للتاجر خليل
.....	.....	2 - التلميذ سالم يستمع إلى شرح المعلم حمد
.....	.....	3 - المهندس يوسف يصمم خريطة لبيت الطيار إبراهيم
.....	.....	4 - البائع عمر يبيع الخضار للحداد خالد
.....	.....	5 - المريض علي يتعالج عند الطبيب خليفة





## المادة : الإجتماعيات

### ورقة عمل رقم (3) لدرس : تراث بلادي الوطني

#### 1. أجيب عن الأسئلة التالية :

1. ماذا نظمت مدرسة دانة بمناسبة الاحتفال باليوم الوطني ؟

.....

2. ما دور المملكة في الحفاظ على التراث الوطني ؟

..... (1)

..... (2)

3. ما دورك في الحفاظ على تراث البحرين ؟

.....

.....

#### 2. أكمل الجدول التالي :

❖ من الملابس الشعبية الرجالية :	❖ من الملابس الشعبية النسائية :
..... 1	..... 1
..... 2	..... 2
..... 3	..... 3
..... 4	..... 4
❖ من الأدوات المنزلية القديمة :	❖ من الألعاب الشعبية :
..... 1	..... 1
..... 2	..... 2
..... 3	..... 3
..... 4	..... 4



المادة : الإجتماعيات  
ورقة عمل رقم (4) لدرس : ملف المحافظة على البيئة

أجيبى عن الأسئلة التالية :

1. عرفى التلوث ؟



2. ما أثر التلوث على صحة الإنسان ؟



3. ما هي مصادر تلوث الهواء ؟



4. أي المناطق يكون الهواء فيها أكثر تلوثا ؟




5. ما هي مصادر تلوث المياه ؟



6. لا يؤثر التلوث على الإنسان فقط وإنما يتأثر بالتلوث أيضا :



6. برأيك ماذا يجب أن نفعل لنحافظ على البيئة ؟





المادة : الإجتماعيات  
ورقة عمل رقم (5) لدرس : الآثار تساعدنا على دراسة التاريخ

**1. ضعي المصطلحات التالية في أماكنها المناسبة :**

الآثار - علماء الآثار - الحفريات - التنقيب

المصطلح	التعريف
-----	هي بقايا العمران والأدوات التي خلفتها الشعوب القديمة
-----	هي عملية البحث عن الآثار المطمورة في الأرض
-----	هي أعمال الحفر في الأرض بحثاً عما تحويه من آثار
-----	هم الأفراد الذين يشرفون على أعمال الحفريات

**2. أجبني عن الأسئلة التالية :**

1. على أي شئ نعتد في دراسة التاريخ ؟

2. على ماذا تساعدنا الآثار ؟

3. أين تعرض الآثار ؟

4. اذكر أمثلة لبعض آثار مملكة البحرين الموجودة فوق سطح الأرض ؟



5. اذكر أمثلة لبعض الآثار التي يتم العثور عليها خلال الحفريات ؟

- 1 - .....  
2 - .....  
3 - .....  
4 - .....  
5 - .....

6. اذكر المراحل التي تمر بها الآثار حتى تصل إلى المتاحف ؟

- 1 - .....  
2 - .....  
3 - .....

3. اقرئ المستند التالي ثم أجيب عن الأسئلة التي تليه :

عندما عازمت البحرين على إنشاء مدينة حمد عثر أحد العاملين أثناء حفر الأرض على جرة فخارية بها نقود معدنية يعود تاريخها إلى آلاف السنين فأخذها ليحتفظ بها في منزله .

1. ما رأيك في تصرف الرجل ؟

.....

2. لو كنت مكان هذا الرجل كيف ستتصرفين ؟ ولماذا ؟

.....

.....

.....

3. لماذا تخصص مملكة البحرين مكاناً للآثار ؟

.....

.....





المادة : الإجتماعيات  
ورقة عمل رقم (6) لدرس : تطور الزراعة - 1

**1. ضعي المصطلحات التالية في أماكنها المناسبة :**

دجن - الشادوف - القناة

المصطلح	التعريف
-----	هي مجرى للمياه يحفره الإنسان .
-----	هو آلة لرفع المياه من مجرى النهر إلى قناة الري .
-----	روض الحيوانات المتوحشة وحولها إلى حيوانات داجنة تألف العيش مع الإنسان

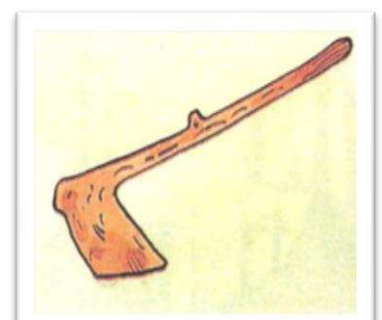
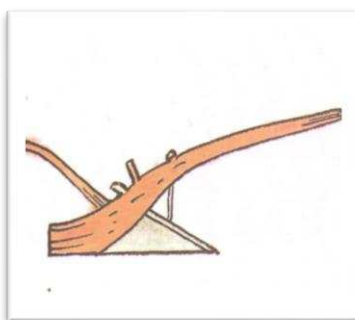

**2. أجيبى عن الأسئلة التالية :**

1. بماذا كان الإنسان الأول يتغذى ؟

- 1

- 2

2. سمي الأدوات التي استعملها الإنسان لحفر الأرض وزراعتها ؟




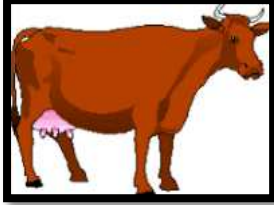
3. أين كانت بداية الزراعة ؟



- 1

- 2

4. من الحيوانات التي استعان بها الإنسان لجر المحراث :



5. سمي بعض الوسائل التي استخدمها الإنسان لري مزروعاته ؟



**3. على ما يأتي :**

1. تدجين الإنسان للحيوانات .

2. شق الإنسان القنوات .

3. استخدام الإنسان للشادوف .

4. بداية الزراعة كانت في وادي النيل بمصر وفي بلاد ما بين النهرين في العراق .

- 2

- 1



المادة : الإجتماعيات  
ورقة عمل رقم (7) لدرس : تطور الزراعة - 2

**1. ضعي المصطلحات التالية في أماكنها المناسبة :**

الزراعة المحمية - السدود - الأسمدة الكيماوية

المصطلح	التعريف
-----	هي حواجز يقيمها الإنسان عند مجاري الأنهار والسواقي لحصر مياهها .
-----	هي زراعة تتم في بيوت بلاستيكية مكيفة تحمي المزروعات من تبدلات الطقس .
-----	هي مواد كالبوتاس والفوسفات ترش على التربة الزراعية لزيادة المحاصيل .

**2. عللي ما يأتي :**

1. ابتكر الإنسان طريقة الري بالرش .

2. يستخدم المزارع الأسمدة الكيماوية .

3. أصبح الإنسان الآن أكثر قدرة على سد حاجاته الغذائية .

### 3. أجيب عن الأسئلة التالية :

1 . ماذا يستخدم الإنسان اليوم لحراثة الأرض ؟

2. كيف طور الإنسان وسائل الري ؟

- 1

- 2

- 3

3. سمى بعض من المنتجات التي تؤمنها لنا المزارع الحديثة ؟



### 4. أكمل ما يأتي :

1. يستخدم الإنسان اليوم لحراثة الأرض .....

2. يستخدم الإنسان اليوم للبذار والحصاد .....

3. واصل الإنسان تطوير وسائل الري فبنى .....

4. ضخ الإنسان المياه إلى مسافات بعيدة مستخدماً .....

5. لكي نقتصد في الري فإننا نتبع طريقة الري بـ .....

6. استخدم الإنسان لزيادة المحاصيل الزراعية .....

7. تربي الحيوانات والطيور اليوم في .....

8. تؤمن لنا المزارع الحديثة .....

و

و





المادة : الإجتماعيات  
ورقة عمل رقم (8) لدرس : تطور وسائل النقل في البر

1. أجبني عن الأسئلة التالية :

1. كيف كان يتنقل الإنسان منذ آلاف السنين ؟

---

---

2. ما أهمية تدجين بعض الحيوانات في تطور وسائل النقل ؟

---

---

3. اشرحي أهمية اختراع العجلة في تطور وسائل النقل ؟

---

---

4. عرفني المحرك البخاري ؟

---

---

5. ما دور المحرك البخاري في تطور وسائل النقل ؟

---

---

6. بواسطة أي محرك تعمل السيارة ؟

---

---



7. ما القوة التي تسير بها القطارات السريعة اليوم ؟

---

---

8. ماذا فعل الإنسان لكي تسير السيارات بسهولة ؟

1.

2.

## 2. أكمل ما يأتي :

1- كان الإنسان منذ آلاف السنين يتنقل سيراً على .....

2. دجن الإنسان بعض الحيوانات كالجمال والحمار و استخدمها في .....

3. اخترع الإنسان العجلة ثم صنع .....

4. استخدم الإنسان بعض الحيوانات التي دجنها في جر .....

5. يسير القطار على خطوط .....

6. اخترع عالم فرنسي المحرك الذي يعمل باحتراق البنزين واستخدمه في تسيير .....

7. اكتشف الإنسان أن لبخار الماء قوة يمكن استخدامها ك .....

8. بعد مرور حوالي مئة سنة على اختراع المحرك البخاري اكتشف الإنسان قوة .....

9. شق الإنسان الطرقات وبنى الجسور لتسير عليها .....





المادة : الإجتماعيات  
ورقة عمل رقم (9) لدرس : تطور وسائل النقل في البحر

**1. ضعي المصطلحات التالية في أماكنها المناسبة :**

الدفة - المجداف - الشراع

المصطلح	التعريف
-----	هو ذراع خشبية تستخدم لتسيير الزورق في الماء .
-----	قطعة من القماش أو الجلد ترفع على الساري وتساعد على دفع المركب بواسطة الرياح
-----	قطعة من الخشب أو المعدن تثبت في مؤخرة المركب وتساعد على توجيهه إلى الجهة التي يريد بها الربان .

**1. أجبني عن الأسئلة التالية :**

1. ما أول وسيلة استخدمها الإنسان للتنقل في البحر والنهر ؟

.....

.....

2. اشرحي دور الشراع في تطور وسائل النقل ؟

.....

.....

3. ماذا أقام الإنسان عند شواطئ البحار ؟

.....

.....

## 2. على ما يأتي :

1. صنع الإنسان البوصلة .



2. سميت البواخر بهذا الاسم .

## 3. أكمل ما يأتي :

1. جوف الإنسان جذع الشجرة وحوله إلى .....

2. اخترع الإنسان الدفة واستخدمها في توجيه .....

3. لمعرفة الاتجاهات في البحر اخترع الإنسان .....

4. أقام الإنسان عند الشواطئ لبناء السفن وإصلاحها .....

5. أقام الإنسان عند الشواطئ لإستقبال السفن والمراكب .....

6. لبناء و إصلاح السفن في البحرين تم إنشاء الحوض .....

7. استعان الإنسان القديم بجذوع الأشجار وفروعها كوسيلة للتنقل في .....

8. لتحريك المركب البسيط استخدم الإنسان قطعة من الخشب تسمى .....

9. استخدم الإنسان المحرك البخاري لتسيير السفن وأطلق على هذه السفن اسم .....

10. اخترع الإنسان الشراع من الجلد والقماش وثبته على الزورق فحصل على المركب .....





المادة : الإجتماعيات  
ورقة عمل رقم (10) لدرس : تطور وسائل النقل في الجو

1. أجبني عن الأسئلة التالية :

1. من هو العربي الذي قام بأول محاولة طيران في التاريخ ؟



2. متى بدأ عصر الطيران ؟

3. لماذا أنشئت المطارات ؟

4. ما اسم أسرع طائرة ركاب في العالم ؟

5 - أكمل ما يأتي :

1. العربي الذي قام بأول محاولة للطيران في التاريخ هو .....

2. أسرع طائرة في العالم هي طائرة .....

3. صنع الإنسان أول طائرة ارتفعت بضعة أمتار في الجو في عام .....

4. في عام 1909 استطاع الإنسان أن يصنع طائرة تمكن سائقها أن يطير بها من فرنسا إلى .....

5. في عام 1927 صنعت أول طائرة تعبر المحيط الأطلسي بين بريطانيا و .....

6. في عام 1936 صنعت أول طائرة لنقل الركاب حيث نقلت لأول مرة ..... راكبا

## 6. رتبي مراحل تطور وسائل النقل في البرمن الأقدم إلى الأحدث :

اختراع المحرك البخاري – السير على الأقدام – اختراع العجلة وصنع العربة –  
استخدام الحيوانات كالحصان للركوب – اختراع المحرك الذي يعمل باحتراق البنزين

-1

-2

-3

-4

-5

## 7. رتبي مراحل تطور وسائل النقل في الجو من الأقدم إلى الأحدث بوضع الرقم المناسب بجانب العبارة :

استخدام المحرك الذي يعمل باحتراق البنزين في السفن السريعة

الاستعانة بجذوع الأشجار للتنقل في مياه النهر

ثبت الإنسان الشراع على الزورق فحصل على مركب شراعي

تجفيف جذع الشجرة وتحويله إلى مركب بسيط

استخدم الإنسان المحرك البخاري لتسيير البواخر

## 8. رتبي مراحل تطور وسائل النقل في الجو من الأقدم إلى الأحدث بوضع الرقم المناسب بجانب العبارة :

في عام 1927 صنعت طائرة عبرت المحيط الأطلسي بين بريطانيا والولايات المتحدة .

في عام 1936 صنعت أول طائرة لنقل الركاب في الولايات المتحدة نقلت 21 راكبا .

في عام 1900 صنعت أول طائرة ارتفعت بضعة أمتار في الجو .

قام عباس بن فرناس بأول محاولة للطيران .

في عام 1909 صنع الإنسان طائرة سافر بها من فرنسا إلى بريطانيا .



مع تمنياتي للجميع بالنجاح والتفوق