

تم تحميل هذا الملف من موقع المناهج البحرينية



مذكرة الرياضيات

موقع المناهج ← المناهج البحرينية ← الصف الثالث ← رياضيات ← الفصل الأول ← مذكرات وبنوك ← الملف

تاريخ إضافة الملف على موقع المناهج: 2024-10-29 18:45:12

ملفات اكتب للمعلم اكتب للطالب | اختبارات الكترونية | اختبارات | حلول | عروض بوربوينت | أوراق عمل
منهج انجليزي | ملخصات و تقارير | مذكرات وبنوك | الامتحان النهائي للمدرس

المزيد من مادة
رياضيات:

التواصل الاجتماعي بحسب الصف الثالث



صفحة المناهج
البحرينية على
فيسبوك

الرياضيات

اللغة الانجليزية

اللغة العربية

التربية الاسلامية

المواد على تلغرام

المزيد من الملفات بحسب الصف الثالث والمادة رياضيات في الفصل الأول

مذكرة رياضيات	1
كتاب الطالب كتاب التمارين	2
الاختبار التشخيصي في مادة الرياضيات	3
اختبار تشخيصي	4
اختبار تشخيصي	5

الاسم:	مذكرة - أ. توفيق علي	مملكة البحرين
الصف:/.....	تقويمي	وزارة التربية والتعليم
التاريخ:/...../..... م	إثرائي	مدرسة اليرموك الابتدائية للبنين
	علاجي	
	تدريبي	

مذكرة في مادة الرياضيات

الصف الثالث

الفصل الثالث

الطرح

متابعة 📖	★ جيد	★★ جيد جدا	★★★ ممتاز	تقدير مستوى الأداء:
.....				ملاحظات المعلم:
توقيع ولي الأمر:				

الاسم:	مذكرة - أ. توفيق علي	مملكة البحرين
الصف:/.....	تقويمي	وزارة التربية والتعليم
التاريخ:/...../..... م	إثرائي	مدرسة اليرموك الابتدائية للبنين
	علاجي	
	تدريبي	

في الكيس ٢٦ علبة عصير ، ٨ علب منها بطعم الليمون ، ما عدد العلب بالطعوم الاخرى .

الحل

.....

.....

.....

.....

.....

.....

.....




.....




.....




متابعة	★ جيد	★★ جيد جدا	★★★ ممتاز	تقدير مستوى الأداء:
.....				ملاحظات المعلم:
توقيع ولي الأمر:				

الاسم: الصف: / التاريخ: / / م	مذكرة - أ. توفيق علي تدريبي علاجي إثرائي تقويمي	مملكة البحرين وزارة التربية والتعليم مدرسة اليرموك الابتدائية للبنين
---	---	--

قرب كلاً من الأعداد الآتية الى أقرب عشرة ثم أجب عن المسائل

تقدير مستوى الأداء:	*** ممتاز	** جيد جدا	* جيد	👉 متابعة
ملاحظات المعلم:			
توقيع ولي الأمر:				

مذكرة - أ. توفيق علي

مملكة البحرين

وزارة التربية والتعليم

مدرسة اليرموك الابتدائية للبنين

الاسم:

الصف:/.....

التاريخ:/...../..... م

تقويمي

إثرائي

علاجي

تدريبي

قرأت روان كتابا يزيد ٢٤ صفحة على صفحات
كتاب ايمان . اذا حوى كتاب ايمان ١٢ صفحة فما
عدد صفحات كتاب روان ؟

الحل

.....
.....
.....
.....
.....
.....
.....
.....
.....
.....

متابعة

★ جيد

★★ جيد جدا

★★★ ممتاز

تقدير مستوى الأداء:

ملاحظات المعلم:

توقيع ولي الأمر:

الاسم:	مذكرة - أ. توفيق علي	مملكة البحرين
الصف:/.....	تقويمي	وزارة التربية والتعليم
التاريخ:/...../..... م	إثرائي	مدرسة اليرموك الابتدائية للبنين
	علاجي	
	تدريبي	


أوجد ناتج الطرح . ثم تحقق من الإجابة:

.....



١٦٧ - ٥٤٢

.....



١٩٨ - ٣١٧

.....



٦٣٧ - ٨٥٦

تقدير مستوى الأداء:	★★★ ممتاز	★★ جيد جدا	★ جيد	👉 متابعة
ملاحظات المعلم:			
توقيع ولي الأمر:				

مملكة البحرين

وزارة التربية والتعليم

مدرسة اليرموك الابتدائية للبنين

مذكرة - أ. توفيق علي

تدريبي

علاجي

إثرائي

تقويمي

الاسم:

الصف:/.....

التاريخ:/...../..... م

أجد الناتج مع خطوات الحل:

$216 + 400$

$226 - 300$

$317 - 500$

$216 - 400$

$334 - 400$

$286 - 433$

متابعة

★ جيد

★★ جيد جدا

★★★ ممتاز

تقدير مستوى الأداء:

ملاحظات المعلم:

توقيع ولي الأمر:

معلم الصف: أ. توفيق علي حسين

مذكرة - أ. توفيق علي

مملكة البحرين

وزارة التربية والتعليم

مدرسة اليرموك الابتدائية للبنين

تدريبي

علاجي

إثرائي

تقويمي

الاسم:

الصف:/.....

التاريخ:/...../..... م

يحتاج طاهر الى جمع ٢٢٥ طابعا تذكاريًا للمشاركة في
معرض المدرسة. فإذا جمع حتى الآن ١٤٧ طابعا ،
فكم طابعا ينقصها؟

الحل

2025 2024

Almanah.com.bh

2025 2024

وزارة التربية والتعليم

متابعة

★ جيد

★★ جيد جدا

★★★ ممتاز

تقدير مستوى الأداء:

ملاحظات المعلم:

توقيع ولي الأمر:

أوجد ناتج الطرح ، ثم تحقق من إجابتك :

$$\underline{\quad\quad} = ١٩-٣٨$$

$$\underline{\quad\quad} = ٢١-٤٣$$

$$\underline{\quad\quad} = ٢٨-٣٧$$

قَدِّر ناتج الطرح باستعمال التقريب ، إلى أقرب عشرة ، ثم إلى أقرب مئة :

ناتج الطرح بالتقريب إلى أقرب مئة	ناتج الطرح بالتقريب إلى أقرب عشرة	
		$= ٢٣-١٧٦$

اشترى قاسم ٤٤ قلم ، زرقاء وحمراء اللون ، له وزملائه في الصف ، فإذا كان عدد الأقلام الحمراء ١٨ قلم ، فما هو عدد الأقلام الزرقاء ؟

اكتب الرقم المناسب في الفراغات التالية :

$$١٦٢ = ٢٧٣ - \square$$

$$\square = ١٢٦ - ٢٦١$$

$$٣٧٣ = \square - ٦٤٦$$

ضع دائرة حول جملة الطرح الخاطئة :

$$٧٧١ = ١٧٥ - ٩٤٦$$

$$٨٠٥ = ٤٦ - ٨٥١$$

$$٤١ = ٦٥ - ١٠٨$$

حدد أي العمليتين أنسب (الجمع أم الطرح) لحل كل من المسائل الآتية :

وزَّع عميد الجامعة ٣٦٩ بطاقة دعوة لحضور حفل تخريج الدفعة ٢٠ للجامعة . فإذا كان عدد المقاعد في قاعة الحفل ٩٠٠ مقعد ، فما عدد المقاعد المتبقية ؟

متابعة

★ جيد

★★ جيد جدا

★★★ ممتاز

تقدير مستوى الأداء:

ملاحظات المعلم:

توقيع ولي الأمر:

مذكرة - أ. توفيق علي

مملكة البحرين

وزارة التربية والتعليم

مدرسة اليرموك الابتدائية للبنين

الاسم:

الصف:/.....

التاريخ:/...../..... م

تقويمي

إثرائي

علاجي

تدريبي

أجد ناتج الطرح :

$\begin{array}{r} 379 \\ - 175 \\ \hline \end{array}$	$\begin{array}{r} 78 \\ - 25 \\ \hline \end{array}$	$\begin{array}{r} 49 \\ - 6 \\ \hline \end{array}$
$\begin{array}{r} 865 \\ - 175 \\ \hline \end{array}$	$\begin{array}{r} 98 \\ - 25 \\ \hline \end{array}$	$\begin{array}{r} 56 \\ - 6 \\ \hline \end{array}$

$\underline{\hspace{2cm}} = 56 - 34$	$\underline{\hspace{2cm}} = 244 - 244$
--------------------------------------	--

تقدير مستوى الأداء:	★★★ ممتاز	★★ جيد جدا	★ جيد	👉 متابعة
ملاحظات المعلم:			
توقيع ولي الأمر:				

مملكة البحرين

وزارة التربية والتعليم

مدرسة اليرموك الابتدائية للبنين

مذكرة - أ. توفيق علي

تدريبي

علاجي

إثرائي

تقويمي

الاسم:

الصف:/.....

التاريخ:/...../..... م

$\begin{array}{r} 456 \\ - 112 \\ \hline \end{array}$	$\begin{array}{r} 23 \\ - 12 \\ \hline \end{array}$	$\begin{array}{r} 98 \\ - 6 \\ \hline \end{array}$
$\begin{array}{r} 765 \\ - 321 \\ \hline \end{array}$	$\begin{array}{r} 65 \\ - 23 \\ \hline \end{array}$	$\begin{array}{r} 43 \\ - 2 \\ \hline \end{array}$

$\underline{\hspace{2cm}} = 32 - 12$	$\underline{\hspace{2cm}} = 122 - 233$
--------------------------------------	--

متابعة	★ جيد	★★ جيد جدا	★★★ ممتاز	تقدير مستوى الأداء:
.....				ملاحظات المعلم:
توقيع ولي الأمر:				

معلم الصف: أ. توفيق علي حسين

مذكرة - أ. توفيق علي

مملكة البحرين

وزارة التربية والتعليم

مدرسة اليرموك الابتدائية للبنين

الاسم:

الصف:/.....

التاريخ:/...../..... م

تقويمي

إثرائي

علاجي

تدريبي

٤٠٠

١٤٣

٥٠٠

١٦٥

١٠٠

٥٠

٣٤ - ٢١ =

٥٦٧ - ٢٣٣ =

٢٠٠

١٢٥

٥٠٠

١٤٥

٨٠٠

٥٠

متابعة

★ جيد

★★ جيد جدا

★★★ ممتاز

تقدير مستوى الأداء:

ملاحظات المعلم:

توقيع ولي الأمر:

معلم الصف: أ. توفيق علي حسين

الاسم: الصف: / التاريخ: / / م	مذكرة - أ. توفيق علي <div style="display: flex; justify-content: space-around; align-items: center;"> <div style="border: 2px solid black; border-radius: 15px; padding: 5px; text-align: center;">تقويمي</div> <div style="border: 2px solid black; border-radius: 15px; padding: 5px; text-align: center;">إثرائي</div> <div style="border: 2px solid black; border-radius: 15px; padding: 5px; text-align: center;">علاجي</div> <div style="background-color: #FFD700; border: 2px solid black; border-radius: 15px; padding: 5px; text-align: center;">تدريبي</div> </div>	مملكة البحرين وزارة التربية والتعليم مدرسة اليرموك الابتدائية للبنين
---	--	--

أقدر ناتج الطرح باستعمال التقريب :

تقدير ناتج الجمع	المسألة
←	68
- ←	41 -
_____	_____
□	

تقدير ناتج الجمع	المسألة
←	67
- ←	33 -
_____	_____
□	

متابعة 📖	★ جيد	★★ جيد جدا	★★★ ممتاز	تقدير مستوى الأداء:
.....				ملاحظات المعلم:
توقيع ولي الأمر:				

الاسم :	مذكرة - أ. توفيق علي	مملكة البحرين			
الصف :/.....		تقويمي	إثرائي	علاجي	تدريبي
التاريخ : / / م		وزارة التربية والتعليم مدرسة اليرموك الابتدائية للبنين			

أحل المسائل التالية :

عند منى ٣٨ ورقة صفراء ، و١٦ ورقة خضراء . فكم يزيد عدد الأوراق الصفراء عن عدد الأوراق الخضراء ؟

.....

اشترى خالد ٢٨٨ قلمًا ، أعطى أخته فاطمة ٥٠ قلمًا ، فكم قلمًا تبقى عند خالد ؟

.....

في مدرسة اليرموك ٥٦٠ تلميذًا، وفي مدرسة الرازي ٥٣٢ تلميذًا، فما الفرق بين عدد التلاميذ في المدرستين؟

.....

إذا كان عند أحمد ٣٥ هدية، وأعطى أصدقاءه ٢٧ هدية، فكم هدية بقيت عنده؟

.....

تقدير مستوى الأداء:	*** ممتاز	** جيد جدا	* جيد	متابعة
ملاحظات المعلم:			
توقيع ولي الأمر:				

الاسم: الصف: / التاريخ: / / م	مذكرة - أ. توفيق علي تدريبي علاجي إثرائي تقويمي	مملكة البحرين وزارة التربية والتعليم مدرسة اليرموك الابتدائية للبنين
---	---	--

أجد ناتج الطرح:

$\begin{array}{r} 500 \\ 400 _ \\ \hline \end{array}$	$\begin{array}{r} 638 \\ 345 _ \\ \hline \end{array}$	$\begin{array}{r} 342 \\ 213 _ \\ \hline \end{array}$
$\begin{array}{r} 634 \\ 244 _ \\ \hline \end{array}$	$\begin{array}{r} 735 \\ 735 _ \\ \hline \end{array}$	$\begin{array}{r} 364 \\ 65 _ \\ \hline \end{array}$

أقدر ناتج الطرح بالتقريب لأقرب مئة:

$\begin{array}{r} 560 \\ 333 _ \\ \hline \end{array}$	$\begin{array}{r} 456 \\ 272 _ \\ \hline \end{array}$
$\begin{array}{r} 567 \\ 234 _ \\ \hline \end{array}$	$\begin{array}{r} 677 \\ 323 _ \\ \hline \end{array}$

متابعة	★ جيد	★★ جيد جدا	★★★ ممتاز	تقدير مستوى الأداء:
.....				ملاحظات المعلم:
توقيع ولي الأمر:				

الاسم: الصف: / التاريخ: / / م	مذكرة - أ. توفيق علي <div style="display: flex; justify-content: space-around; align-items: center;"> <div style="border: 2px solid black; border-radius: 15px; padding: 5px; text-align: center;">تقويمي</div> <div style="border: 2px solid black; border-radius: 15px; padding: 5px; text-align: center;">إثرائي</div> <div style="border: 2px solid black; border-radius: 15px; padding: 5px; text-align: center;">علاجي</div> <div style="background-color: #FFD700; border: 2px solid black; border-radius: 15px; padding: 5px; text-align: center;">تدريبي</div> </div>	مملكة البحرين وزارة التربية والتعليم مدرسة اليرموك الابتدائية للبنين
---	--	--

أجد ناتج الطرح :

$\begin{array}{r} 17 \\ - 9 \\ \hline \end{array}$	$\begin{array}{r} 15 \\ - 10 \\ \hline \end{array}$	$\begin{array}{r} 13 \\ - 8 \\ \hline \end{array}$
$\begin{array}{r} 63 \\ - 23 \\ \hline \end{array}$	$\begin{array}{r} 70 \\ - 50 \\ \hline \end{array}$	$\begin{array}{r} 30 \\ - 20 \\ \hline \end{array}$

أقدر ناتج الطرح بالتقريب لأقرب مئة:

$\begin{array}{r} 710 \\ - 290 \\ \hline \end{array}$	$\begin{array}{r} 382 \\ - 314 \\ \hline \end{array}$
$\begin{array}{r} 677 \\ - 126 \\ \hline \end{array}$	$\begin{array}{r} 567 \\ - 234 \\ \hline \end{array}$

متابعة 📖	★ جيد	★★ جيد جدا	★★★ ممتاز	تقدير مستوى الأداء:
.....				ملاحظات المعلم:
توقيع ولي الأمر:				

مملكة البحرين

وزارة التربية والتعليم

مدرسة اليرموك الابتدائية للبنين

مذكرة - أ. توفيق علي

تدريبي

علاجي

إثرائي

تقويمي

الاسم:

الصف: /

التاريخ: / / م

أوجد الناتج المضبوط والمقدر (لأقرب عشرة) لكل من المسائل التالية:

٧١

← ١٢ -

٩٠

← ٣٩ -

٨٣

← ٦٨ -

٥٢

← ٣ -

□ = ٢٥ - ٥٩

□ = -

□ = ٨٤ - ١٦

□ = -

□ = ١٠ - ٨١

□ = -

أوجد الناتج المضبوط والمقدر (لأقرب مئة) لكل من المسائل التالية:

٦٠١

← ١٩٥ -

٧٠٠

← ٥٩٣ -

٥٦١

← ١١٧ -

□ = ٣٤٧ - ٥٠٢

□ = -

□ = ٩٢ - ٨٠٠

□ = -

□ = ٢٣٦ - ٤٤٤

□ = -

متابعة

★ جيد

★★ جيد جدا

★★★ ممتاز

تقدير مستوى الأداء:

ملاحظات المعلم:

توقيع ولي الأمر:

معلم الصف: أ. توفيق علي حسين

مملكة البحرين

وزارة التربية والتعليم

مدرسة اليرموك الابتدائية للبنين

مذكرة - أ. توفيق علي

تدريبي

علاجي

إثرائي

تقويمي

الاسم:
الصف: /
التاريخ: / / م

حل المسائل التالية :

أ- اقرأ حيدر كتابًا يحوي ٣٠٠ صفحة . فإذا قرأ منها ١٩٩ صفحة ، فكم صفحة لم يقرأها حيدر؟

ب- باستخدام الجدول المجاور حل المسائل التالية:

١- ما الفرق بين عدد المتاجر في قرية سترة و قرية كرزكان؟

٢- ما مجموع عدد المتاجر في قريتي جد حفص وكرزكان؟

٣- كم يزيد عدد المتاجر في قرية جد حفص على عدد المتاجر في قرية باربار؟

عدد المتاجر	القرية
٣٩٩	كرزكان
٨١٦	سترة
٥٠٠	جدحفص
١٦٥	باربار

ج- مع حسين ٣٢٦ طابعًا بريديًا ، ومع هادي ٥٠٠ طابعًا بريديًا ، فما الفرق بين ما معهما من طوابع؟

د- الجدول التالي يبين عدد بعض الحيوانات في محمية العرين:

١- بكم يزيد عدد الغزلان على عدد النعامات؟

٢- ما مجموع عدد طائر الكركي وعدد الغزلان؟

الحيوان	العدد
غزال	٢٠١
طائر الكركي	٦٧
نعامة	٥٩

متابعة

★ جيد

★★ جيد جدا

★★★ ممتاز

تقدير مستوى الأداء:

ملاحظات المعلم:

توقيع ولي الأمر:

الاسم: الصف: / التاريخ: / / م	مذكرة - أ. توفيق علي <div style="display: flex; justify-content: space-around; align-items: center;"> <div style="border: 2px solid black; border-radius: 15px; padding: 5px; text-align: center;">تقويمي</div> <div style="border: 2px solid black; border-radius: 15px; padding: 5px; text-align: center;">إثرائي</div> <div style="border: 2px solid black; border-radius: 15px; padding: 5px; text-align: center;">علاجي</div> <div style="background-color: #FFD700; border: 2px solid black; border-radius: 15px; padding: 5px; text-align: center;">تدريبي</div> </div>	مملكة البحرين وزارة التربية والتعليم مدرسة اليرموك الابتدائية للبنين
---	--	--

أقدر ثم أوجد الناتج:

أوجد الناتج

٢٦١

٦٣٩+

٥٦٦

٢٥٠-

أقدر الناتج

٢٦١

٦٣٩+

٥٦٦

٢٥٠-

أجب عن المسائل التالية:

اشترى التلميذ محمد فؤاد بعض القصص من المكتبة بمبلغ ٤٧٠٠ فلساً، وبقي معه ١٢٥٠ فلساً، فكم فلساً كان معه؟

.....

مع إسلام ١٠٠٠ بطاقة من ، ومع حسين ٢٧٦٨ بطاقة . ما الفرق بين مامع رائد ومامع حسين؟

.....

متابعة 📖	★ جيد	★★ جيد جداً	★★★ ممتاز	تقدير مستوى الأداء:
				ملاحظات المعلم:
توقيع ولي الأمر:				

الاسم: الصف: / التاريخ: / / م	مذكرة - أ. توفيق علي <div style="display: flex; justify-content: space-around; margin-top: 10px;"> <div style="border: 2px solid black; border-radius: 15px; padding: 5px; background-color: #f0f0f0;">تقويمي</div> <div style="border: 2px solid black; border-radius: 15px; padding: 5px; background-color: #f0f0f0;">إثرائي</div> <div style="border: 2px solid black; border-radius: 15px; padding: 5px; background-color: #f0f0f0;">علاجي</div> <div style="border: 2px solid black; border-radius: 15px; padding: 5px; background-color: #f9e79f;">تدريبي</div> </div>	مملكة البحرين وزارة التربية والتعليم مدرسة اليرموك الابتدائية للبنين
---	--	--

زار عالم فتون ٤٣٢٠ تلميذاً من مدرسة اليرموك ، وزارها في اليوم نفسه ١٧٦٥ تلميذاً من مدرسة سترة. فما الفرق بين المدرستين ؟

.....

اشترى رجل لأولاده ٣ دراجات بمناسبة نجاحهم ، بمبلغ ٨٩ ديناراً ، وكتباً بمبلغ ١٥ ديناراً ، فكم ديناراً دفع الرجل للبائع ؟

.....

مع علي ٨٠٠٠ بطاقة ، ومع أحمد ٥٠٩٠ بطاقة . ما الفرق بين ما مع علي وما مع أحمد .

.....

إذا كان راتب عمار الشهري هو ٧٠٧ دينار ، وصرف منه ٥٢٨ ديناراً . فهل يكفي المبلغ المتبقي لشراء تلفاز بقيمة ١٩٠ ديناراً ؟ ولماذا ؟

نعم لا لا

المسألة :

مع الأستاذ ياسر ١٨٦ ديناراً . اشترى أدوات كهربائية لمنزله الجديد بمبلغ ٧٥ ديناراً . كم بقي لديه ؟

.....

تقدير مستوى الأداء:	*** ممتاز	** جيد جدا	* جيد	👉 متابعة
ملاحظات المعلم:			
توقيع ولي الأمر:				

مملكة البحرين

وزارة التربية والتعليم

مدرسة اليرموك الابتدائية للبنين

مذكرة - أ. توفيق علي

تدريبي

علاجي

إثرائي

تقويمي

الاسم:

الصف: /

التاريخ: / / م

أوجد ناتج طرح ما يلي :

$$\boxed{} = 48 - 69$$

$$\boxed{} = 60 - 603$$

$$\boxed{} = 181 - 957$$

780

74

665 -

59 -



ضع رمز العملية المناسبة + أو - في

321

46

59

31

654

50

27

48

975

96

32

79

ضع الرمز المناسب < أو > أو = فيما يلي :

23 - 46

23 - 49

94 + 385

124 + 385

600 + 931

600 - 931

294 - 294

294 + 294

متابعة

★ جيد

★★ جيد جدا

★★★ ممتاز

تقدير مستوى الأداء:

ملاحظات المعلم:

توقيع ولي الأمر:

معلم الصف: أ. توفيق علي حسين

مملكة البحرين

وزارة التربية والتعليم

مدرسة اليرموك الابتدائية للبنين

مذكرة - أ. توفيق علي

تدريبي

علاجي

إثرائي

تقويمي

الاسم:

الصف:/.....

التاريخ:/...../..... م

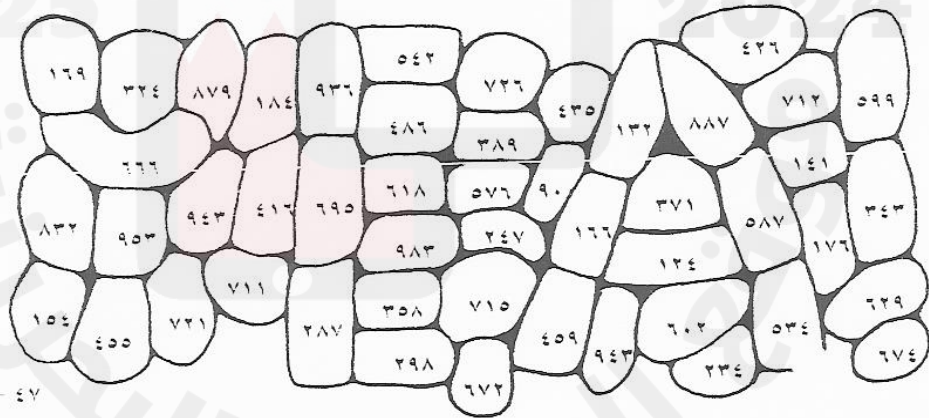
إجمع أو إطرح ، لون الحجارة التي تحمل أجوبتك كي تكتشف الرسالة الخفية .

$$\begin{array}{r} 38 \\ 421 + \\ \hline \end{array} \quad \begin{array}{r} 245 \\ 342 + \\ \hline \end{array} \quad \begin{array}{r} 6 \\ 593 + \\ \hline \end{array} \quad \begin{array}{r} 477 \\ 22 - \\ \hline \end{array} \quad \begin{array}{r} 123 \\ 860 + \\ \hline \end{array}$$

$$\begin{array}{r} 299 \\ 12 \\ \hline \end{array} \quad \begin{array}{r} 345 \\ 542 + \\ \hline \end{array} \quad \begin{array}{r} 564 \\ 221 - \\ \hline \end{array} \quad \begin{array}{r} 623 \\ 256 + \\ \hline \end{array} \quad \begin{array}{r} 745 \\ 203 - \\ \hline \end{array}$$

$$\begin{array}{r} 599 \\ 301 - \\ \hline \end{array} \quad \begin{array}{r} 542 \\ 410 - \\ \hline \end{array} \quad \begin{array}{r} 71 \\ 603 + \\ \hline \end{array} \quad \begin{array}{r} 298 \\ 174 - \\ \hline \end{array} \quad \begin{array}{r} 502 \\ 164 + \\ \hline \end{array}$$

$$\begin{array}{r} 416 \\ 520 - \\ \hline \end{array} \quad \begin{array}{r} 289 \\ 123 - \\ \hline \end{array} \quad \begin{array}{r} 846 \\ 312 - \\ \hline \end{array} \quad \begin{array}{r} 202 \\ 493 + \\ \hline \end{array} \quad \begin{array}{r} 62 \\ 107 + \\ \hline \end{array}$$



- 47

متابعة

★ جيد

★★ جيد جدا

★★★ ممتاز

تقدير مستوى الأداء:

ملاحظات المعلم:

توقيع ولي الأمر:

معلم الصف: أ. توفيق علي حسين

مملكة البحرين

وزارة التربية والتعليم

مدرسة اليرموك الابتدائية للبنين

مذكرة - أ. توفيق علي

تدريبي

علاجي

إثرائي

تقويمي

الاسم:
الصف: /
التاريخ: / / م

اطرح :

عشرات	آحاد
٧	١
٣	٣

عشرات	آحاد
٩	٠
١	٧

عشرات	آحاد
٧	٢
٣	٦

$$\begin{array}{r} ٥٧ \\ - ٢٨ \\ \hline \end{array}$$

$$\begin{array}{r} ٣٠ \\ - ١٥ \\ \hline \end{array}$$

$$\begin{array}{r} ٩٣ \\ - ٥٤ \\ \hline \end{array}$$

$$\begin{array}{r} ٧٥ \\ - ٢٨ \\ \hline \end{array}$$

$$\begin{array}{r} ٢٢ \\ - ١٣ \\ \hline \end{array}$$

$$= ١٧ - ٥٣$$

$$= ١٧ - ٧١$$

$$= ٣٦ - ٤٤$$

- أكمل :

$$= ١٥ - ٤٥$$

$$= ٤٢ + ١٦$$

$$= ٣١ + ٥٨$$

$$= ٧٨ - ٩٩$$

$$= ٢٠ + ١٠$$

$$= ١٥ - ٤٦$$

$$= ٣٠ - ٨٠$$

$$= ٢ + ٤٧$$

$$= ٢١ + ٦٠$$

$$\begin{array}{r} ٤٩ \\ + ١٠ \\ \hline \end{array}$$

$$\begin{array}{r} ٥٨ \\ + ٣٠ \\ \hline \end{array}$$

$$\begin{array}{r} ٢٦ \\ - ١٣ \\ \hline \end{array}$$

$$\begin{array}{r} ٢٤ \\ - ١٢ \\ \hline \end{array}$$

متابعة

★ جيد

★★ جيد جدا

★★★ ممتاز

تقدير مستوى الأداء:

ملاحظات المعلم:

توقيع ولي الأمر: