

تم تحميل هذا الملف من موقع المناهج البحرينية



*للحصول على أوراق عمل لجميع الصفوف وجميع المواد اضغط هنا

<https://almanahj.com/bh>

* للحصول على أوراق عمل لجميع مواد الصف الثالث اضغط هنا

<https://almanahj.com/bh/3>

* للحصول على جميع أوراق الصف الثالث في مادة رياضيات ولجميع الفصول, اضغط هنا

<https://almanahj.com/bh/3>

* للحصول على أوراق عمل لجميع مواد الصف الثالث في مادة رياضيات الخاصة بـ اضغط هنا <https://almanahj.com/bh/3>

* لتحميل كتب جميع المواد في جميع الفصول للـ الصف الثالث اضغط هنا

<https://almanahj.com/bh/grade3>

[almanahjbhbot/me.t//:https](https://t.me/almanahjbhbot)

للتحدث إلى بوت على تلغرام: اضغط هنا

١٠

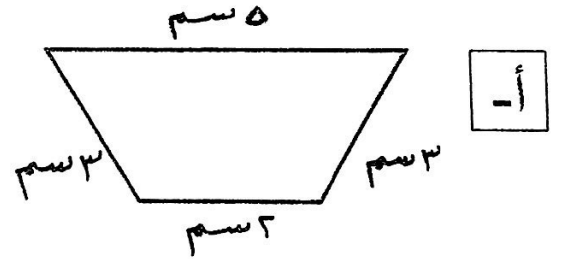
الكفاية التعليمية : تتعامل مع وحدات القياس الأساسية (الطول) .

س ١ : أختار الوحدة المناسبة (مللمتر - سنتمتر - متر - كيلومتر) لقياس كل مما يأتي :

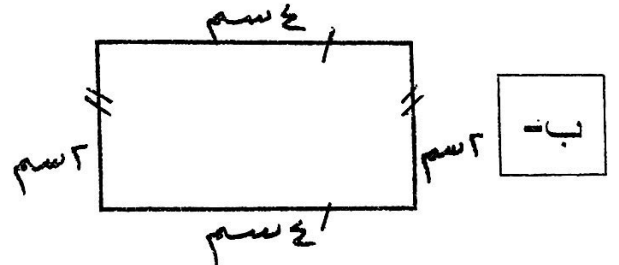
اسم الشيء	اختاري الوحدة المناسبة
طول قلم رصاص	١٥ م
طول حبة أرز	٥ سم
طول الحافلة	٤ م
المسافة بين مدينة حمد والمنامة	٧ كم

س ٢ : أجد محيط كل شكل من الأشكال التالية :

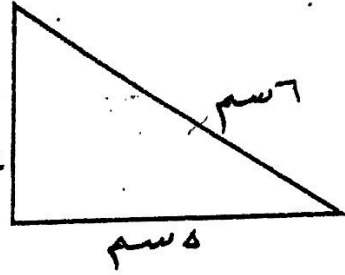
المحيط :



المحيط :



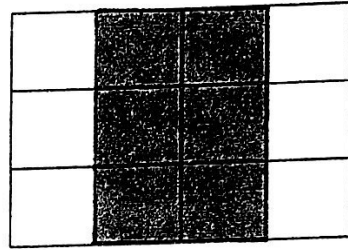
ج -



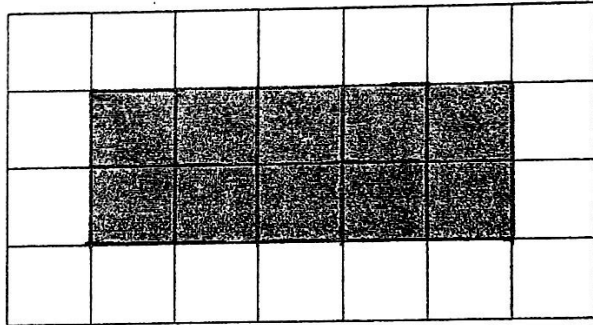
سم المحيط :

س ٣ : أجد المساحة المظلمة لكل شكل من الأشكال التالية :

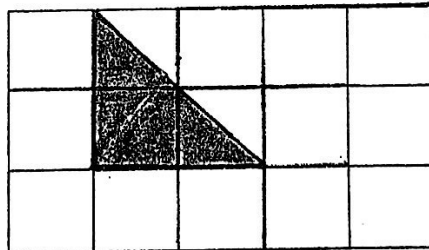
أ -



ب -



ج -



س٤: حلل المسائل التالية:

١- أكمل البناء تبليط الغرفة، فإذا كانت أبعاد الغرفة كما هو مبين في الرسم أدناه، فما هي مساحة الغرفة؟



٢- رسم علي لوحة لها سبعة أضلاع متساوية في الطول، طول كل منها ٥ سم، ما محيط اللوحة؟ (ارسمي)

٣- رسم سعيد لوحة لها أربعة أضلاع متساوية، فإذا كان طول الضلع ٦ سم، فما محيط اللوحة؟

٤- إذا كان طول سياج المدرسة ١٠٠ متر و عرضها ٥٠ مترا، فما هو محيط المدرسة؟ (ارسمي)

٥- أرادت أمي أن تشتري غطاءً لطاولة الطعام، فإذا علمت أن طول الطاولة ٤ أمتار، و عرضها ٢ متر، فما مساحة الطاولة؟ (ارسمي)

٦- أرادت هدى أن تعرف مساحة غرفتها، فإذا علمت أن طول غرفتها ٤م، و عرضها ٣ متر، فما هي مساحتها؟ (ارسمي)

٧- رسمت سيما لوحة، أطوالها كما هو مبين في الرسم، أوجد مساحتها.

