

تم تحميل هذا الملف من موقع المناهج البحرينية



* للحصول على أوراق عمل لجميع الصفوف وجميع المواد اضغط هنا

<https://almanahj.com/bh>

* للحصول على أوراق عمل لجميع مواد الصف الثالث اضغط هنا

<https://almanahj.com/bh/3>

* للحصول على جميع أوراق الصف الثالث في مادة رياضيات ولجميع الفصول, اضغط هنا

<https://almanahj.com/bh/3math>

* للحصول على أوراق عمل لجميع مواد الصف الثالث في مادة رياضيات الخاصة بـ الفصل الثاني اضغط هنا

<https://almanahj.com/bh/3math2>

* لتحميل كتب جميع المواد في جميع الفصول للـ الصف الثالث اضغط هنا

<https://almanahj.com/bh/grade3>

للتحدث إلى بوت على تلغرام: اضغط هنا

https://t.me/omcourse_bot



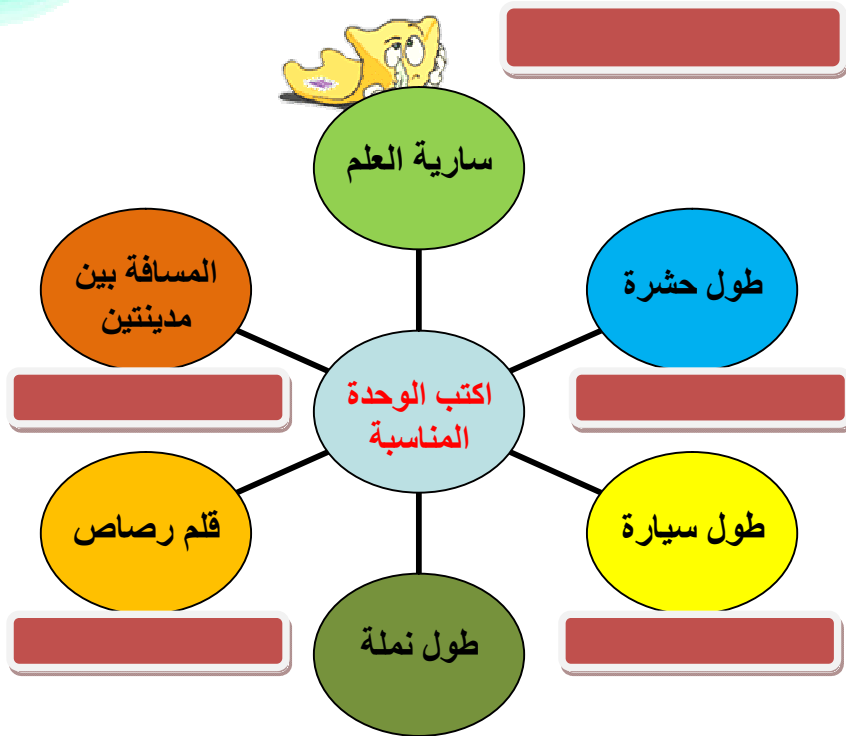

تقويم مهارات الرياضيات

الصف الثالث

اسم الطالبة :

رقم المهارة	المهارة	أتقنت	لم تتقن	ملاحظات المعلمة
20	اختيار وحدات الطول المناسبة لتقدير أطوال الأشياء وقياسها*			

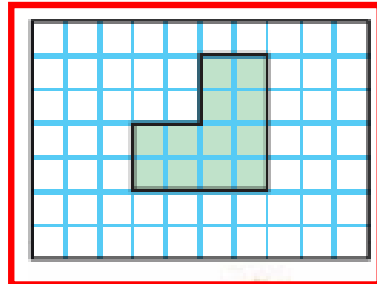

أختار الوحدة المناسبة (ملم ، سم ، م ، كم) لقياس كل من الأطوال الآتية :





رقم المهارة	المهارة	أتقنت	لم تتقن	ملاحظات المعلمة
21	حساب محيط شكل			
22	إيجاد مساحة شكل هندسي			


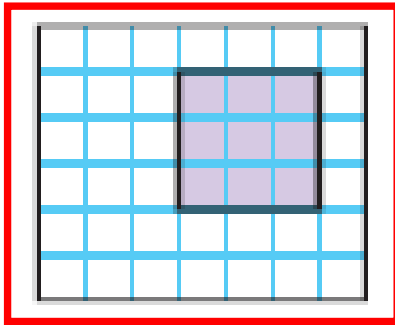
أجد محيط كل شكل من الأشكال التالية :



.....

.....

أجد مساحة كل شكل من الأشكال التالية :



.....

.....