

تم تحميل هذا الملف من موقع المناهج البحرينية



*للحصول على أوراق عمل لجميع الصفوف وجميع المواد اضغط هنا

<https://almanahj.com/bh>

* للحصول على أوراق عمل لجميع مواد الصف الثالث اضغط هنا

<https://almanahj.com/bh/3>

* للحصول على جميع أوراق الصف الثالث في مادة رياضيات ولجميع الفصول, اضغط هنا

<https://almanahj.com/bh/3math>

* للحصول على أوراق عمل لجميع مواد الصف الثالث في مادة رياضيات الخاصة بـ الفصل الثاني اضغط هنا

<https://almanahj.com/bh/3math2>

* لتحميل كتب جميع المواد في جميع الفصول للـ الصف الثالث اضغط هنا

<https://almanahj.com/bh/grade3>

* لتحميل جميع ملفات المدرس لبنى المناعي وحياة المساعيد وأمنة جناحي اضغط هنا

للتحدث إلى بوت على تلغرام: اضغط هنا

https://t.me/omcourse_bot



الكسور بوصفها أجزاء من الكل

الصف الثالث الابتدائي

2019-2020م

مديرة المدرسة : أ. آمنة جناحي

منسقة القسم : أ. حياة المساعيد

إعداد : أ. لبنى المناعي

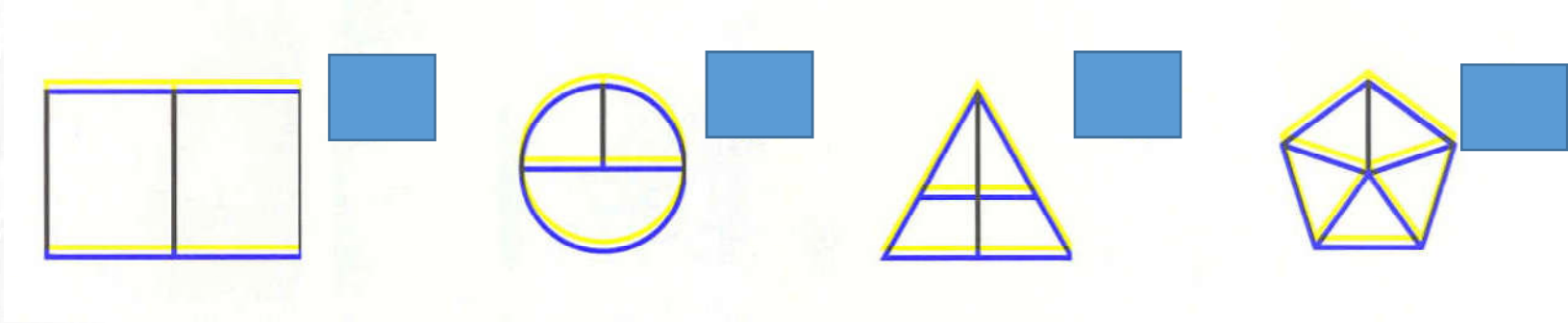


أهداف الدرس

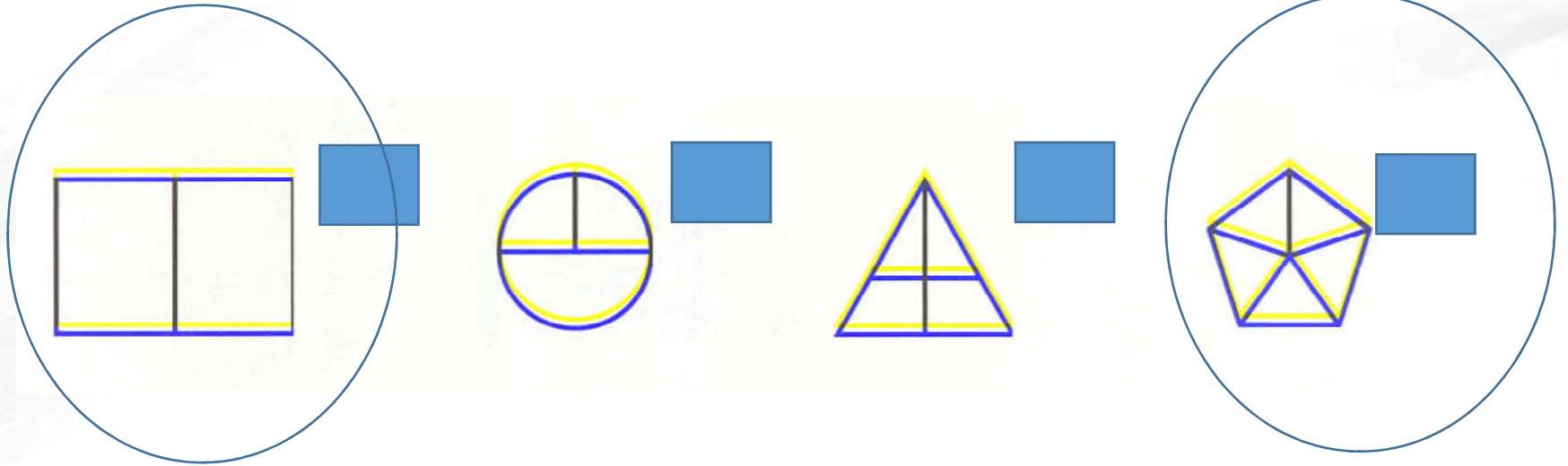
في نهاية العرض يتوقع من الطالبة:

١. أن تقرأ الكسور كأجزاء من الكل
وكتابتها بصورة صحيحة

ضعي دائرة على الشكل المتطابق

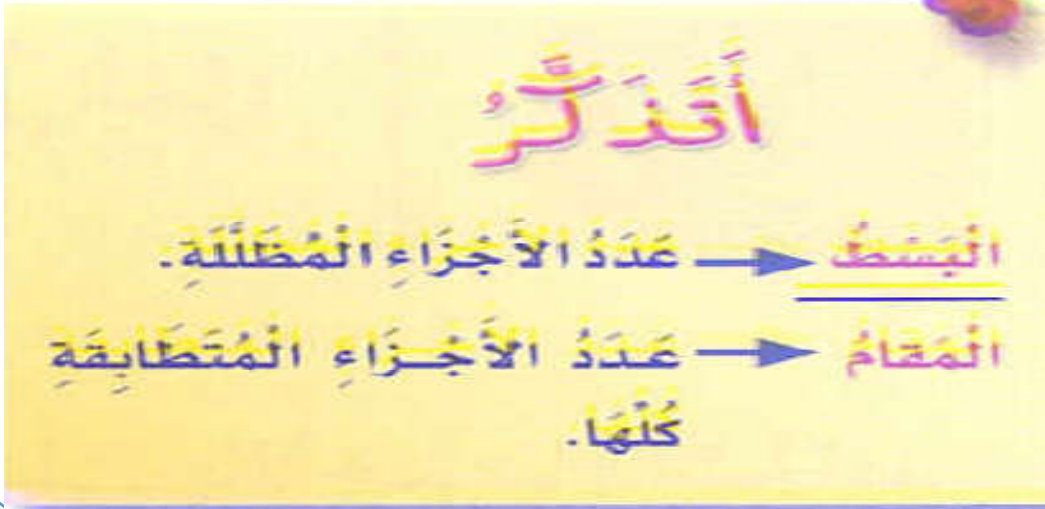


تأكدي من إجاباتك




عند تقسم الشكل يجب أن تكون جميع الأجزاء
متطابقة

الكسر : هو عدد يدل على جزء من الكل
أو من مجموعة أشياء



أحفظ

قراءة الكسور وكتابتها



عَدُّ الأجزاء الملوَّنة بالأخضر. $\frac{2}{3}$

عَدُّ الأجزاء المتطابقة كلها. $\frac{3}{3}$

$\frac{2}{3}$

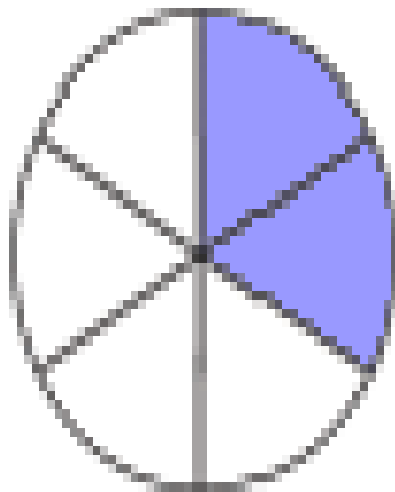
أَكْتُبْ ::

ثُلثَانِ

وَأَقْرَأْهُ:

لِذَا $\frac{2}{3}$ أَوْ ثُلثَا الشَّكْلِ لَوْنُهُمَا أَخْضَرُ.

ارسم صورة لأمثل الكسور التالية كما في
المثال :

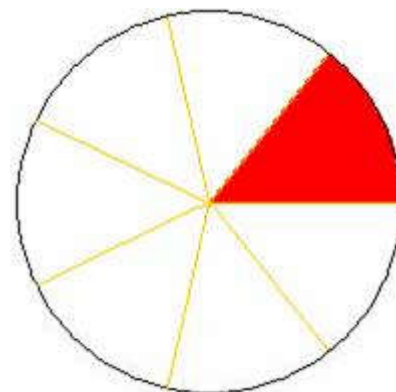

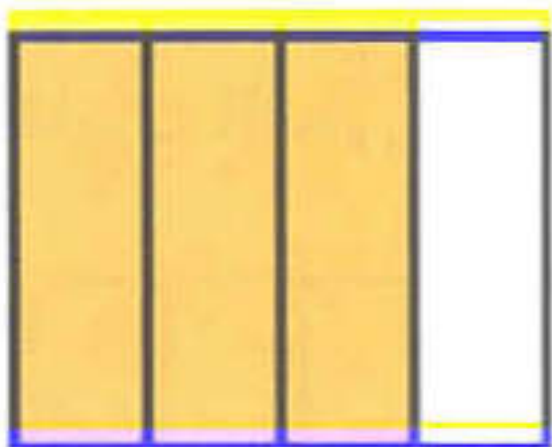


سدسين

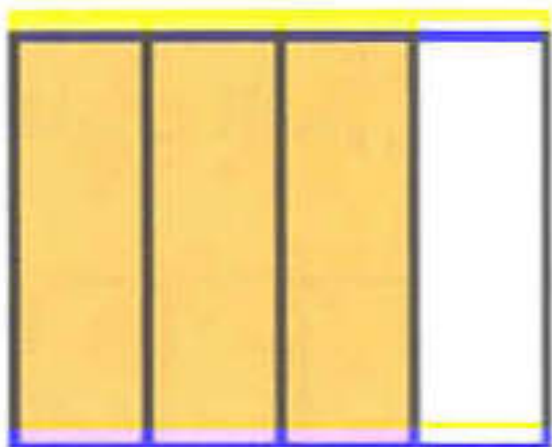
خمسة أثمان

ربع


اكتب الكسر الذي يمثل الجزء المظلل



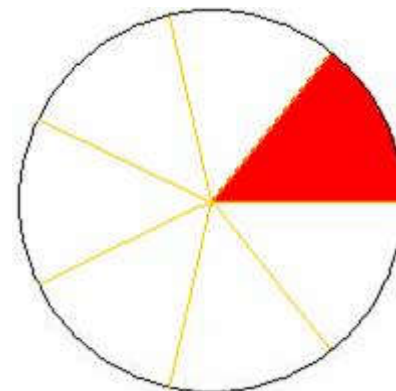
تحققي من الإجابات



$$\frac{3}{4}$$



$$\frac{1}{2}$$



$$\frac{1}{7}$$



التدريب على حل الاسئلة
الموجودة في كتاب التمارين
صفحة 31