

تم تحميل هذا الملف من موقع المناهج البحرينية

الملف نشاط الدرس الثالث أشكال سطح الأرض

[موقع المناهج](#) ⇐ ⇐ [الصف الثالث](#) ⇐ [المواد الاجتماعية](#) ⇐ [الفصل الأول](#)

روابط مواقع التواصل الاجتماعي بحسب الصف الثالث

--	--	--	--

روابط مواد الصف الثالث على تلغرام

الرياضيات	اللغة الانجليزية	اللغة العربية	التربية الاسلامية
---------------------------	----------------------------------	-------------------------------	-----------------------------------

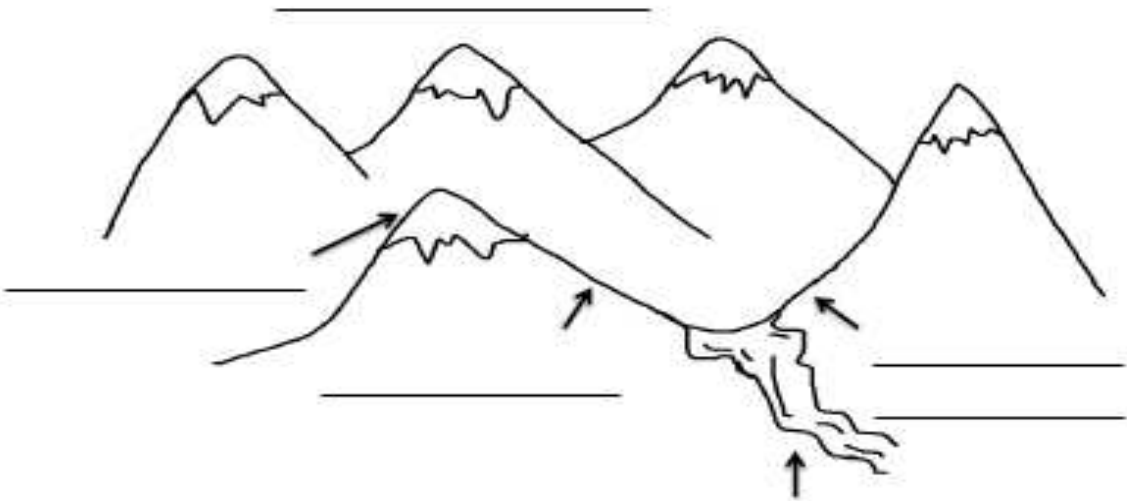
المزيد من الملفات بحسب الصف الثالث والمادة المواد الاجتماعية في الفصل الأول

أسئلة القارات والمحيطات	1
أسئلة المواقع الأثرية في بلاد	2
أوراق عمل الجهات الأربعة	3
أوراق عمل الجهات الأصلية والفرعية وتطور وسائل النقل في البر وتطور وسائل النقل في البحر وتطور وسائل النقل في الجو	4
نشاط تقويمي للجهات الأصلية والفرعية	5

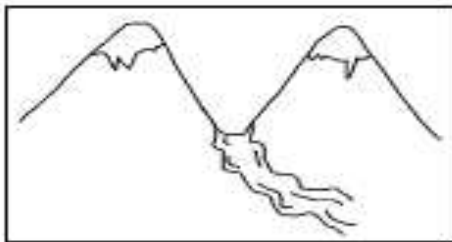
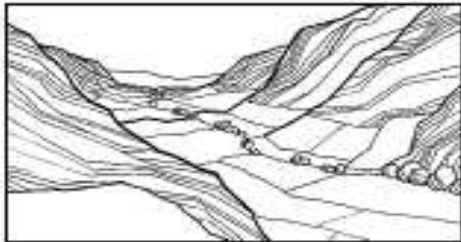


السؤال ٢ : اكتب أقسام الجبل التالي :

وادي \ سفح \ سلسلة جبلية \ قدم الجبل \ قمة



السؤال ٣ : املا الفراغ بما يناسبه: (وادٍ جاف \ وادٍ يجري به نهر)



السؤال (١) : اصل بين كل شكل من اشكال سطح الأرض بالصورة التي تدل عليه :



السهل



الجبل



الوادي



الهضبة



سلسلة جبلية