

تم تحميل هذا الملف من موقع المناهج البحرينية



نشاط الضرب

موقع المناهج ← المناهج البحرينية ← الصف الثالث ← رياضيات ← الفصل الأول ← ملفات متنوعة ← الملف

تاريخ إضافة الملف على موقع المناهج: 01:21:28 2024-12-07

ملفات اكتب للمعلم اكتب للطالب الاختبارات الكترونية الاختبارات ا حلول ا عروض بوربوينت ا أوراق عمل
منهج انجليزي ا ملخصات و تقارير ا مذكرات و بنوك ا الامتحان النهائي للمدرس

المزيد من مادة
رياضيات:

التواصل الاجتماعي بحسب الصف الثالث



صفحة المناهج
البحرينية على
فيسبوك

الرياضيات

اللغة الانجليزية

اللغة العربية

التربية الاسلامية

المواد على تلغرام

المزيد من الملفات بحسب الصف الثالث والمادة رياضيات في الفصل الأول

نشاط الضرب	1
نشاط الضرب	2
نشاط الضرب	3
نشاط الضرب	4
نشاط الضرب	5

نشاط

تشخيصي تدريبي تقويمي إثرائي علاجي



الاسم:

الصف: ٣ /

التاريخ: / / ٢٠٢٤ م

الكفاية

يضرب عدداً في آخر في حدود ٩ × ٩

مستوى الأداء

ممتاز

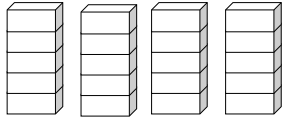
جيد جدا

جيد

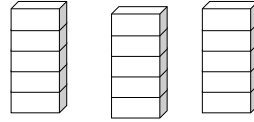
متابعة

كُونِ عملية ضرب، ثم أجد ناتج الضرب:

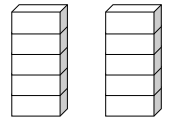
★



----- = ٤ × ٥



----- = ٣ × ٥



----- = ٢ × ٥

★★

----- = ١١ × ٥

----- = ٦ × ٥

----- = ٤ × ٥

----- = ٩ × ٥

----- = ٧ × ٥

----- = ٥ × ٥

----- = ١٠ × ٥

----- = ٨ × ٥

----- = ١٢ × ٥

★★★

أكتب الأعداد المفقودة:

٣٥ = ----- × ٥

٢٠ = ----- × ٥

٤٠ = ----- × -----

٢٥ = ----- × -----

أحل المسألة: اشترى محمد لعبة، فإذا دفع ٧ ورقات من فئة ٥ دينار، وأعاد له البائع ٣ دينار، كم سعر اللعبة

.....