

تم تحميل هذا الملف من موقع المناهج البحرينية



نشاط الضرب

موقع المناهج ← المناهج البحرينية ← الصف الثالث ← رياضيات ← الفصل الأول ← ملفات متنوعة ← الملف

تاريخ إضافة الملف على موقع المناهج: 01:17:02 2024-12-07

ملفات اكتب للمعلم اكتب للطالب الاختبارات الكترونية | اختبارات | حلول | عروض بوربوينت | أوراق عمل
منهج انجليزي | ملخصات و تقارير | مذكرات و بنوك | الامتحان النهائي للمدرس

المزيد من مادة
رياضيات:

التواصل الاجتماعي بحسب الصف الثالث



صفحة المناهج
البحرينية على
فيسبوك

الرياضيات

اللغة الانجليزية

اللغة العربية

التربية الاسلامية

المواد على تلغرام

المزيد من الملفات بحسب الصف الثالث والمادة رياضيات في الفصل الأول

نشاط الضرب

1

مذكرة التفوق في جدول الضرب

2

مذكرة جدول الضرب

3

نشيد جدول الضرب

4

نشاط إثرائي الوقفة التقويمية الأولى

5

نشاط

تشخيصي تدريبي تقويمي إثرائي علاجي



الاسم:

الصف: ٣ /

التاريخ: / / ٢٠٢٤ م

الكفاية

يضرب عدداً في آخر في حدود 9×9

مستوى الأداء

ممتاز


جيد جداً


جيد


متابعة

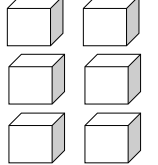
اكتب جملة الضرب المناسبة لكل شبكة:

★









$$= 2 \times 3$$

★★

أجد ناتج الضرب:

$$----- = 6 \times 9 \quad ----- = 3 \times 9 \quad ----- = 0 \times 6$$

$$----- = 7 \times 8 \quad ----- = 7 \times 7 \quad ----- = 6 \times 8$$

$$----- = 8 \times 8 \quad ----- = 11 \times 9 \quad ----- = 7 \times 6$$

★★★

$$----- = 12 \times 6 \quad 63 = ----- \times 9$$

$$48 = ----- \times 3 \times 2 \quad ----- = 5 \times 3 \times 3$$

مهارات التفكير العليا: يملك أحمد ٨٤ ديناراً، فإذا أراد أن يشتري ٧ ألعاب سعر كل لعبة بـ ١١ ديناراً، فكم ديناراً يحتاج كي يستطيع أن يشتري الألعاب؟

