

تم تحميل هذا الملف من موقع المناهج البحرينية



*للحصول على أوراق عمل لجميع الصفوف وجميع المواد اضغط هنا

<https://almanahj.com/bh>

* للحصول على أوراق عمل لجميع مواد الصف الثالث اضغط هنا

<https://almanahj.com/bh/3>

* للحصول على جميع أوراق الصف الثالث في مادة رياضيات ولجميع الفصول, اضغط هنا

<https://almanahj.com/bh/3math>

* للحصول على أوراق عمل لجميع مواد الصف الثالث في مادة رياضيات الخاصة بـ الفصل الثاني اضغط هنا

<https://almanahj.com/bh/3math2>

* لتحميل كتب جميع المواد في جميع الفصول للـ الصف الثالث اضغط هنا

<https://almanahj.com/bh/grade3>

* لتحميل جميع ملفات المدرس لبنى المناعي وحياة المساعيد وأمنة جناحي اضغط هنا

للتحدث إلى بوت على تلغرام: اضغط هنا

https://t.me/omcourse_bot



قراءة الساعة

الصف الثالث الابتدائي

2020-2019م


أهداف الدرس

في نهاية العرض يتوقع من الطالبة:

١. أن تقرأ الساعة بصورة صحيحة.

١. أن تميز بين الساعة العادية و
الساعة الرقمية بصورة صحيحة.

ضعي دائرة على الساعة الثامنة



الإجابة الصحيحة هي



لقراءة الساعة أميز بين :
*العقرب الأقصر يشير إلى عقرب
الساعات



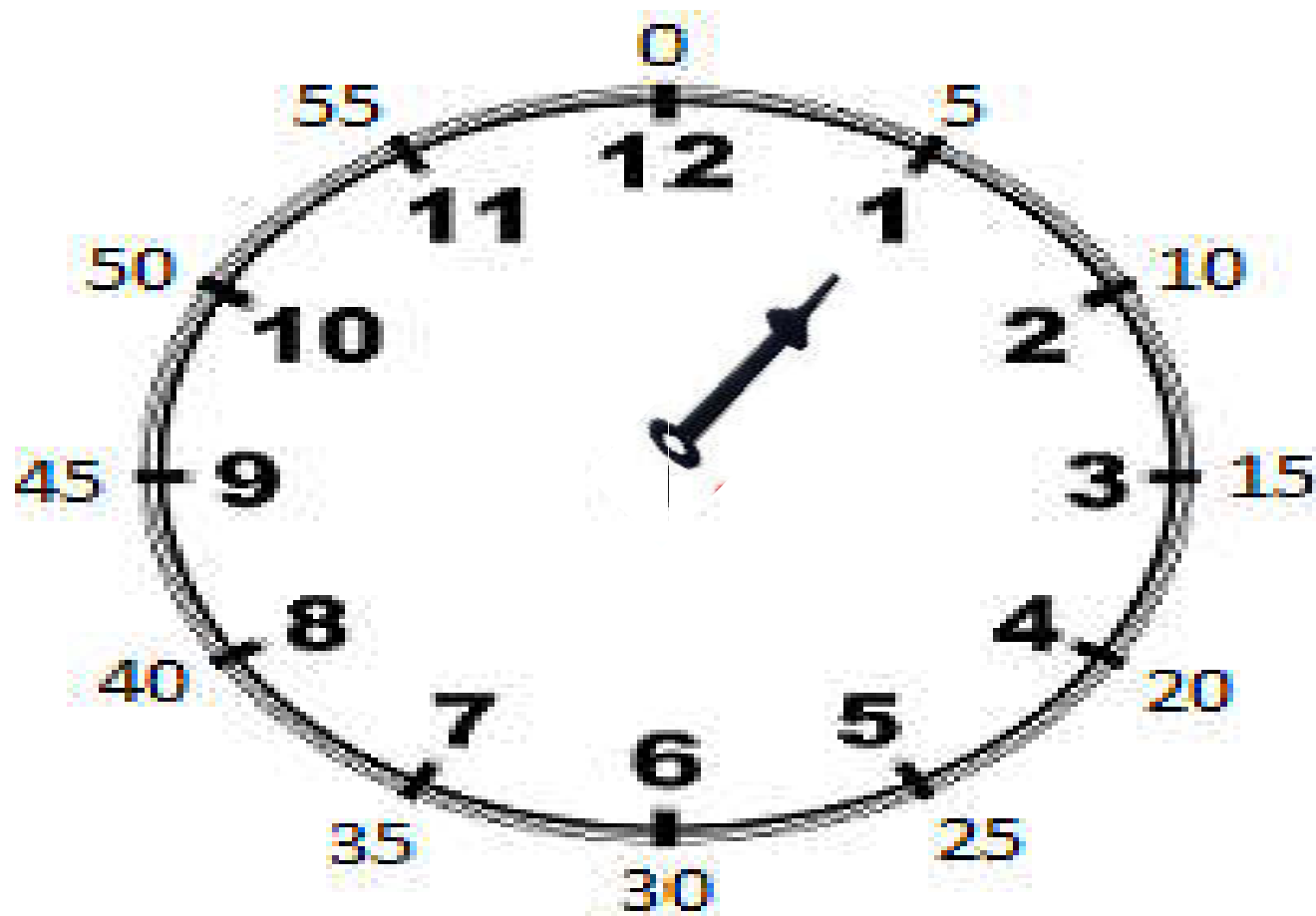
*العقرب الأطول هو عقرب الدقائق
أبدأ عند العدد 12 وأعد بالخمسات
45-40-35-30-25-20-15-10-5
55-50




لقراءة هذه الساعة :
ألاحظ أولاً عقرب الساعات .
ثم عقرب الدقائق .
فتكون الساعة الثانية و عشر
دقائق .



انتبه أثناء قراءة الساعة إلى عقرب
الدقائق ولاحظ القفز بالخمسات



اكتبى الزمن التي تشير إليه الساعات التالية :





تحققي من الإجابات



5:08



12:20

لقراءة الساعة الرقمية أبدأ بالساعات ثم الدقائق



الواحدة و
خمسين دقيقة



الثالثة و أربع
وأربعين دقيقة

التدريب على حل الاسئلة
الموجودة في كتاب التمارين
صفحة 19