

تم تحميل هذا الملف من موقع المناهج البحرينية



* للحصول على أوراق عمل لجميع الصفوف وجميع المواد اضغط هنا

<https://almanahj.com/bh>

* للحصول على أوراق عمل لجميع مواد الصف الثالث اضغط هنا

<https://almanahj.com/bh/3>

* للحصول على جميع أوراق الصف الثالث في مادة اجتماعيات ولجميع الفصول, اضغط هنا

<https://almanahj.com/bh/3social>

* للحصول على أوراق عمل لجميع مواد الصف الثالث في مادة اجتماعيات الخاصة بـ الفصل الأول اضغط هنا

<https://almanahj.com/bh/3social1>

* لتحميل كتب جميع المواد في جميع الفصول للـ الصف الثالث اضغط هنا

<https://almanahj.com/bh/grade3>

* لتحميل جميع ملفات المدرس فاطمة الزهراء اضغط هنا

[almanahjbhbot/me.t//:https](https://t.me/almanahjbhbot)


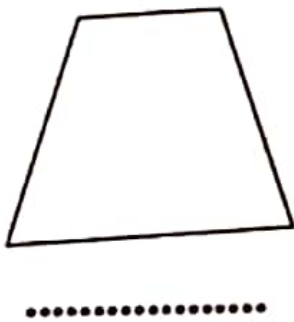
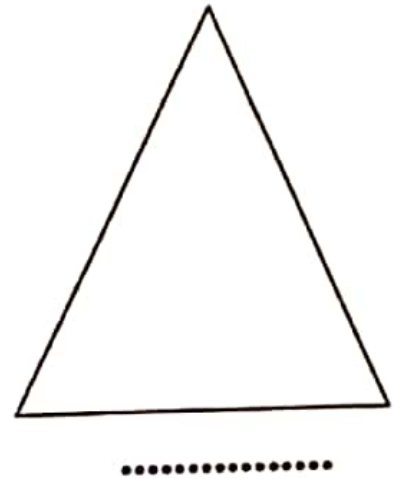
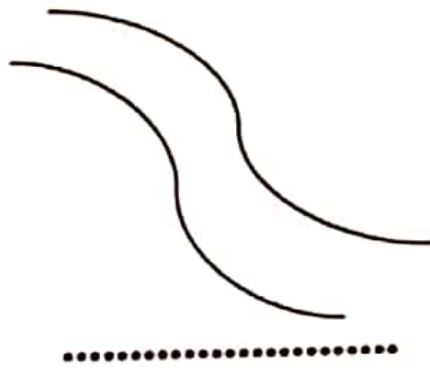
للتحدث إلى بوت على تلغرام: اضغط هنا

الدرس الثالث :- اشكال السطح --- 1

س 1 :- اكمل الجمل التالية باختيار الكلمات المناسبة فيما يلي :-
السهل - الجبل - الوادي - الهضبة

- 1- أرض منبسطة يسهل السكن والزراعة فيها.
- 2- أرض مرتفعة جدا تشرف عما حولها من سطح الأرض .
- 3- مكان منخفض من الأرض بين مرتفعين .
- 4- أرض منبسطة ومرتفعة تتخللها أودية عميقة .

س 2 :- اكتب اسم الشكل التالي -- الجبل -- وادي -- هضبة --- سهل



س4:- عرف كلاً مما يأتي حسبما درست :- انظر صفحات المصطلحات آخر الكتاب المدرسي :-

1- السلسلة الجبلية:-.....

2- السهل:-.....

3- الهضبة:-.....

4- الجبل وأقسامه:-

.....

س3: ضع علامة صح (√) أو خطأ (x) بجوار الأسئلة فيما يلي

- 1- عندما تنظر الى الأرض من الفضاء تجدها كروية . ()
- 2- من الأراضي السهلية في البحرين سهل البقيع . ()
- 3- اذا اتصلت مجموعة من الجبال معاً تسمى سلسلة جبلية . ()
- 4- يتألف الجبل من أربعة أقسام . ()
- 5- في مملكة البحرين منطقة مرتفعة هي جبل الدخان . ()
- 6- توجد الأودية الجافة حول الأنهار . ()
- 8- الهضاب تصلح للزراعة والسكن . ()
- 8- يوجد هضاب في مملكة البحرين . ()
- 9- لا يوجد سلاسل جبلية في البحرين . ()
- 10- يوجد أودية نهريّة في مملكة البحرين . ()

س3 :- ضع علامة صح (√) أو خطأ (x) فيما يلي :-

- 1- الشاطئ هو القسم من اليابسة الذي يجاور البحر . ()
- 2- شواطئ البحرين مستقيمة الشكل . ()
- 3- الرأس هو جزء من اليابس داخل في الماء ()
- 4- الخليج هو جزء من الماء داخل اليابسة ()
- 5- الجزيرة جزء من اليابس محاط بالأشجار من جميع الجهات . ()
- 6- الأرخبيل هو مجموعة من الجزر المتباعدة في الماء . ()
- 7- من الجزر الهامة في البحرين جزيرة حوار . ()
- 8- يتكون سطح البحرين من 36 جزيرة . ()
- 9- المنطقة التي تبعد عن البحر تسمى شاطئ . ()
- 10- من الروفوس الهامة في البحرين رأس مسندم ()

الدرس الرابع : عن أشكال السطح -2

س1 أختار الكلمة المناسبة وضعها مكان الفراغ التالي :-

(الأرخبيل - الرأس - الخليج - الجزيرة - الشاطئ)

- 1- منطقة من اليابس الداخلة في الماء .
- 2- هو جزء من البحر (الماء) داخل في اليابس .
- 3- هو المنطقة من اليابس التي تجاور البحر .
- 4- هي مجموعة من الجزر المتجاورة
- 5- هي مساحة من اليابس تحيط بها المياه من كل جانب .

س2: السؤال الثاني :- أختار الجواب الصحيح بوضع دائرة حوله :-

المحرق

الزلاق

1- من الرؤوس في البحرين رأس :-

الكاب

أم النعسان

2- من الخلجان في البحرين خليج :-

القليعة

البحرين

3- من الجزر في البحرين جزيرة :-

أرخبيل

خلجان

4- يتكون سطح البحرين من من الجزر .

5- من المناطق المرتفعة في البحرين جبل :-

أفرست

الدخان

6- توجد محطة للأقمار الاصطناعية في رأس أبي :-

أبي جرجور

البر

7- من المناطق السياحية في البحرين جزر :-

حوار

المحرق

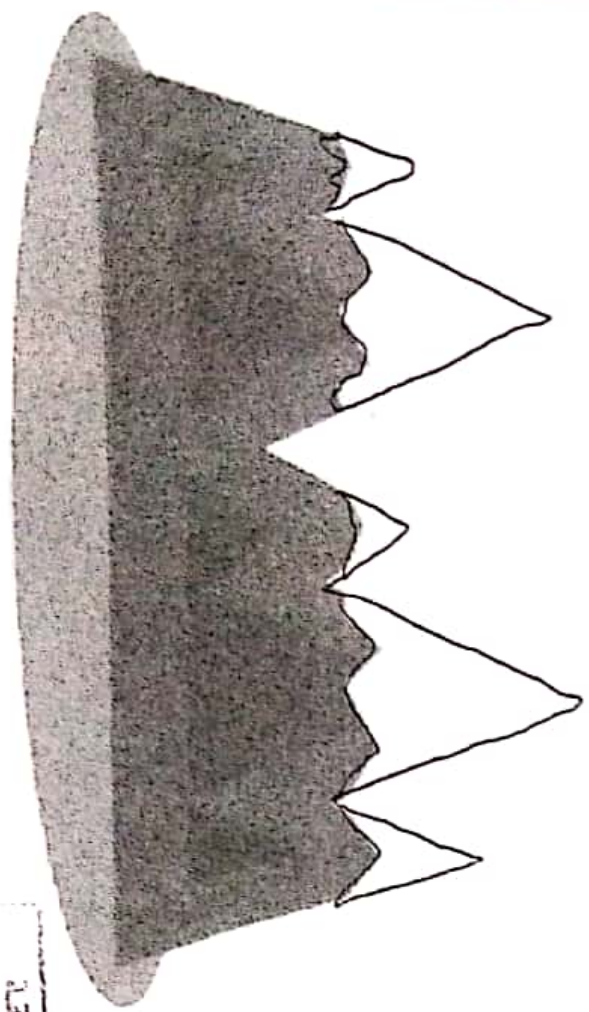
8- هو منطقة منخفضة تحمل مياه البحر :

الوادي

الخليج

* اكمل الفراغات بكلمات مناسبة:

١. مجموعة من الجبال متصلة ببعضها البعض. ()
 ٢. منطقة في البحرين اراضيها سهلية. ()
 ٣. جبل يوجد في مملكة البحرين. ()
- * اكتب على الرسم اقسام الجبل:
١. قمة الجبل / سفح الجبل / المنحدر / سلسلة جبلية / الوادي



شكل سطح الأرض (١) / نشاط تدريبي صفي

صل بين كل صورة والكلمة المناسبة لها

- الهضبة
- الجبل
- الوادي
- السهل

