

تم تحميل هذا الملف من موقع المناهج البحرينية



الملف الاختبار التشخيصي القبلي للفصل الدراسي الأول للصف الرابع الإبتدائي في مادة الاجتماعيات

[موقع المناهج](#) ⇐ ⇐ [الصف الرابع](#) ⇐ [المواد الاجتماعية](#) ⇐ [الفصل الأول](#)

روابط مواقع التواصل الاجتماعي بحسب الصف الرابع



روابط مواد الصف الرابع على تلغرام

[الرياضيات](#)

[اللغة الانجليزية](#)

[اللغة العربية](#)

[التربية الاسلامية](#)

المزيد من الملفات بحسب الصف الرابع والمادة المواد الاجتماعية في الفصل الأول

ملخص شامل	1
ملخص أسئلة وأجوبة لدرس أحب وطني وأحافظ عليه	2
ملخص أسئلة وأجوبة لدرس خدمات تقدمها حكومة بلادي	3
مذكرة مراجعة مع الإجابة	4
مذكرة مراجعة	5

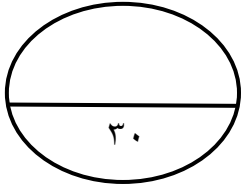
الاختبار التشخيصي القبلي للفصل الدراسي الأول للصف الرابع الابتدائي في مادة
 الاجتماعيات للعام الدراسي ٢٠٢١م / ٢٠٢٢م

درجة الطالب	الدرجة المطلوبة	رقم السؤال	المواد الاجتماعية
	٣٠	الأول	الكفاية : ١- يوظف الصور والأشكال لاستخلاص الحقائق والمعلومات منها. ٢- يحدد الجهات الأصلية والفرعية في الطبيعة وعلى المخطط والخريطة. ٣- يبين دور الإنسان في استثمار الموارد المختلفة.
	٣٠	الثاني	
	٢١	الثالث	
	١٩	الرابع	
	١٠٠	المجموع	

ملاحظات مهمة :

١. الدخول إلى الاختبار التشخيصي القبلي باستخدام ايميل الطالب نفسه فقط.
٢. اكتب رقمك الشخصي بشكل صحيح.
٣. إذا لم تجد صفك اختر (الصف غير موجود) ثم اكتب صفك.
٤. أجب عن جميع الأسئلة وتأكد من صحة إجابتك قبل الضغط على زر الإرسال.
٥. يمكنك الحل مرة واحدة فقط.
٦. زمن الاختبار ساعة ونصف.





السؤال الأول : اختر الإجابة الصحيحة : كل نقطة ٣ علامات

١- الحبوب والفواكه والخضار التي نحصل عليها من الزراعة هي:

أ. محاصيل زراعية.

ب. منتوجات حيوانية.

ج. مصنوعات غذائية.

٢- الأشياء التي نأخذها من البحر هي:

أ. موارد البر.

ب. موارد البحر.

ج. موارد البر والبحر.

٣- الشخص الذي ينتج البضائع، وأيضاً الذي يقدم الخدمات:

أ. البائع.

ب. المستهلك.

ج. المنتج.

٤- الجهة التي تشرق منها الشمس:

أ. الشمال.

ب. الشرق.

ج. الجنوب.

٥- من أسماء البحار الموجودة في العالم:

أ. البحر الأحمر.

ب. المحيط الهادي.

ج. المحيط الهندي.

٦- جميع ما يلي من المحاصيل الزراعية ما عدا :

أ. النخيل.

ب. الطماطم.

ج. الحليب.

٧- تُقسم الكرة الأرضية إلى قسمين متساويين:

أ. النصف الغربي والجنوبي.

ب. النصف الجنوبي والشرقي.

ج. النصف الشمالي والجنوبي.

٨- يفصل بين نصفي الكرة الأرضية :

أ. خط الاستواء.

ب. مربع الاستواء.

ج. مثلث الاستواء.

٩- من حاجات الإنسان:

أ. الماء والطعام.

ب. المسكن.

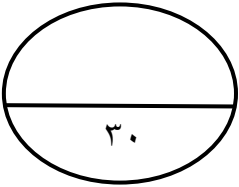
ج. جميع ما سبق صحيح.

١٠- يستعمل الانسان اللؤلؤ والمرجان:

أ. صناعة الحلي.

ب. صناعة الألعاب .

ج. صناعة الأثاث.



السؤال الثاني : اختر ما إذا كانت العبارة صحيحة أم خاطئة : كل نقطة ٣ علامات

١- من واجبنا عدم المحافظة على الماء والإسراف فيه.

أ. العبارة صحيحة

ب. العبارة خاطئة

٢- استعمل الانسان البحار للملاحة والمواصلات.

أ. العبارة صحيحة

ب. العبارة خاطئة

٣- يستعمل النفط والغاز الطبيعي في تشغيل محطات توليد الكهرباء.

أ. العبارة صحيحة

ب. العبارة خاطئة

٤- حركة تقدم مياه البحر وتراجعها نسميها المد والجزر.

أ. العبارة صحيحة

ب. العبارة خاطئة

٥- تُنفق الأموال التي نحصل عليها من بيع النفط في بناء المدارس والمستشفيات وإنشاء الطرق وغيرها.

أ. العبارة صحيحة

ب. العبارة خاطئة

٦- القارة هي مساحة واسعة من اليابسة.

أ. العبارة صحيحة

ب. العبارة خاطئة

٧- تقع مملكة البحرين في قارة أوروبا.

أ. العبارة صحيحة

ب. العبارة خاطئة

٨- إذا اتجهنا من خط الاستواء إلى أقصى الجنوب نصل إلى القطب الجنوبي.

أ. العبارة صحيحة

ب. العبارة خاطئة

٩- من موارد البحر ملح الطعام والأسماك.

أ. العبارة صحيحة

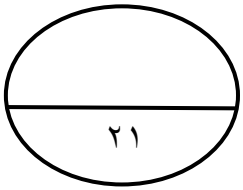
ب. العبارة خاطئة

١٠- من موانئ البحرين ميناء مسقط وميناء الأحمدى.

أ. العبارة صحيحة

ب. العبارة خاطئة

موقع
المناهج البحرينية
almanahj.com/bh



السؤال الثالث : تحليل صور .

تأمل الصور التالية التي تمثل أشكال سطح الأرض، ثم اختر اسم الشكل: كل نقطة ثلاث علامات



أ. أرخبيل

ب. هضبة

د. رأس



د. وادي

ب. سهل

أ. جبل




أ. بحيرة ب. وادٍ جاف د. ساحل
المناهج البحرينية
almanahj.com/bh



أ. قدم الجبل ب. قمة د. سهل



أ. خليج ب. جزيرة د. سفح الجبل



أ. وادٍ يجري فيه نهر ب. كهف د. شاطئ

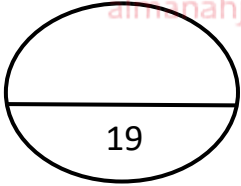


د. أرخبيل

ب. سهل

أ. هضبة

موقع
المناهج البحرينية
almanahj.com/bh



السؤال الرابع: تأمل الصورة أدناه ، ثم أجب عن الأسئلة التي تليها.
كل نقطة ٣ علامات عدا السؤال الأخير كل نقطة علامة.



١- ماذا يُسمى هذا الشكل؟

ج. المفتاح.

ب. المخطط

أ. وردة الجهات.

٢- ماذا تسمى الجهة التي نلاحظها بين الجنوب والغرب؟

ج. الشمال الغربي.

ب. الجنوب الغربي.

أ. الجنوب الشرقي.

٣- ماذا تسمى الجهة التي نلاحظها بين الشمال والشرق؟

أ. الجنوب الشمالي. ب. الجنوب. ج. الشمال الشرقي.

٤- ماذا تُسمى الجهة التي نلاحظها بين الشمال والغرب؟

أ. الشمال. ب. الشمال الغربي. ج. الشمال الشرقي.

٥- ماذا تسمى الجهات الموجودة بين الجهات الأصلية (الموجودة في الصورة باللون الأزرق)؟

الجهات الفرعية.

٦- سم الجهات الأصلية الموجودة في وردة الجهات باللون الأصفر.

الشمال - الجنوب - الشرق - الغرب.

انتهت الأسئلة