

تم تحميل هذا الملف من موقع المناهج البحرينية



* للحصول على أوراق عمل لجميع الصفوف وجميع المواد اضغط هنا

<https://almanahj.com/bh>

* للحصول على أوراق عمل لجميع مواد الصف الرابع اضغط هنا

<https://almanahj.com/bh/4>

* للحصول على جميع أوراق الصف الرابع في مادة رياضيات ولجميع الفصول, اضغط هنا

<https://almanahj.com/bh/4math>

* للحصول على أوراق عمل لجميع مواد الصف الرابع في مادة رياضيات الخاصة بـ الفصل الثاني اضغط هنا

<https://almanahj.com/bh/4math2>

* لتحميل كتب جميع المواد في جميع الفصول للـ الصف الرابع اضغط هنا

<https://almanahj.com/bh/grade4>

* لتحميل جميع ملفات المدرس مدرسة سترة الإبتدائية للبنين اضغط هنا

للتحدث إلى بوت على تلغرام: اضغط هنا

https://t.me/omcourse_bot



الصف الرابع الابتدائي





٦-٩

تطابق الأشكال

يتعرف الطالب الى الأشكال المتطابقة.


الهدف





هذه صورة لخلايا قرص النحل.

خلايا القرص لها الشكل نفسه والقياس نفسه.






هذه المثلثات لها الشكل نفسه والقياس نفسه.


المثلثات الأربعة متطابقة.

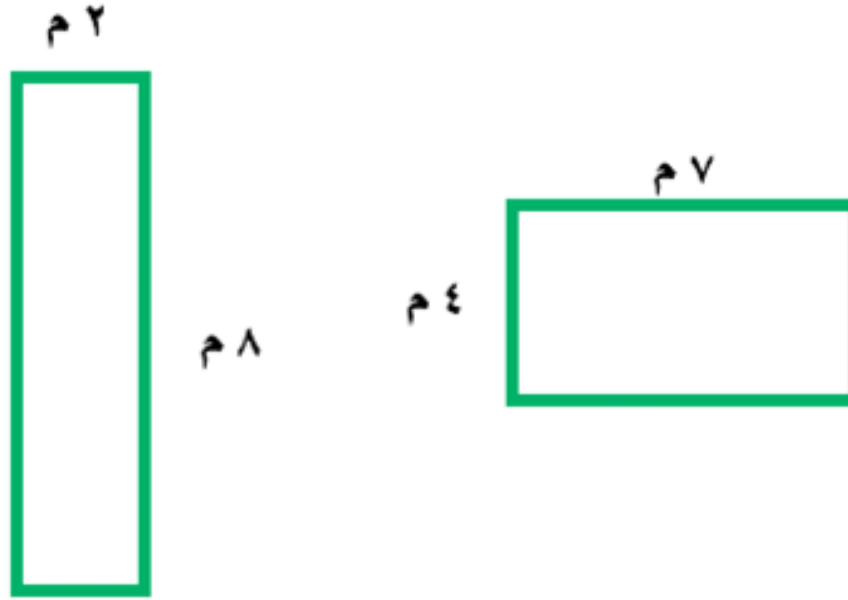






هذه المربّعات لها الشكل نفسه والقياس نفسه.

المربّعات الثمانية متطابقة.





هذان المستطيلان غير متطابقين.
حاول أن تعرف سبب عدم تطابقهما.



خلاصة


تطابق الأشكال

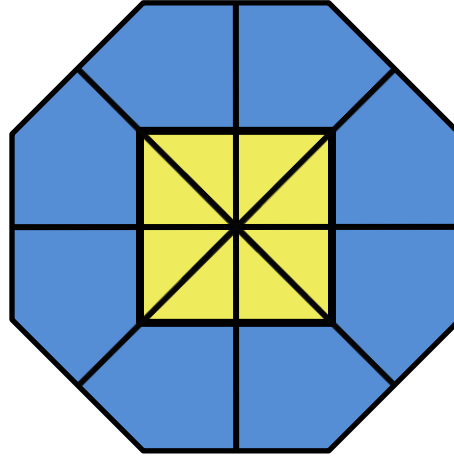
يتطابق الشكلان إذا كان لهما القياس نفسه
والشكل نفسه.



- ارسم مثلثين متطابقين.
- وضّح سبب تطابقهما.

- ارسم مربعين غير متطابقين.
- وضّح سبب عدم تطابقهما.






استعمل هذا التصميم لتكمل الفراغات التالية:



• عدد المثلثات الصفراء المتطابقة هو



• عدد المضلعات الزرقاء المتطابقة هو



• هل هاتان الدائرتان متطابقتان؟ نعم ، لا

